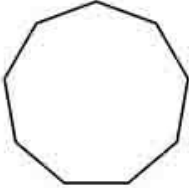


### 06-MA Study - Traffic Signs (Part 02)

Max Time Allowed: 5 min

Q.1) តើសញ្ញាមានរាងប្រាំបីជ្រុងមានន័យដូចម្តេច?



- A.  ទុកសិទ្ធិអោយគេ
- B.  ឈប់
- C.  ហាមឆ្លងកាត់
- D.  ព្រមាន

Q.2) តើសញ្ញានេះមានន័យអ្វី?



- A.  សញ្ញាសម្គាល់ផ្លូវ
- B.  សញ្ញាសម្គាល់ល្បឿន
- C.  សញ្ញាផ្លូវហាយវេអន្តររដ្ឋ
- D.  សញ្ញាផ្លូវហាយវេ

Q.3) តើសញ្ញានេះមានន័យអ្វី?



- A.  នៅជិតសាលារៀន
- B.  សំរាប់ថយល្បឿនដឹកនាំទៅឡើងទៅ
- C.  នៅលើផ្លូវប្រសព្វដែលមានផ្លូវច្រើន
- D.  នៅក្នុងតំបន់ការងារ

Q.4) នៅពេលពន្លឺពណ៌លឿងនៅខាងលើសញ្ញានេះអ្នកនឹងត្រូវ:



- A.  បើកទៅម្ខាងនៃផ្លូវរហូតទាល់តែពន្លឺឈប់ចាំង
- B.  ជានិច្ចកាលត្រូវឈប់ហើយប្រយ័ត្នកុមារដើរ
- C.  មិនបើកបរលឿនជាង 20 ម៉ាយក្នុងមួយម៉ោង
- D.  ជានិច្ចកាលបើកយឺតហើយប្រយ័ត្នកុមារដើរ

Q.5) ផ្លាកសញ្ញាពណ៌ទឹកក្រូចនិងឆ្នួតពណ៌ក្រហមនៅជាប់ពីក្រោយរថយន្តមានន័យថា:



- A.  រថយន្តមានសិទ្ធិត្រឹមត្រូវ
- B.  រថយន្តបើកយឺត
- C.  រថយន្តកំពុងផ្តុកបន្តកមានគ្រោះថ្នាក់
- D.  ការងារធ្វើថ្នល់នៅខាងមុខ

Q.6) សញ្ញាផ្លូវជាមួយផ្ទៃខាងក្រោយពណ៌ទឹកក្រូចត្រូវបានគេប្រើ:



- A.  នៅលើផ្លូវប្រសព្វដែលមានផ្លូវច្រើន
- B.  នៅក្នុងតំបន់ការងារ
- C.  នៅក្នុងតំបន់សាលា
- D.  នៅក្នុងតំបន់គ្មានការឆ្លងកាត់

Q.7) ប្រសិនបើមានទឹកដក់ជ្រៅនៅលើផ្លូវខាងមុខអ្នកគួរតែ:




- A.  ប្តូរទៅលេខ N នៅពេលដែលអ្នកបើកបរមានទឹកលើផ្លូវ
- B.  បើកយឺតនិងជៀសវាងធ្លាក់គ្រលុក
- C.  បើកបរតាមល្បឿនដែលបានកំណត់ដើម្បីធ្វើឱ្យវាឆ្លងកាត់ទឹក
- D.  បើកលឿននិងជៀសវាងធ្លាក់គ្រលុក

Q.8) តើអ្នកគួរបើកធ្លងកាត់ ពេលឃើញសញ្ញាបន្ទះបញ្ជូរបែបនេះយ៉ាងដូចម្តេច?



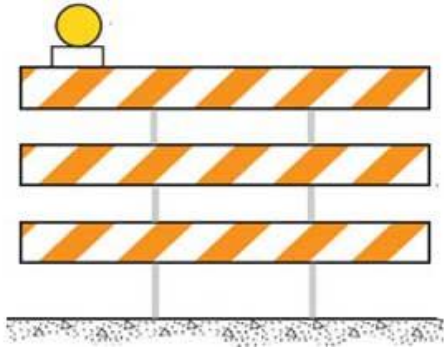
- A.  ទៅខាងឆ្វេង
- B.  ទៅខាងស្តាំ
- C.  ទៅសងខាង
- D.  ទៅត្រង់

Q.9) បន្ទះសញ្ញាមុខព្រំព្រា បង្ហាញសារមានន័យថា:



- A.  ផ្លូវខ្សែកោង
- B.  ផ្លូវបញ្ចូលគ្នានៅខាងស្តាំ
- C.  ផ្លូវបញ្ចូលគ្នានៅខាងឆ្វេង
- D.  ផ្លូវរាង

Q.10) តើអ្នកគួរឆ្លងកាត់រំពងដូចនេះយ៉ាងម៉េចទៅ?



- A.  ទៅខាងឆ្វេង
- B.  នៅលើផ្នែកណាមួយ
- C.  ទៅខាងស្តាំ
- D.  ទៅត្រង់

Q.11) តើសញ្ញានេះមានន័យអ្វី?



- A.  កំណត់កំពស់រថយន្ត
- B.  កំណត់ប្រវែងរថយន្ត
- C.  ផ្លូវតូចចង្អៀត
- D.  ការងារនៅខាងមុខ

Q.12) នៅពេលអ្នកឈានដល់សញ្ញាផ្លូវនេះអ្នកគួរតែ:



- A.  រក្សាល្បឿនរបស់អ្នករហូតដល់អ្នកទៅដល់តំបន់ល្បឿនយឺត
- B.  ចាប់ផ្តើមយឺតចុះដើម្បីអនុវត្តតាមការកំណត់ល្បឿនដែលបានបង្ហាញនៅខាងមុខ
- C.  មិនបើកបរលឿនជាង 45 ម៉ាយក្នុងមួយម៉ោង
- D.  បន្ថែមល្បឿនរបស់អ្នករហូតដល់អ្នកទៅដល់តំបន់ល្បឿនយឺត

Q.13) តើសញ្ញានេះមានន័យអ្វី?



- A.  ផ្លូវចំហៀង
- B.  បញ្ចូលចរាចរណ៍
- C.  ផ្លូវជាតិបែកចែកខាងមុខ
- D.  ចប់ផ្លូវខាងស្តាំ

Q.14) តើសញ្ញានេះមានន័យអ្វី?



- A.  ផ្លូវចង្អុលទៅខាងស្តាំ
- B.  ផ្លូវកោងទៅខាងស្តាំ
- C.  ផ្លូវចំហៀងខាងមុខ
- D.  ផ្លូវបញ្ចប់នៅខាងមុខ

Q.15) តើសញ្ញានេះមានន័យអ្វី?



- A.  ផ្លូវមានក្រួសរលុង
- B.  ផ្លូវរាងទៅមុខ
- C.  រអិលនៅពេលសើម
- D.  ផ្លូវមានខ្យល់ខ្លាំងនិកោងខាងមុខ

Q.16) សញ្ញានេះមានន័យថា:



- A.  មានសាលារៀននៅខាងមុខ
- B.  មានតំបន់ការងារមួយនៅខាងមុខ
- C.  មានការឈប់នៅខាងមុខ
- D.  មានចំណតឡានក្រុងនៅខាងមុខ

Q.17) តើផ្លូវកសញ្ញានេះមានន័យយ៉ាងណា?



- A.  អ្នកកំពុងខិតជិតដល់ផ្លូវរង្វង់មូល
- B.  រថយន្តអាចចូលទៅហាយវេ
- C.  អ្នកត្រូវបត់ត្រឡប់ក្រោយនៅពេលខាងមុខ
- D.  មិនមានហាងលក់ដូរ

Q.18) សញ្ញានេះប្រាប់អ្នកថា:



- A.  ល្បឿនអប្បបរមាដែលអ្នកត្រូវប្រើ
- B.  ល្បឿនអតិបរមាដែលអ្នកមិនត្រូវលើស
- C.  ល្បឿនសុវត្ថិភាពដែលបានណែនាំដែលអ្នកគួរប្រើ
- D.  ចម្លើយទាំងអស់ត្រឹមត្រូវ

Q.19) សញ្ញានេះមានន័យថា:



- A.  ផ្លូវមួយទៀតចាប់ផ្តើមពីមុខ
- B.  ឡានខាងស្តាំបញ្ចប់ចូលឡានខាងឆ្វេង
- C.  ផ្លូវហាយវេបែកចែក
- D.  ឡានខាងឆ្វេងបញ្ចប់ចូលឡានខាងស្តាំ

Q.20) អ្នកកំពុងបើកបរនៅផ្លូវខាងស្តាំហើយទៅជិតសញ្ញានេះ តើអ្នកគួរធ្វើអ្វី?



- A.  បង្កើនល្បឿន
- B.  ចូលឡានខាងឆ្វេង
- C.  ចូលឡានខាងស្តាំ
- D.  ឈប់នៅខាងមុខ

Q.21) តើសញ្ញានេះមានន័យអ្វី?



- A.  សត្វក្តាន់ឆ្លងកាត់
- B.  ល្បឿនអតិបរមា
- C.  មិនបត់ស្តាំ
- D.  ឆ្លងកាត់សាលា

Q.22) តើសញ្ញានេះមានន័យអ្វី?



- A.  ចរាចរណ៍ពីរផ្លូវ
- B.  ចប់ផ្លូវ
- C.  ការរួមបញ្ចូលចរាចរណ៍
- D.  បន្ថែមផ្លូវ

Q.23) សញ្ញាប្រាមាននេះមានន័យថា:



- A.  មានផ្លូវធំ ៗ ដែលបែកគ្នា
- B.  យានយន្តនៅលើផ្លូវនេះធ្វើដំណើរតាមទិសទាំងពីរ
- C.  ផ្លូវទិសតែមួយពង្រីកទៅជាពីរផ្លូវដែលនៅខាងមុខ
- D.  យានយន្តនៅលើផ្លូវនេះធ្វើដំណើរតាមទិសតែមួយ

Q.24) តើសញ្ញានេះមានន័យអ្វី?



- A.  ចរាចរណ៍ពីរផ្លូវ
- B.  រៀបចំដើម្បីបញ្ចូលគ្នា
- C.  ឆ្លងកាត់ទៅខាងណាមកបាន
- D.  បត់ឆ្វេងឬទៅស្តាំ



Q.25) អ្នកទៅជិតសញ្ញានេះ តើអ្នកគួរធ្វើអ្វី



- A.  យឺតហើយត្រៀមខ្លួនឈប់ បើចាំបាច់
- B.  រៀបចំសម្រាប់តំបន់ការងាររដ្ឋបាលហាយវេ
- C.  ផ្តល់ទិសដៅសិទ្ធិជានិច្ច
- D.  ជៀសវាងនៅខាងមុខ