



# МОЗГАЛИЦЕ

II И III РАЗРЕД

5.10.2019.



ДВА СЛОНА ЛЕЖЕ, ДВА СЛОНА СТОЈЕ, А  
ЈЕДАН СЕ УСПРАВИО НА ЗАДЊЕ НОГЕ.  
КОЛИКО ЈЕ ТО УКУПНО НОГУ?




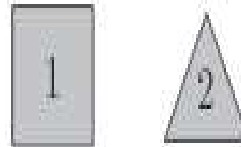
# ЗАОКРУЖИ СЛОВО ИСПРЕД ТАЧНОГ ОДГОВОРА

$$1. 20 - 1 + 1 =$$

А)18    Б)19    Б)20    Г)21    Д)2



Марија је описала једну од пет фигура приказаних на слици на следећи начин: није квадрат; сиве је боје; или је круг или је троугао. Коју је фигуру описала?



- А) 1    Б) 2    В) 3    Г) 4    Д) 5



Једна музичка група има у свом саставу 4 трубача, 3 гитаристе, једног бубњара, једног који свира клавир и 2 који свирају виолину.


Колико је музичара у тој групи?

А)9    Б)10    В)11    Г)12    Д)13



# КОЈИ БРОЈ ТРЕБА ДА СТОЈИ УМЈЕСТО

## У ТАБЕЛИ?

14	8	16	26	39	45		58	19
24	18	26	36	49	55	38	68	29

А)83

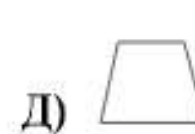
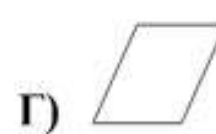
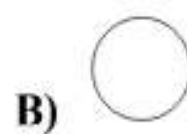

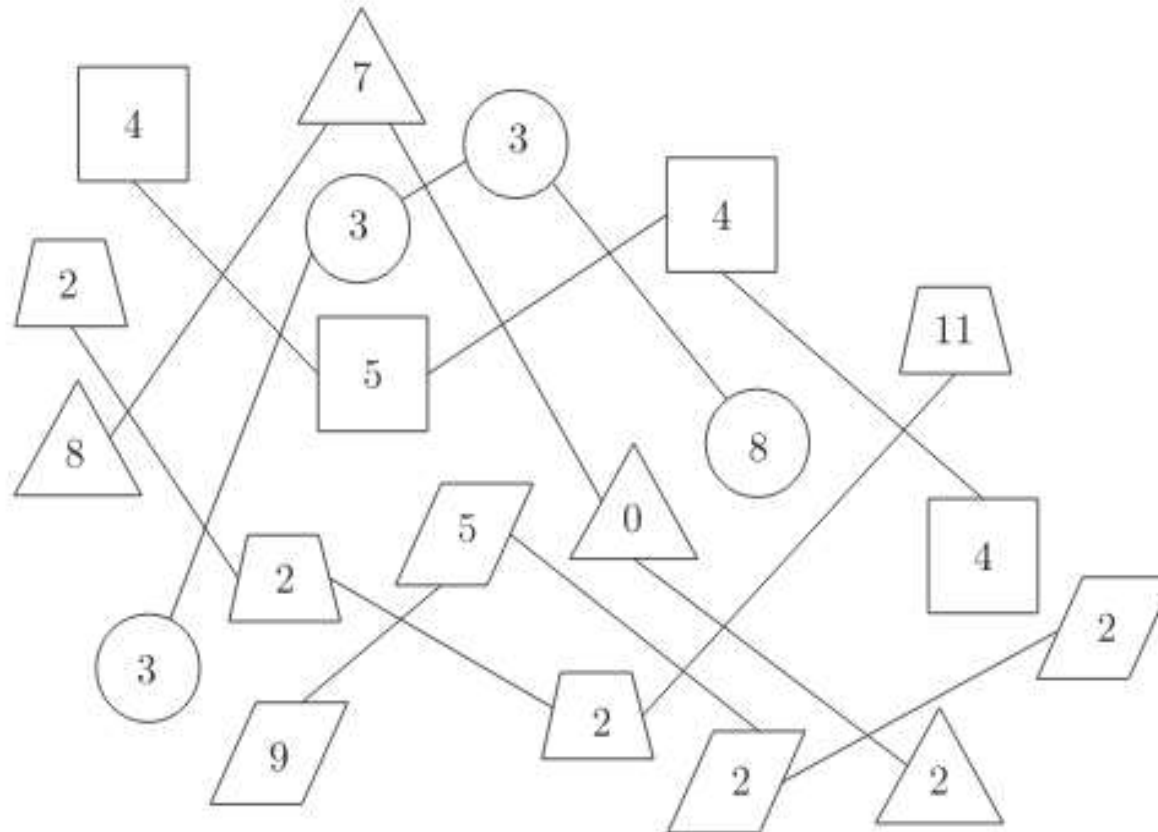
Б)48

В)82

Г)28




Нађи у којој врсти фигура су уписани бројеви чији збир није 17.





Колико црних плочица недостаје у мозаику на слици?

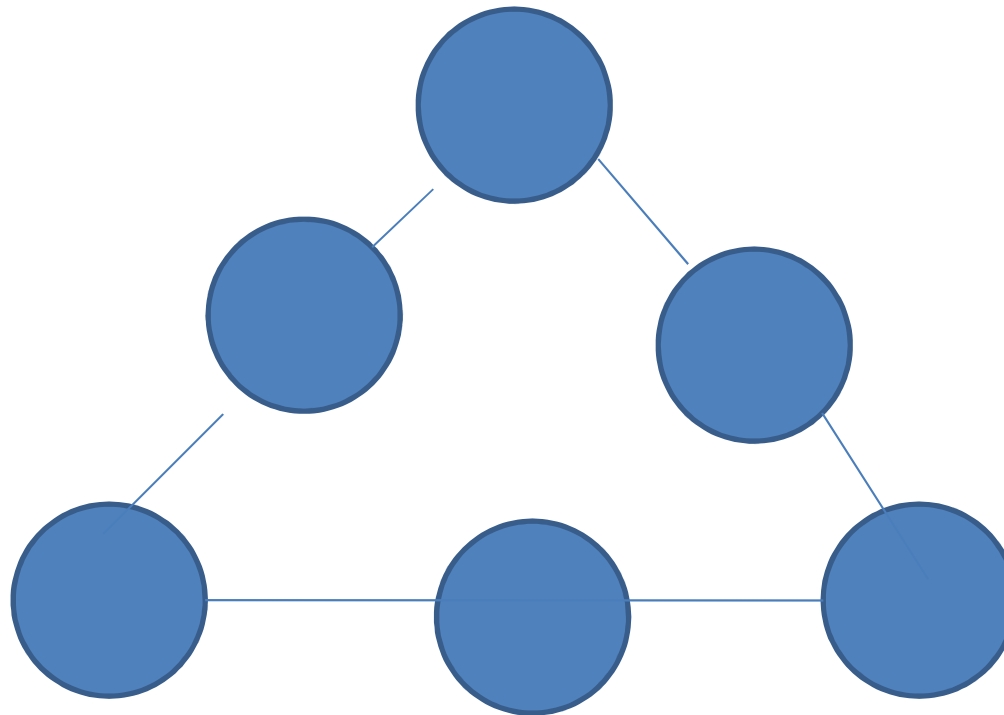


- А) 4    Б) 6    В) 7    Г) 9    Д) 13



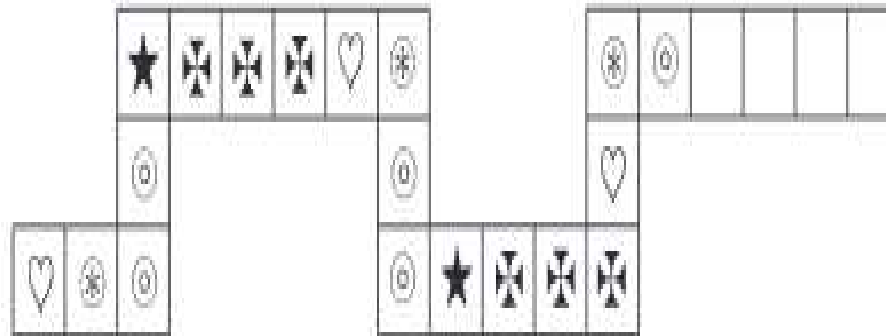


Бројеве од 1 до 6 распореди у кругове тако да збир на свакој страни троугла буде 6.



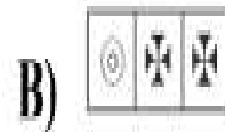






Плочиде су ређане по правилу које видиш на слици.



Наредне три плочице су:





- Мајка моје мајке је  
моја \_\_\_\_\_.
- Сестра моје сестре је моја  
\_\_\_\_\_.

У презентацији су коришћени задаци са Кенгур такмичења из 2010. године и “Логичке игре и тестови”, Вулканчић издаваштво Београд, 2010.

