

1. (Açılar farklı şekillerde gösterilebilir. Aşağıdaki örnek cevaplardır değişebilir.)

\widehat{AED} \widehat{FAB}
 \widehat{CDE} \widehat{GBC}
 \widehat{BCD} \widehat{HCD}
 \widehat{CBA} \widehat{JDE}
 \widehat{BAE} \widehat{AEK}

2. 80°
 60°
 90°
 80°
 130°

3. Altıgen

6
6
6
6

4. (Parantez içindeki harflerin sırası değişebilir.)

$[AC] - [AD] - [BE] - [BD] - [CE]$

5. 36°

6. 20 cm

1. Geniş açılı üçgen

Dar açılı üçgen

Dik açılı üçgen

2. Dar açılı üçgen

3.

Geniş açılı üçgen

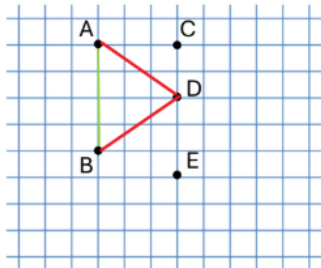
Dar açılı üçgen

Dik açılı üçgen

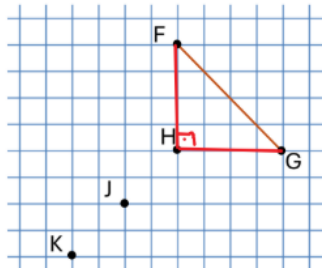
Dik açılı üçgen

Geniş açılı üçgen

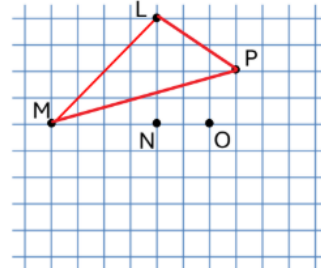
Dar Açılı Üçgen



Dik Açılı Üçgen



Geniş Açılı Üçgen



1. İkizkenar üçgen

2. İkizkenar üçgen

Çeşitkenar üçgen

Eşkenar üçgen

3.

Çeşitkenar üçgen

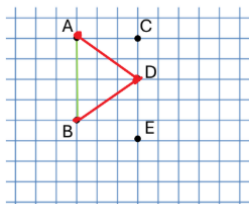
Çeşitkenar üçgen

İkizkenar üçgen

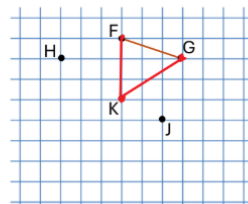
Eşkenar üçgen

Eşkenar üçgen

İkizkenar Üçgen



Çeşitkenar Üçgen



4. 8 cm 60° 5 cm
35° 80° 45°

- 1. ✓
- ✓
- ✓
- ✓
- ✓
- X
- ✓
- ✓
- X

- 1. C
- 2. D
- 3. B
- 4. B
- 5. C
- 6. 5
- 7. 3
- 8. B