





1- Aşağıdakilerden hangisi daha ağırdır?



2- Aşağıdakilerden hangisi daha hafiftir?




3- "Aras, Ela'dan hafiftir. Sukubi, Ela'dan ağırdır."

Buna göre en ağır olan hangisidir ?

A) Ela

B) Sukubi




4- Yukarıdaki terazi neden dengede değildir?

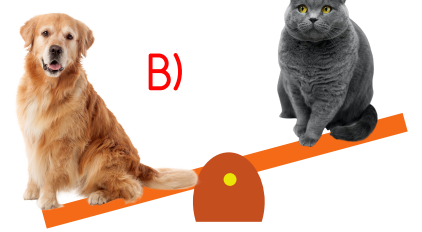

A) Futbol topu daha ağır olduğu için

B) Basketbol topu daha ağır olduğu için


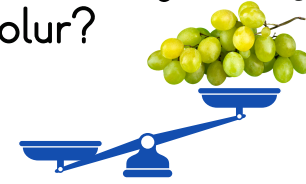
5- Aşağıdaki elma tabaklarından hangisi daha ağırdır?




6- Aşağıdaki şekillerden hangisi yanlıştır?



7- Aşağıdaki teraziye aşağıdakilerden hangisi gelirse doğru olur?



8- Aşağıdakilerden hangisi daha ağırdır?



@sadeöğretmen



SADE ÖĞRETMEN AKADEMİ
" Her akşam canlı ilköğretim dersleri "

Soruların PDF'sini telegram grubumuzda, Çözüm videosu ise Sade Öğretmen Akademi Youtube Kanalında bulabilirsiniz ☺

Bu soruların çözümlerini izlemek ve 1. Sınıf
derslerimize katılmak için

YouTube SADEÖĞRETMEN AKADEMİ

kanalını takip etmeyi unutmayın 😊



Çift tıkla kalbi doldur :)



SADE ÖĞRETMEN AKADEMİ

" Her akşam ücretsiz canlı ders "