

# SADE ÖĞRETMEN İLE TOPLAMA PROBLEMLERİ



1. Sınıflar ve 1. Sınıftan 2. Sınıfa geçenler için toplama problemleri

1



@sadeöğretmen



Sepette 4 kırmızı elma var.  
3 yeşil elma daha eklersek sepette  
toplam kaç elma olur?

$$\square + \square = \square$$

2



@sadeöğretmen



Kuş evinin yanında 1 mavi kuş ve 2 sarı kuş var.  
Kuş evinde toplam kaç kuş vardır?

$$\square + \square = \square$$

3

@sadeöğretmen



Bahçede 3 pembe kelebek ve 2 mor kelebek  
uçuyor. Bahçede toplam kaç kelebek uçuyor?

$$\square + \square = \square$$

4



Ayşe'nin 4 balonu var.

@sadeöğretmen

Arkadaşından 2 balon aldı.

Ayşe'nin toplam kaç balonu oldu?

$$\square + \square = \square$$

5



Masada 2 çiçek var.

@sadeöğretmen

Annem 3 çiçek daha koydu.

Masada toplam kaç çiçek oldu?

$$\square + \square = \square$$

6



Kalem kutusunda 4 kalem vardı.

@sadeöğretmen

Babam 2 kalem daha aldı.

Şimdi toplam kaç kalem var?

$$\square + \square = \square$$

7



Yolda 3 araba vardı.

@sadeöğretmen

2 araba daha geldi.

Yolda toplam kaç araba oldu?

$$\square + \square = \square$$




# SADE ÖĞRETMEN İLE ÇIKARMA PROBLEMLERİ



1. Sınıflar ve 1. Sınıftan 2. Sınıfa geçenler için çıkarma problemleri

1



@sadeöğretmen

Akvaryumda 7 balık vardı.  
2 balık yüzerek dışarı çıktı.  
Akvaryumda kaç balık kaldı?

$$\square - \square = \square$$

\_\_\_\_\_

2



@sadeöğretmen

Dalda 6 kuş vardı.  
3 kuş uçup gitti.  
Dalda kaç kuş kaldı?

$$\square - \square = \square$$

\_\_\_\_\_

3




@sadeöğretmen

Tabağın üzerinde 5 kurabiye vardı.  
2 kurabiye yendi.  
Tabağın üzerinde kaç kurabiye kaldı?

$$\square - \square = \square$$

\_\_\_\_\_

4



Kalem kutusunda 9 kalem vardı.  
2 kalem kırıldı.  
Kaç kalem kaldı?

@sadeöğretmen

$$\square - \square = \square$$

\_\_\_\_\_

5



Otobüste 7 yolcu vardı.  
3 yolcu otobüsten indi.  
Otobüste kaç yolcu kaldı?

@sadeöğretmen

$$\square - \square = \square$$

\_\_\_\_\_

6



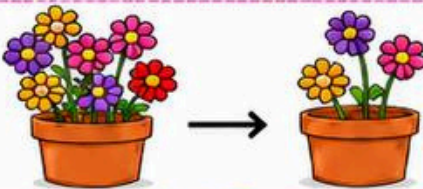
Sepette 10 elma vardı.  
4 elma çürüdü ve atıldı.  
Sepette kaç elma kaldı?

@sadeöğretmen

$$\square - \square = \square$$

\_\_\_\_\_

7



Saksıda 7 çiçek vardı.  
5 çiçek koparıldı.  
Saksıda kaç çiçek kaldı?

@sadeöğretmen

$$\square - \square = \square$$

\_\_\_\_\_

# SADE ÖĞRETMEN İLE

## VERİLMİYENİ BULMA PROBLEMLERİ



1. Sınıftan 2. Sınıfa geçenler için

1 Kerem, oyuncak arabalarından 3 tanesini kardeşine verince elinde 5 arabası kalıyor.  
Kardeşine araba vermeden önce Kerem'in kaç arabası vardı?

$$\square - \square = \square$$

@sadeogretmen

2 Ayşe, kantinden 4 liraya tost aldıktan sonra cebinde 6 lirası kaldığını fark ediyor.  
Ayşe'nin harcama yapmadan önce toplam kaç lirası vardı?

$$\square - \square = \square$$

3 Zeynep, boya kalemlerinden 5 tanesini kaybedince kutuda 7 kalem kalıyor.  
Zeynep'in kalemlerini kaybetmeden önce kutusunda kaç boya kalem vardı?

$$\square - \square = \square$$

4 Tabaktaki çileklerin 4 tanesini yedikten sonra geriye 5 çilek kalıyor.  
Çilekleri yemeden önce tabakta kaç çilek vardı?

$$\square - \square = \square$$

@sadeogretmen

5 Ağaçtaki kuşlardan 3 tanesi uçup gidince dallarda 4 kuş kalıyor.  
Kuşlar uçmadan önce ağaçta toplam kaç kuş vardı?

$$\square - \square = \square$$

6 Ali, hikaye kitabının 6 sayfasını okuduktan sonra geriye okuması gereken 4 sayfası daha kaldığını görüyor.  
Ali okumaya başlamadan önce kitabın tamamı kaç sayfaydı?

$$\square - \square = \square$$

7 Vazodaki güllerin 2 tanesi solduğu için çöpe atılıyor. Vazoda geriye 3 canlı gül kalıyor.  
Güller solmadan önce vazoda kaç gül vardı?

$$\square - \square = \square$$

@sadeogretmen



# SADE ÖĞRETMEN İLE İKİ İŞLEMLİ PROBLEMLER

1. Sınıftan 2. Sınıfa geçenler için



@sadeogretmen

1 Ayşe'nin 12 tane balonu vardı. Ancak 3 tanesi patladı.  
Babası Ayşe'ye daha sonradan 3 balon daha aldı.  
Ayşe'nin elinde toplam kaç balon vardır?

2 Ali'nin 15 tane kalemi vardı. 6 tanesini okulda arkadaşlarına verdi.  
Sonra annesi Ali'ye 4 kalem daha aldı.  
Ali'nin kaç kalemi oldu?

3 Bir sepette 20 elma vardı. 7 elma çürük olduğu için atıldı.  
Sonra sepete pazardan 5 elma daha konuldu.  
Sepette kaç elma oldu?

4 Oya'nın 14 tane oyuncacı vardı. 5 tanesi bozuldu ve kaldırıldı. @sadeogretmen  
Dedesi Oya'ya 3 oyuncak daha aldı.  
Oya'nın kaç oyuncacı oldu?

5 Otobüste 18 yolcu vardı. İlk durakta 7 yolcu indi.  
Sonraki durakta 4 yolcu daha indi.  
Otobüste kaç yolcu kaldı?

6 Bir kutuda 16 kurabiye vardı. Çocuklar 8 kurabiye yedi.  
Annesi kutuya 6 kurabiye daha koydu.  
Kutuda kaç kurabiye oldu?

7 Bahçede 17 çiçek vardı. 6 tanesi soldu.  
Babam bahçeye 5 çiçek daha dikti. @sadeogretmen  
Bahçede kaç çiçek oldu?

