




1- Sukubi markete giderek 30 tane yumurta aldı. Ancak yolda 8 tanesini düşürdü. Eve gelince 4 tanesini de kahvaltıda yedi. Sukubi'nin kaç tane yumurtası kaldı?




4- Babam, doğum günüm için 45 tane kek, 56 tane kurabiye aldı. Bu kurabiyelerden 14 tane, keklerden 20 tane yendi. Geriye ne kadar kek ve kurabiye kaldı?




2- Bizim evimizde 14 kase portakal, portakaldan 8 eksik nar, nardan 2 eksik elma kaseimiz var. Bizim evde toplam kaç kase meyvemiz vardır?



5- Yandaki traktörümüzle aynı anda 24 kg buğday, 36 kg arpa taşıyabiliyoruz. Toplamda kaç kg ürün taşıyabiliyoruz?




3- Yandaki uçakta 96 yolcu vardır. Bu yolcuların 54 tanesi kadın olduğuna göre uçakta kaç erkek yolcu vardır?



6- Kitaplığımızda 33 tane hikaye, 22 masal, 14 tane roman vardır. Kitaplığımızda toplamda kaç tane kitabımız vardır?

@sadeogretmen





7- Kumbaramda 65 tl param vardır. 10 tl'ye tost yedim. Ardından 5 tl'ye ayran içtim. Cebimde ne kadar para kaldı?



10- 24 sayısının rakamlarının yerleri değiştirildiğinde ortaya çıkan sayı ile ilk sayıyı çıkardığımızda sonuç ne olur?



8- İki basamaklı en büyük sayıdan, bir basamaklı en büyük sayıyı çıkarırsak sonuç ne olur?

@sadeöğretmen



11- Bir bisikletle 90 metrelik yolun 42 metresini gittim. Geriye kaç metre yolum kalmıştır?



9- Yandaki sayıdan, bir sonraki sayının ve bir önceki sayının farkı kaçtır?



12- Bir ağaçta toplamda 45 kuş vardır. Önce 22 tane kuş uçtu. Daha sonradan 8 tane kuş daha geldi. Son durumda ağaçta toplamda kaç kuş vardır?

