
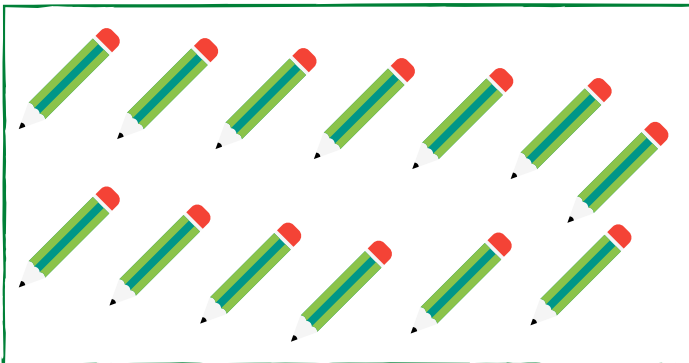











Sevgili Çocuklar,

Rakam dediğimiz şey, sayıları göstermek için kullanılan işaretlerdir. Tam 10 tane rakamımız vardır. 1, 2, 3, 4, 5, 6, 7, 8, 9 ve 0






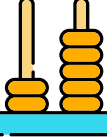
- Aşağıda verilen futbol toplarını bir düzineye tamamlayınız.



- Aşağıda verilen arabaları bir desteye tamamlayınız.



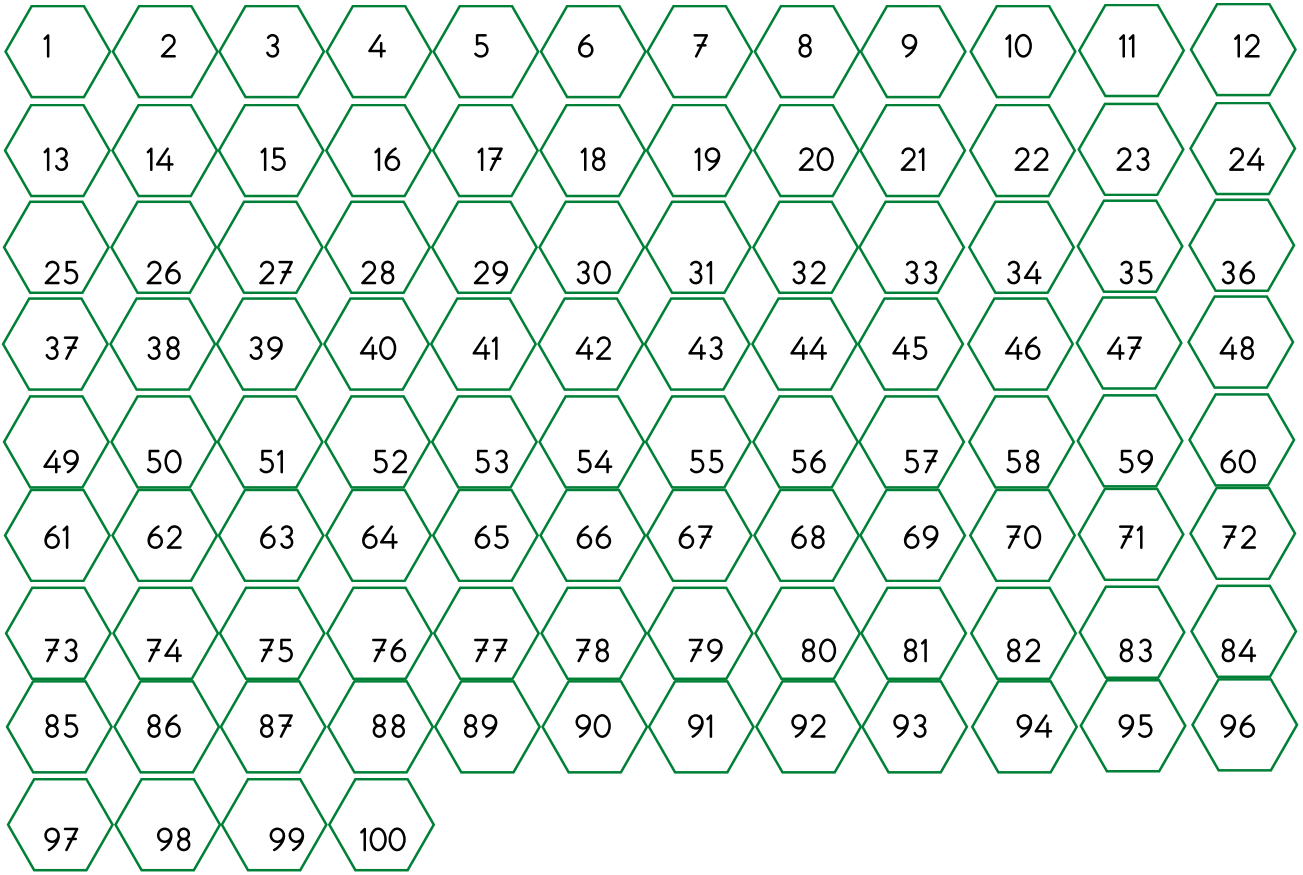
- Aşağıda verilen sayıları tabloya yazınız.

	Sayı	Okunuşu	Onluk ve Birlikleri
			
			





2'den başlayarak ikişer ikişer 100'e kadar ritmik sayma yapalım.



1- 24'ten başlayıp geriye doğru birer birer sayarken söylediğimiz 4. sayı kaçtır?

2- 18'den başlayıp ileriye doğru ikişer ikişer sayarken söylediğimiz 8. sayı kaçtır?

3- 12'den başlayıp ileriye doğru üçer üçer sayarken söylediğimiz 5. sayı kaçtır?

4- 40'dan başlayıp geriye doğru dörder dörder sayarken söylediğimiz 6. sayı kaçtır?

5- 100'den başlayıp geriye doğru beşer beşer sayarken söylediğimiz 10. sayı kaçtır?

6- 30'dan başlayıp ileriye doğru ikişer ikişer sayarken söylediğimiz 9. sayı kaçtır?





- Aşağıda verilen sayı örüntülerinin kuralını bulunuz. Eksik sayıları tamamlayınız. Bulduğunuz sayıları büyükten küçüğe doğru sıralayınız.

- Örüntünü Kuralı :

57	54	51	...	45	42	39	36
----	----	----	-----	----	----	----	----

- Sıralama : .....

- Örüntünü Kuralı :

13	15	...	19	21	23	25	27
----	----	-----	----	----	----	----	----

- Sıralama : .....

- Örüntünü Kuralı :

3	7	...	15	19	23	25	27
---	---	-----	----	----	----	----	----

- Sıralama : .....

- Örüntünü Kuralı :

80	75	70	....	60	55	50	45
----	----	----	------	----	----	----	----

- Sıralama : .....

- Örüntünü Kuralı :

6	8	10	12	...	16	18	20
---	---	----	----	-----	----	----	----

- Sıralama : .....

- Örüntülerde kuralı bozan sayıyı bulup boyayınız. Boyadığınız sayıları büyükten küçüğe doğru sıralayınız.

15	20	25	31	35	40	45	50
----	----	----	----	----	----	----	----

82	78	75	70	66	62	58	54
----	----	----	----	----	----	----	----

Sıralama : .....

6	9	12	15	19	21	24	27
---	---	----	----	----	----	----	----

10	12	14	17	18	20	22	24
----	----	----	----	----	----	----	----

90	87	84	80	78	75	72	69
----	----	----	----	----	----	----	----

Sıralama : .....

11	15	18	23	27	31	35	39
----	----	----	----	----	----	----	----





1- Aşağıdakilerden hangisi bir hayvandır?

- a) house
- b) door
- c) dog

2- Yandaki resme göre hangisi daha uygundur?

- a) That is a dog
- b) That is a cat
- c) That is a mobil phone



3- Aşağıdakilerden hangisi bir spor dalı değildir?

- a) volleyball
- b) basketball
- c) monkey

4- Aşağıdakilerden hangisi diğer ikisinden farklıdır?

- a) water
- b) lemonade
- c) pizza

5- Aşağıdakilerden hangisi resimle ilgilidir?




- a) Look ! It is a university.
- b) Look ! That is a hotel.
- c) Look ! That is a stadium.






6- Aşağıdakilerden hangisi bir yiyecektir?

- a) lemonade
- b) water
- c) bread

7- Aşağıdakilerden hangisi yanlıştır?

- a) That is a car 
- b) That is a pizza 
- c) That is a dog 

8- Aşağıdakilerden eşleştirmelerden hangisi yanlıştır?

- a) basketball 
- b) cat 
- c) pizza 

9- Aşağıdaki kelimelerde eksik bırakılan harfleri yazalım.

- a) m..nkey
- b) h...tel
- c) d..nkey

sade öğretmen





10- Yandaki hayvan aşağıdakilerden hangisidir?

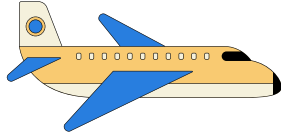


- a) cat
- b) zebra
- c) monkey

11- Hangi seçenek diğerlerinden farklıdır?

- a) Handball
- b) Volleyball
- c) Dog

12- Görselin İngilizce karşılığı hangisidir?




- a) Home
- b) Aeroplane
- c) Car

13- Yandaki resim hangi spor dalında kullanılır?



- a) Football
- b) Billiards
- c) Tennis

14- Yandaki resim hangi spor dalında kullanılır?



- a) Football
- b) Tennis
- c) Basketball

15- Aşağıdakilerden hangisi ev ile ilgili değildir?

- a) door
- b) room
- c) animal

16- Aşağıdakilerden hangisi yandaki resimle ilgilidir?



- a) That is a cat.
- b) That is a water.
- c) That is a bread.

sade öğretmen

17- Aşağıdakilerden hangisi yandaki meyvenin İngilizce karşılığıdır?



- a) banana
- b) avocado
- c) orange

18- Aşağıdakilerden hangisi bir meslektir?

- a) Aeroplane
- b) Pilot
- c) coffee

19- E..gl..sh  
Aşağıdaki harflerden hangileri boşluklara gelmelidir?

- a) n-i
- b) i-ş
- c) n-ş

20- Aşağıdakilerden hangisi yanlış yazılmıştır?

- a) Mankey
- b) Home
- c) Water





1- Aras kitabının 1.gün 25 sayfasını, 2.gün 22 sayfasını okudu. Henüz okumadığı 15 sayfa olduğuna göre Aras'ın okuduğu kitabı kaç sayfadır?



2- Ela'nın ceviz sayısı 35, Sukubi'nin ceviz sayısı ise Ela'nın ceviz sayısının 22 fazlası kadardır. Ela ve Sukubi'nin cevizlerini bir araya getirirsek kaç cevizleri olur?



3- Aras, cebindeki 56 liranın 15 lirası ile defter, 26 lirası ile de kitap aldı. Acaba Aras'ın cebinde kaç lirası kaldı?

4- Bir yolcu otobüsünde 56 kişi vardı. İlk durakta 16 kişi, ikinci durakta ise 8 kişi otobüsten indi. Otobüste kaç yolcu kaldı?



5- 4 birlik 8 onluktan oluşan sayıdan, 6 onluk 8 birlikten oluşan sayıyı çıkarırsak fark kaç olur?

6- Her gün bir önceki günden 5 sayfa fazla okuyan Ela, 1.gün 8 sayfa okuduğuna göre 4. gün sonunda kaç sayfa okumuş olur?

7- Bir çiftlikte 32 koyun, koyunlardan 5 eksik de inek vardır. Çiftlikteki hayvan sayısı kaçtır?

sade öğretmen



8- Sukubi çıkarmanın terimlerini yazmak istemiş ancak sadece bir tanesi aklına gelmiş. Sukubi'nin unuttuğu terimleri de siz yazınız.

?	→	45
?	→	25
Fark	→	<u>20</u>
(Kalan)	→	

9- Ela kumbarasındaki demir paralarını saydığına 33 TL, kağıt paraları saydığına 58 TL'si olduğunu gördü. Ela'nın toplam kaç TL'si vardır?







$$\begin{array}{r} 41 \\ - 21 \\ \hline \end{array}$$

$$\begin{array}{r} 60 \\ - 24 \\ \hline \end{array}$$

$$\begin{array}{r} 35 \\ + 64 \\ \hline \end{array}$$

$$\begin{array}{r} 48 \\ + 37 \\ \hline \end{array}$$

$$\begin{array}{r} 85 \\ - 27 \\ \hline \end{array}$$

$$\begin{array}{r} 94 \\ - 58 \\ \hline \end{array}$$

$$\begin{array}{r} 23 \\ + 28 \\ \hline \end{array}$$

$$\begin{array}{r} 47 \\ + 19 \\ \hline \end{array}$$

$$\begin{array}{r} 50 \\ - 20 \\ \hline \end{array}$$

$$\begin{array}{r} 78 \\ - 45 \\ \hline \end{array}$$

$$\begin{array}{r} 38 \\ + 35 \\ \hline \end{array}$$

$$\begin{array}{r} 28 \\ + 67 \\ \hline \end{array}$$

$$\begin{array}{r} 63 \\ - 25 \\ \hline \end{array}$$

$$\begin{array}{r} 41 \\ - 21 \\ \hline \end{array}$$

$$\begin{array}{r} 37 \\ 22 \\ + 23 \\ \hline \end{array}$$

$$\begin{array}{r} 41 \\ 21 \\ + 31 \\ \hline \end{array}$$

$$\begin{array}{r} 74 \\ - 57 \\ \hline \end{array}$$

$$\begin{array}{r} 65 \\ - 34 \\ \hline \end{array}$$

$$\begin{array}{r} 35 \\ 9 \\ + 22 \\ \hline \end{array}$$

$$\begin{array}{r} 28 \\ 34 \\ + 8 \\ \hline \end{array}$$

sade öğretmen







- Ařağıdaki verilmeyen toplananları bulalım.

$$\begin{array}{r} 49 \\ + \text{.....} \\ \hline 75 \end{array}$$

$$\begin{array}{r} 57 \\ + \text{.....} \\ \hline 88 \end{array}$$

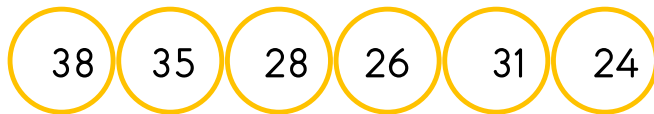
$$\begin{array}{r} 32 \\ + \text{.....} \\ \hline 66 \end{array}$$

$$\begin{array}{r} 27 \\ + \text{.....} \\ \hline 69 \end{array}$$

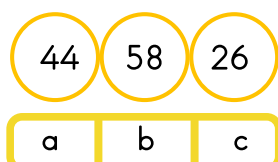
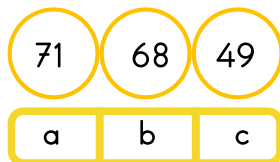
$$\begin{array}{r} 58 \\ + \text{.....} \\ \hline 83 \end{array}$$

$$\begin{array}{r} 18 \\ + \text{.....} \\ \hline 71 \end{array}$$

- Ařağıdaki sayıların ierisinden 30'a yuvarlananları bulalım ve boyayalım.



- Ařağıdaki sayıların ierisinden en byk olanı bulalım ve boyayalım.



- Ařağıdaki iřlemlerin sonularını balonların iine yazalım.

1 dzine + 5 ka eder ?



1 dzinenin 6 eksiėi ka eder ?



1 deste + 9 ka eder ?



5 birlik 6 onluk ka eder ?

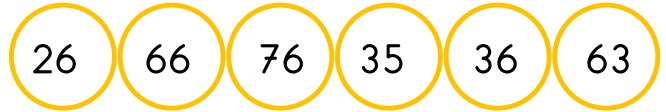


35 sayısını 12 eksiėi ?




sade ğretmen

- Ařağıdaki sayılardan onlar basamaėı 6 olan sayıları bulalım ve boyayalım.



- Ařağıdaki sayılardan rnty bozan sayıyı bulup boyayalım.



- Ařağıdaki zihinden toplama iřlemlerini yapalım.

$$\begin{array}{r} 30 \\ + 40 \\ \hline \text{.....} \end{array}$$

$$\begin{array}{r} 50 \\ + 20 \\ \hline \text{.....} \end{array}$$





1- Aras çok mutluydu. Çünkü yarın kırdaki pikniğe gideceklerdi. Annesi piknik için pasta ve börek hazırladı. Aras hemen yarın olması için erkenden yatağına gitti ve uyudu.

Aras neden erkenden yattı?

- a) Piknik için
- b) Hemen yarın olması için
- c) Pasta ve börek için

2- Aşağıdakilerden hangisinin isminde daha çok harf vardır?

- a) 
- b) 
- c) 

"k ve o harfleri arasında bir harf"

3- Yukarıdaki bilgiye göre hangi görselin adını bulabiliriz?

- a) 
- b) 
- c) 

4- Aşağıdaki öğrencilerden hangisi zıt anlamlı kelimeleri bir arada kullanmıştır?

- a) Arkadaşımla bahçede oyun oynadık..
- b) Okul servisinden inerken dikkatli olmalıyız.
- c) Bahçedeki tüm beyaz oyuncaklar yangından sonra karaya dönmüş.

Koşuda 1 ( ) oldun mu ( )

5- Aşağıdakilerden hangisi bu cümlede ayrıca belirtilen yerlerin herhangi birinde kullanılamaz?

- a) nokta
- b) virgül
- c) soru işareti

6- Aşağıdaki sözcüklerden hangisi satır sonunda yanlış bölünmüştür

- a) istan- bul
- b) arkad- aş
- c) keli- me

"Dedem yaşlı olduğu için benimle futbol oynayamıyor."

7- Yukarıdaki cümlede altı çizili sözcüğün yerine hangisi yazılırsa cümlenin anlamı değişmez?

- a) ihtiyar
- b) genç
- c) dayı

8- Aşağıdaki kelimelerle anlamlı ve kurallı bir cümle oluşturmak istersek hangi iki kelimenin yerini değiştirmemiz gerekir?

Bahçede - köpek - kocaman - var

- a) var - köpek
- b) bahçede-var
- c) köpek - kocaman

9- Aşağıdaki ritmik saymada ile gösterilen yere yazılacak doğal sayı aşağıdakilerden hangisidir?

9 - 12 - 15 ..... - 21 - 24

- a) 16
- b) 17
- c) 18

10- 3 onluk 6 birlikten oluşan sayı ile 3 birlik 4 onluktan oluşan sayıyı topladığımızda sonuç kaç olur?

- a) 79
- b) 70
- c) 69



## 2. Sınıf

### Ara Tatil Deneme Sınavı



QR Kodu Okut  
Dersi İzle

Sade Öğretmen

11- Bir otobüste 40 yolcu vardı. Durağa gelince otobüsten 14 kişi indi, 9 kişi bindi. Otobüste kaç yolcu vardır?

- a) 30                      b) 35                      c) 40



12- Aras, defterine çizdiği portakalların sayısını bir desteye tamamlayacaktır. Defterine kaç portakal daha çizmelidir?

- a) 3                      b) 4                      c) 5

13- Hangi sayının 4 fazlası 1 düzineye eşittir?

- a) 8                      b) 9                      c) 10



14- Yukarıdaki sayı örüntüsünün kuralını bozan sayı hangisidir?

- a) 8                      b) 9                      c) 10



15- Örüntüde boşluk olan yere hangi sayı gelmelidir?

- a) 46                      b) 48

16- Bir ağaçta 35 tane kuş vardı. Ağaçtan 12 kuş uçtu. Fakat yeniden 14 kuş geri geldi. Ağaçta kaç kuş vardır?

- a) 35                      b) 37                      c) 40

17- 40'a yuvarlanabilecek bir sayı en az kaç olmalıdır ?

- a) 35                      b) 40                      c) 44

18- Grup çalışması ile ilgili aşağıdaki ifadelerden hangisi yanlıştır?

- a) Görevimizi zamanında yapmalıyız.  
b) İstedğimiz görevi istediğimiz zaman yapabiliriz.  
c) Görev dağılımını adaletli yapmalıyız

19- Aşağıdaki verilen bilgilerden hangisi yanlıştır?

- a) İhtiyaçlarımıza öncelik vermeliyiz.  
b) İstedğimiz her şeyi alabiliriz.  
c) Kumbaramızda para biriktirebiliriz.

20- Aşağıdaki davranışlardan hangisi okul kurallarına uymaz?

- a) Koridorda koşmak  
b) Merdivenden yavaşça inmek.  
c) Derse zamanında girmek

sade öğretmen



SADE ÖĞRETMEN AKADEMİ  
" Her akşam canlı ders "



Soruların PDF'sini telegram grubumuzda, Çözüm videosu ise Sade Öğretmen Akademi Youtube Kanalında bulabilirsiniz ©