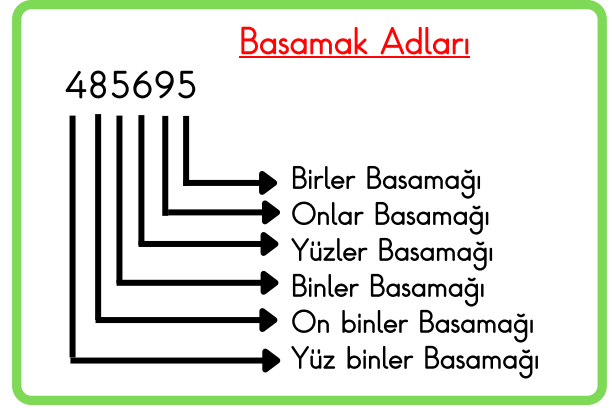
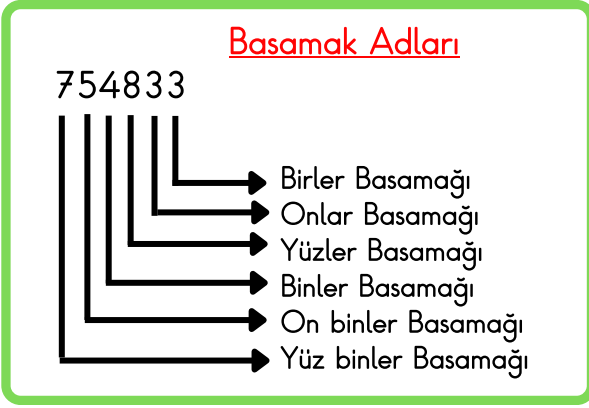




4 - 5 - 6 BASAMAKLI DOĞAL SAYILAR KONU ANLATIMI

BASAMAK DEĞERİ

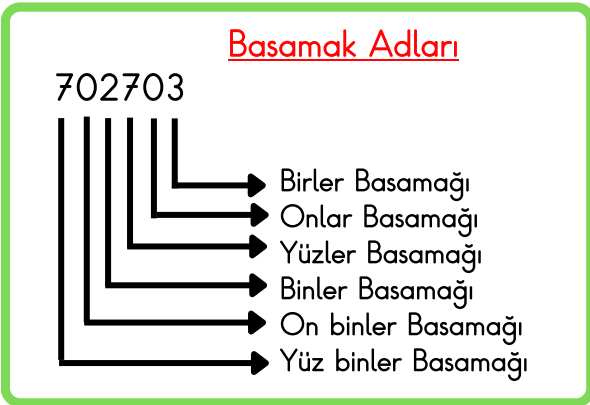
Rakamların buldukları basamağa göre aldıkları değere basamak değeri denir.



Soru :

" Yedi yüz iki bin yedi yüz üç " sayısında binler basamağının basamak değerini yazın.

Öncelikle sayımızı oluşturalım, sayımızı yazarken basamaklara dikkat edelim.
Sayımız ; 702703



Cevap :

Görüldüğü üzere ' Yedi yüz iki bin yedi yüz üç " sayısında binler basamağındaki sayı 2'dir.
Çözümleme yapacak olursak;
 $2 \times 1000 = 2000$ eder.
Yani sayımızın binler basamağının basamak değeri iki bindir.

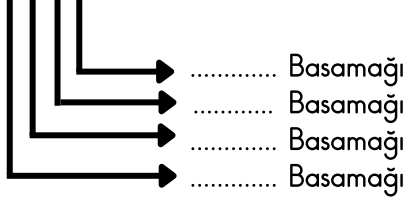




Haydi çocuklar, aşağıda verilen sayıların basamak adlarını yazalım.

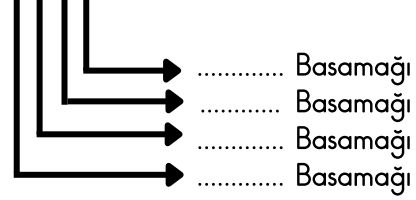
Basamak Adları

4548



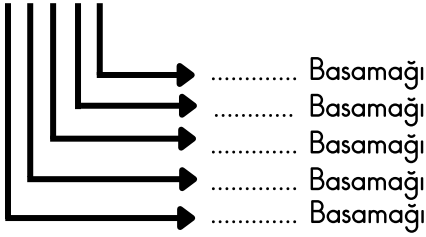
Basamak Adları

8365



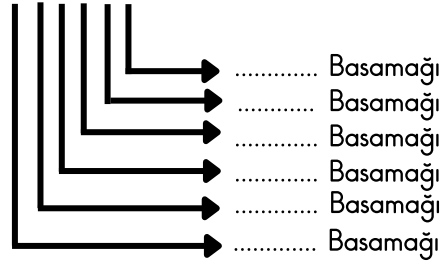
Basamak Adları

74589



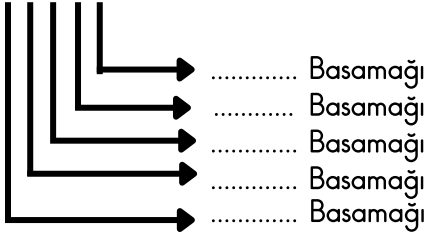
Basamak Adları

246847



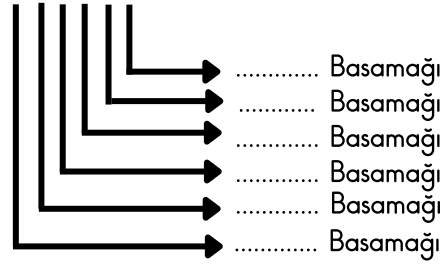
Basamak Adları

35825



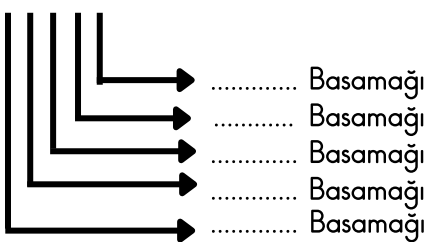
Basamak Adları

623784



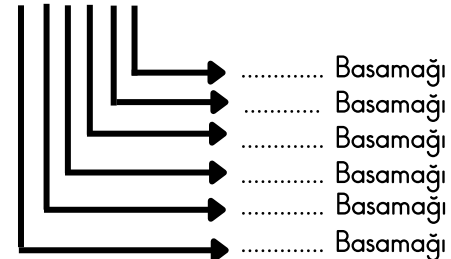
Basamak Adları

94872



Basamak Adları

287946





Haydi çocuklar, aşağıda basamak değerleri verilen sayıları kutulara yazalım.

□	
Yüz binler basamağı	4
On binler basamağı	5
Binler basamağı	3
Yüzler basamağı	1
Onlar basamağı	4
Birler basamağı	7

□	
Yüz binler basamağı	6
On binler basamağı	7
Binler basamağı	2
Yüzler basamağı	5
Onlar basamağı	1
Birler basamağı	8

□	
Yüz binler basamağı	2
On binler basamağı	8
Binler basamağı	0
Yüzler basamağı	8
Onlar basamağı	0
Birler basamağı	9

□	
Yüz binler basamağı	3
On binler basamağı	0
Binler basamağı	5
Yüzler basamağı	2
Onlar basamağı	7
Birler basamağı	7

□	
Yüz binler basamağı	5
On binler basamağı	3
Binler basamağı	3
Yüzler basamağı	2
Onlar basamağı	7
Birler basamağı	9

□	
Yüz binler basamağı	9
On binler basamağı	1
Binler basamağı	3
Yüzler basamağı	2
Onlar basamağı	6
Birler basamağı	4

□	
Yüz binler basamağı	5
On binler basamağı	8
Binler basamağı	7
Yüzler basamağı	0
Onlar basamağı	9
Birler basamağı	2

□	
Yüz binler basamağı	4
On binler basamağı	3
Binler basamağı	0
Yüzler basamağı	9
Onlar basamağı	5
Birler basamağı	9

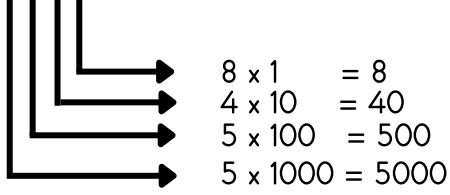
□	
Yüz binler basamağı	6
On binler basamağı	9
Binler basamağı	5
Yüzler basamağı	1
Onlar basamağı	7
Birler basamağı	2



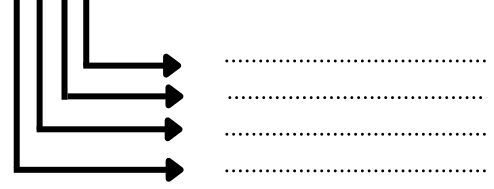


Haydi çocuklar, aşağıda verilen sayıların basamak değerlerini yazalım.

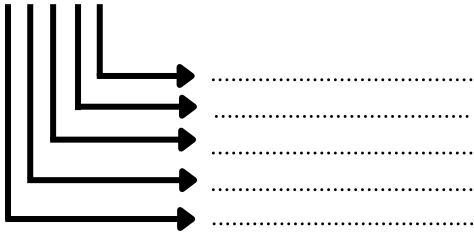
5548



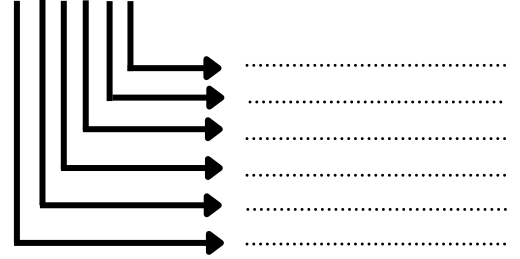
4623



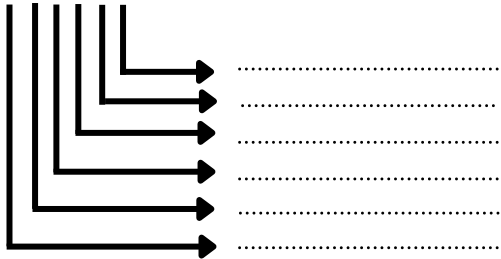
35547



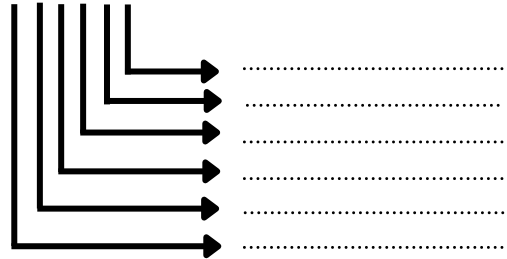
259633



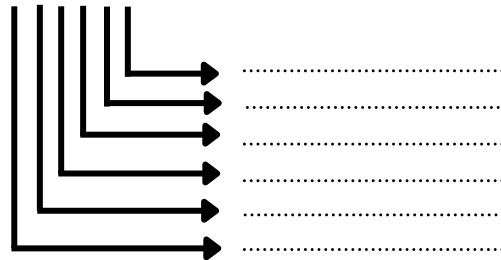
754925



648795



224859



654349

