




1- Dünya kendi eksenini etrafında dönmeseydi aşağıdakilerden hangisi gerçekleşirdi?



- a) Dünya'da yaşam olmazdı.
- b) Hep gündüz olurdu.
- c) Hep gece olurdu.
- d) Dünya'nın Güneş'e bakan tarafında hep gündüz, diğer tarafında hep gece olurdu.

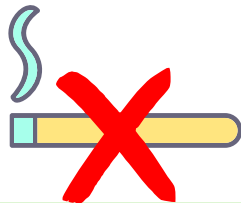
2- Obezite aşağıdaki hastalıklardan hangisine neden olmaz ?



- a) Karaciğer yağlanması
- b) Nezle
- c) Solunum güçlüğü
- d) Kalp hastalığı

3- Sigaranın verdiği zararlarla ilgili hangi seçenekteki ifade yanlıştır?

- a) Hastalık, yara ve ameliyat tedavileri uzun sürer.
- b) Kanseri riski artar.
- c) Sağlıklı bir vücut oluşur.
- d) Cildin yapısının bozulmasına neden olur.




4- Aşağıdakilerden hangisi Dünya'nın Güneş çevresindeki dolanma hareketinin sonuçlarından birisidir ?



- a) Gece ve gündüz oluşması
- b) Gün içinde odamızın aldığı ışık miktarının değişmesi
- c) Bir gün oluşması
- d) Gece ve gündüz sürelerinin değişmesi

5- Aşağıdaki olayların hangisinde kuvvet söz konusu değildir?

- a) Yelkenlinin rüzgarın etkisiyle hareketi
- b) Çekilen lastiğin uzaması
- c) Buzun erimesi
- d) mıknatısın demiri çekmesi



6- Doğu yönünde hareket etmekte olan oyuncak arabaya hangi yönde kuvvet uygulanırsa, oyuncak arabanın yönünde bir değişiklik olmaz?

- a) Kuzey
- b) Kuzeybatı
- c) Güney
- d) Doğu





7- Duran bir cismi harekete geçiren, hareket halindeki bir cismi durduran veya hızlandıran, cismin yönünü değiştiren etkiye ne denir ?

- a) Hacim b) Hız
c) Etki d) Kuvvet

8- Aşağıdaki cisimlerden hangisi mıknatıs tarafından çekilir ?

- a) Plastik kaşık b) İğne 
c) Ataç d) Çivi

9- Düşüp ayağını yaralayan birisi aşağıdaki yiyeceklerden hangisini öncelikli tüketmelidir?

- a) Balık b) Pilav
c) Meyve d) Makarna

10- Aşağıdakilerden hangisi yeterli ve dengeli beslenmek için yapılmaz?

- a) Yaşa ve bedensel etkinliğe uygun miktarda besin tüketilmesi
b) Bir öğünde, tüm besin çeşitlerinden yeteri kadar alınması
c) Yağ ve şeker oranı fazla olan besinlerin tüketilmesi
d) Besinlerin sabah, öğle ve akşam öğünleri şeklinde tüketilmesi

11- Dünya'nın dönme yönü aşağıdakilerden hangisidir?



- a) Kuzeyden güneye doğru
b) Güneyden kuzeye doğru
c) Doğudan batıya doğru
d) Batıdan doğuya doğru

12- Aşağıdaki hangisi konservesi yapılan besinlerden birisidir ?

- a) Bezelye b) Elma
c) Çekirdek d) Tavuk

13- Madenleri, yerkürenin yapısını ve kayaçları inceleyen bilim insanı aşağıdakilerden hangisidir?

- a) Paleontolog b) Jeolog
c) Astrolog d) Sosyolog



14- Markette alışveriş yapan Sukubi alacağı gıdanın öncelikle neyine bakmalıdır?

- a) Paketin üzerindeki son kullanma tarihine
b) Markasına
c) Paketin güzelliğine
d) Miktarına






1- Dünya kendi eksenini etrafında dönmeseydi aşağıdakilerden hangisi gerçekleşirdi?



- a) Dünya'da yaşam olmazdı.
- b) Hep gündüz olurdu.
- c) Hep gece olurdu.
- d) Dünya'nın Güneş'e bakan tarafında hep gündüz, diğer tarafında hep gece olurdu.

@sadeöğretmen

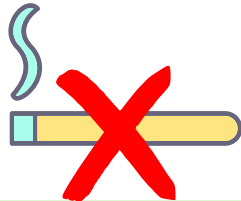
2- Obezite aşağıdaki hastalıklardan hangisine neden olmaz ?



- a) Karaciğer yağlanması
- b) Nezle
- c) Solunum güçlüğü
- d) Kalp hastalığı

3- Sigaranın verdiği zararlarla ilgili hangi seçenekteki ifade yanlıştır?

- a) Hastalık, yara ve ameliyat tedavileri uzun sürer.
- b) Kanseri riski artar.
- c) Sağlıklı bir vücut oluşur.
- d) Cildin yapısının bozulmasına neden olur.



4- Aşağıdakilerden hangisi Dünya'nın Güneş çevresindeki dolanma hareketinin sonuçlarından birisidir ?



- a) Gece ve gündüz oluşması
- b) Gün içinde odamızın aldığı ışık miktarının değişmesi
- c) Bir gün oluşması
- d) Gece ve gündüz sürelerinin değişmesi

5- Aşağıdaki olayların hangisinde kuvvet söz konusu değildir?

- a) Yelkenlinin rüzgarın etkisiyle hareketi
- b) Çekilen lastiğin uzaması
- c) Buzun erimesi
- d) mıknatısın demiri çekmesi



6- Doğu yönünde hareket etmekte olan oyuncak arabaya hangi yönde kuvvet uygulanırsa, oyuncak arabanın yönünde bir değişiklik olmaz?

- a) Kuzey
- b) Kuzeybatı
- c) Güney
- d) Doğu





7- Duran bir cismi harekete geçiren, hareket halindeki bir cismi durduran veya hızlandıran, cismin yönünü değiştiren etkiye ne denir ?

a) Hacim b) Hız
c) Etki d) Kuvvet

8- Aşağıdaki cisimlerden hangisi mıknatıs tarafından çekilir ?

a) Plastik kaşık b) İğne
c) Ataç d) Çivi



@sadeöğretmen

9- Düşüp ayağını yaralayan birisi aşağıdaki yiyeceklerden hangisini öncelikli tüketmelidir?

a) Balık b) Pilav
c) Meyve d) Makarna

10- Aşağıdakilerden hangisi yeterli ve dengeli beslenmek için yapılmaz?

a) Yaşa ve bedensel etkinliğe uygun miktarda besin tüketilmesi
b) Bir öğünde, tüm besin çeşitlerinden yeteri kadar alınması
c) Yağ ve şeker oranı fazla olan besinlerin tüketilmesi
d) Besinlerin sabah, öğle ve akşam öğünleri şeklinde tüketilmesi

11- Dünya'nın dönme yönü aşağıdakilerden hangisidir?

a) Kuzeyden güneye doğru
b) Güneyden kuzeye doğru
c) Doğudan batıya doğru
d) Batıdan doğuya doğru



12- Aşağıdaki hangisi konservesi yapılan besinlerden birisidir ?

a) Bezelye b) Elma
c) Çekirdek d) Tavuk

13- Madenleri, yerkürenin yapısını ve kayaları inceleyen bilim insanı aşağıdakilerden hangisidir?

a) Paleontolog b) Jeolog
c) Astrolog d) Sosyolog



14- Markette alışveriş yapan Sukubi alacağı gıdanın öncelikle neyine bakmalıdır?

a) Paketin üzerindeki son kullanma tarihine
b) Markasına
c) Paketin güzelliğine
d) Miktarına

