

## Sınıf Mevcudu



# 4. Sınıf Grafik Okuma Mini Test

1)

2)

A) 40

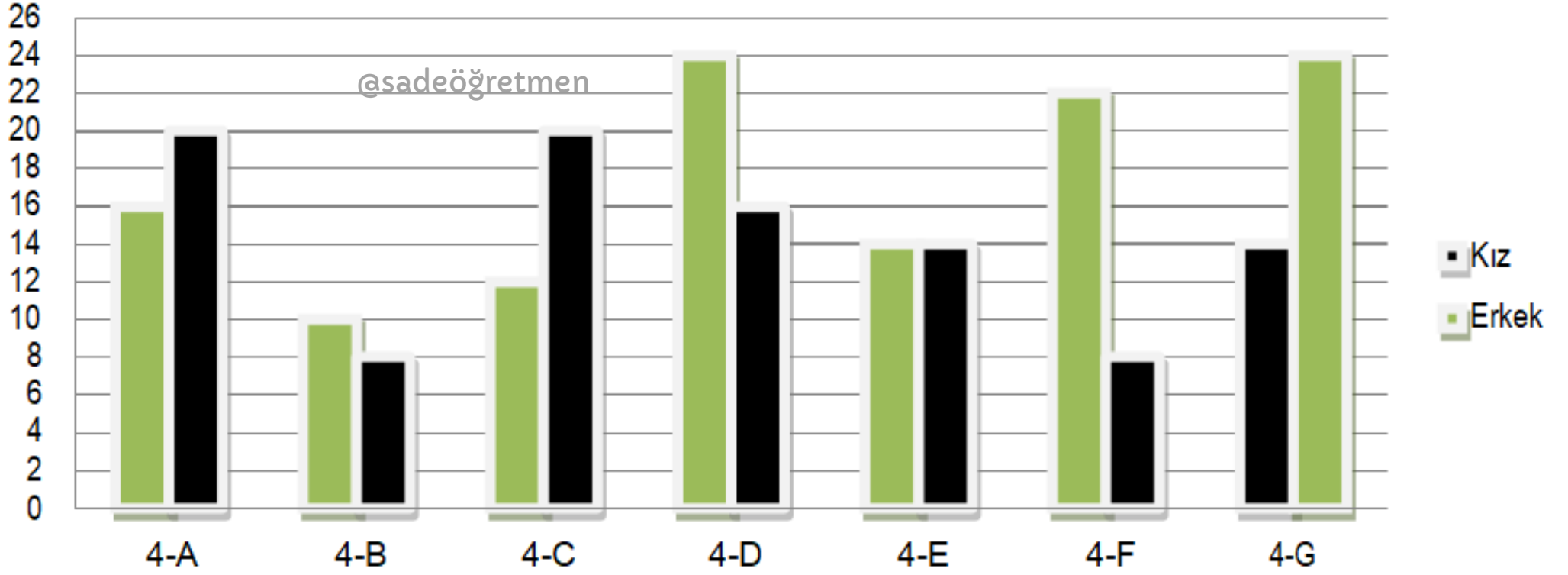
B) 40

\* **CEVAP ANAHTARLI**



SADE ÖĞRETMEN  
" Her akşam ücretsiz canlı ders "

## Sınıf Mevcudu



1) En kalabalık sınıf hangisidir?

A) 4 D

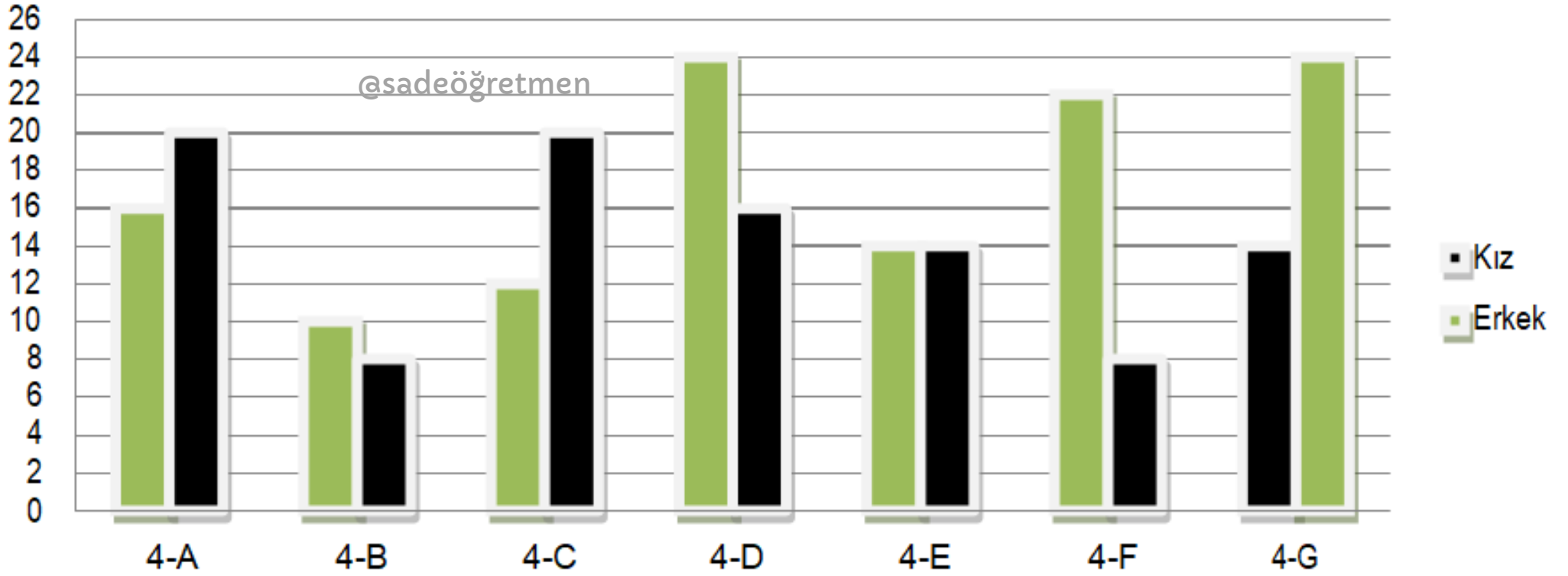
B) 4 G



SADE ÖĞRETMEN

" Her akşam ücretsiz canlı ders "

## Sınıf Mevcudu



**2- Kızlar ile erkekler arasındaki farkın en fazla olduğu sınıf hangisidir?**

**A) 4 F**

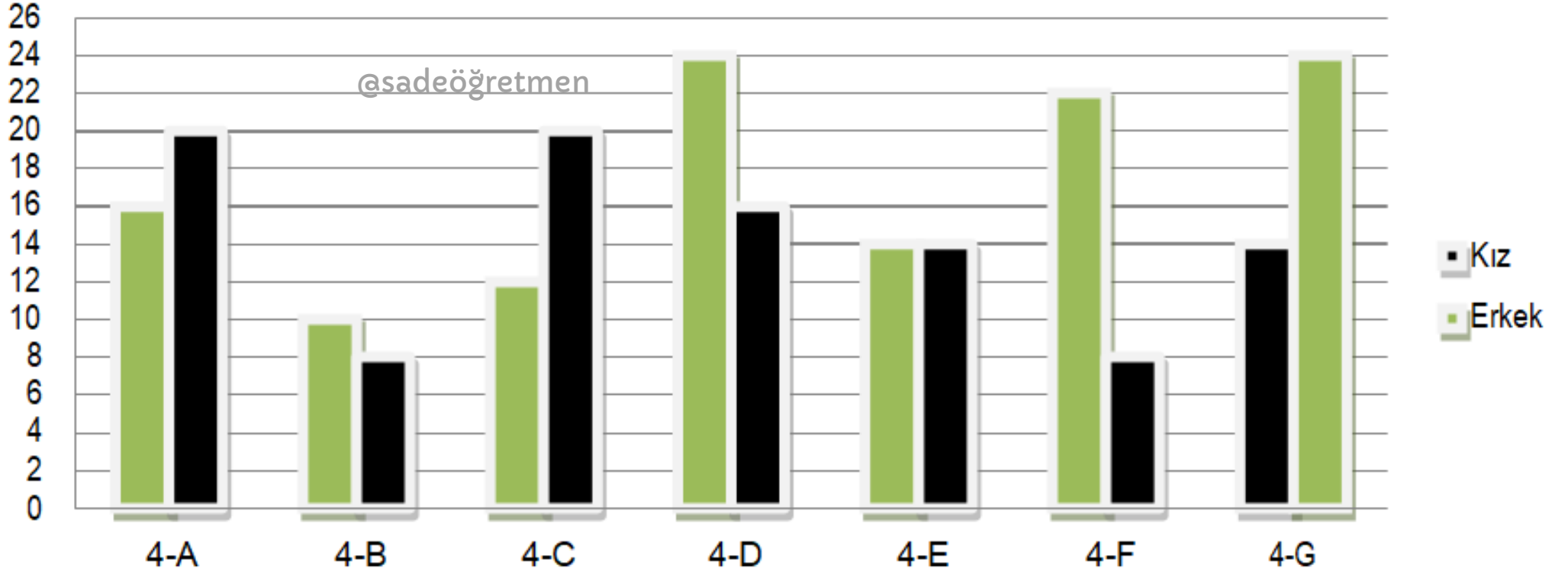
**B) 4 C**



SADE ÖĞRETMEN

" Her akşam ücretsiz canlı ders "

## Sınıf Mevcudu



**3- Mevcudu 28 olan sınıf hangisidir?**

**A) 4 E**

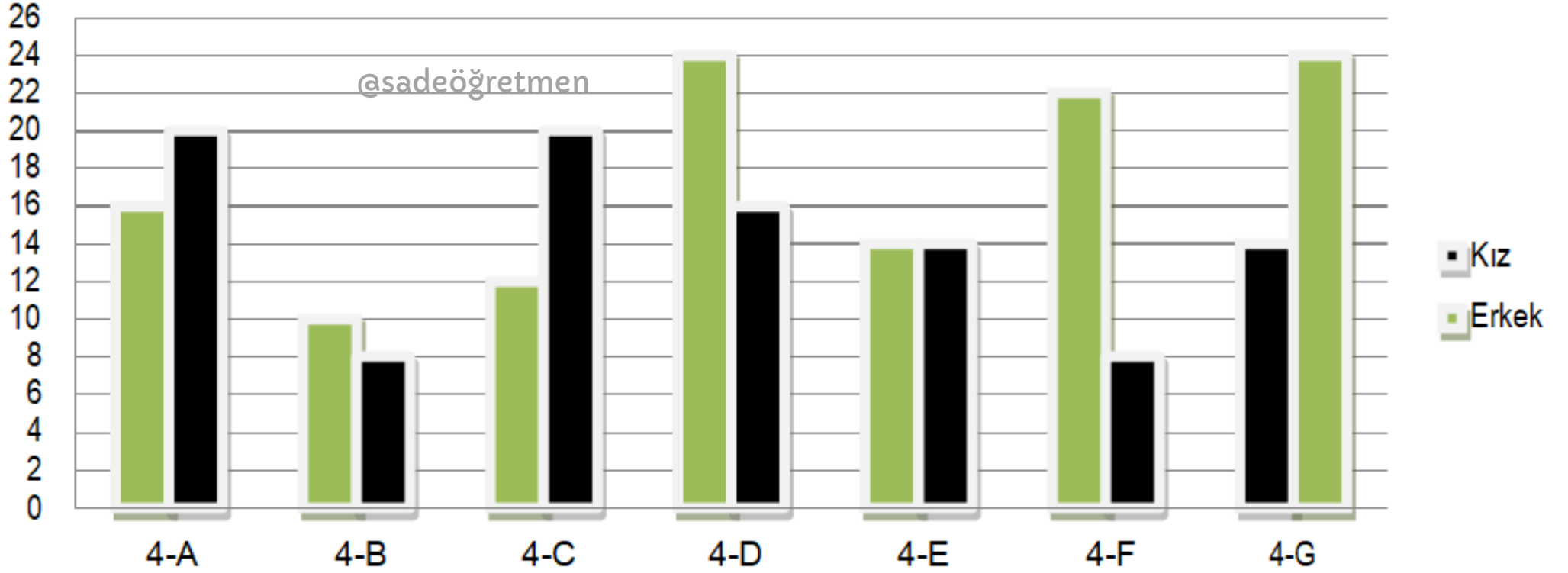
**B) 4 A**



**SADE ÖĞRETMEN**

" Her akşam ücretsiz canlı ders "

## Sınıf Mevcudu



**4- Parti yapmak her kişiden 2 tl toplandı.  
Toplamda 60 tl toplanan sınıf hangisidir?**

**A) 4 F**

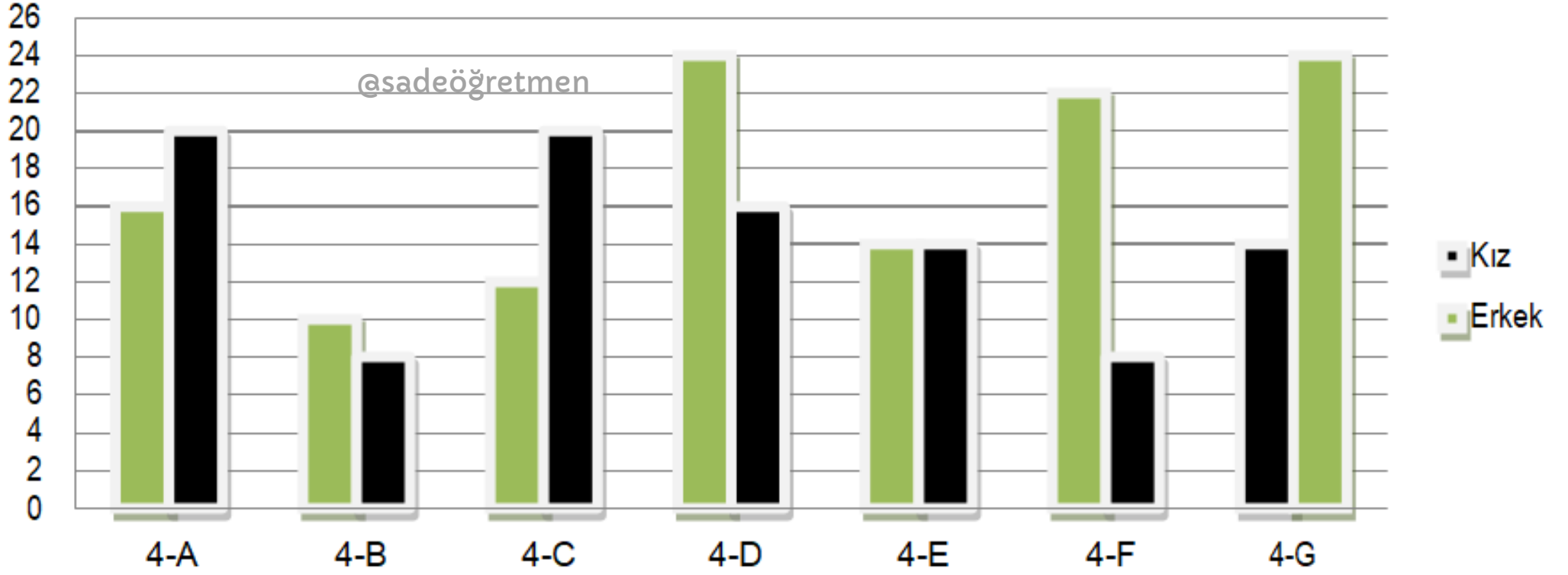
**B) 4 D**



SADE ÖĞRETMEN

" Her akşam ücretsiz canlı ders "

## Sınıf Mevcudu



**5- Kız ve erkeklerin sayısının eşit olduğu sınıf hangisidir?**

**A) 4 E**

**B) 4 A**



**SADE ÖĞRETMEN**

" Her akşam ücretsiz canlı ders "

# CEVAPLAR

**1 - 4D**

@sadeöğretmen

**2 - 4F**

**3 - 4E**

**4 - 4F**

**5 - 4E**

Mini testlerin devamının  
gelmesini istiyorsanız destek için  
beğenip paylaşmayı unutmayın  
:)



SADE ÖĞRETMEN

" Her akşam ücretsiz canlı ders "