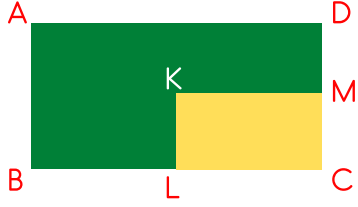




1- Şekilde ABCD ve KLCM dikdörtgen, K ve L noktaları üzerinde buldukları kenarların orta noktalarıdır.
 $|AD| = 24$ cm ve $|AB| = 8$ cm olduğuna göre, sarı ile boyalı bölgenin alanı kaç santimetrekaredir?



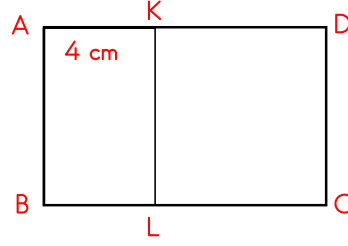
2- Çevresi 64 cm olan karenin alanı kaç cm karedir ?

3- Bir kenarı 12 birim olan karenin alanı kaç birim karedir ?

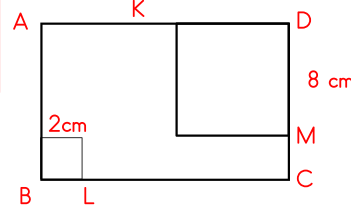
4- Alanı 72 cm² olan, uzun kenarı kısa kenarının iki katı olan dikdörtgenin kısa kenarı kaç cm'dir?

5- Kısa kenarı 8 cm ve uzun kenarı kısa kenarının iki katı olan dikdörtgenin alanı kaç cm²'dir ?

6- Şekilde ABCD dikdörtgen ve KLCD karedir. $|AK| = 4$ cm ve KLCD karesinin alanı 64 cm² olduğuna göre, ABLK dikdörtgeninin alanı kaç santimetrekaredir?



7- Aşağıdaki ABCD dikdörtgenin içinde kenar ölçüleri verilen iki kare verilmiştir. $|BL| = |MC|$ ve $|LC| = 14$ cm'dir. Buna göre ABCD dikdörtgeninin alanı kaçtır ?



8- Çevresi 180 cm ve kısa kenarı 35 cm olan dikdörtgenin alanı kaç santimetrekaredir ?

9- Aşağıdaki eş dikdörtgenlerden oluşmuş şeklin çevre uzunluğu 84 cm olduğuna göre, bir dikdörtgenin alanı kaç cm' dir ?

