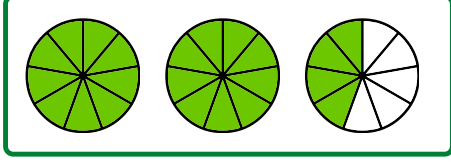
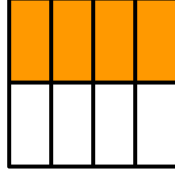





1- Yandaki şekilde boyalı bölgeye karşılık gelen kesir nedir?

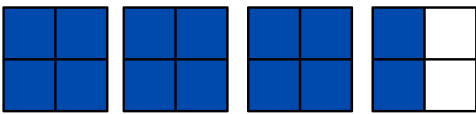


2- Yukarıdaki şekillerde boyalı bölgeye karşılık gelen kesir nedir?

3- Yandaki şekillerde boyalı bölgeye karşılık gelen kesrin okunuşu nasıl yazılır?



4- Yukarıdaki portakallar 8 tane iken 4 tanesi yenmiştir. Kalan portakallara karşılık gelen kesrin okunuşu nasıl yazılır?



5- Yukarıdaki şekillerde boyalı bölgeye karşılık gelen kesrin okunuşu nasıl yazılır?

6- Aşağıdaki sayının  $\frac{1}{4}$  'ü kaçtır?

20

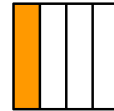
$$30 - 5 = ?$$

7- Yukarıdaki işlemin  $\frac{2}{5}$  'i kaçtır?

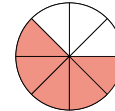
8- Aşağıdaki kesrin bileşik kesir olabilmesi için yerine yazılabilecek en büyük sayı kaçtır?

$$\frac{8}{3 + \triangle}$$


9- Aşağıdaki kesirlerden hangisinde boyalı alan, bütünü  $\frac{2}{4}$  'ünden fazladır?



a



b



c

10- Yandaki ayakkabıda  $\frac{2}{4}$  TL'lik

indirim olduğuna göre ayakkabı fiyatı kaç tl'dir?

