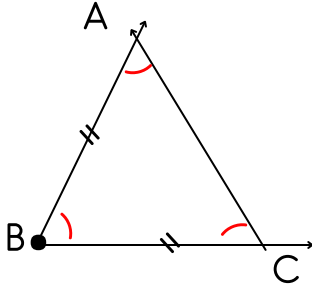


5. SINIF MATEMATİK ÜÇGENDE AÇILAR SORULARI

QR Kodu Okut
Dersi İzle

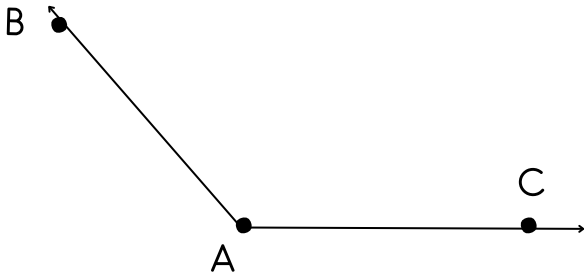
SADE ÖĞRETMEN



1- ABC üçgeninde \widehat{BAC} açısı 40 derece ve ikiz kenar üçgen olduğuna göre \widehat{ABC} açısı kaç derecedir?

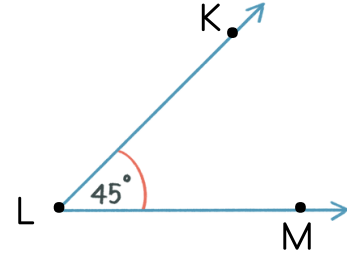
2- Bir saatte akrep ile yelkovan dik açıyı gösteriyorsa saat kaçtır?

3- Bir tam açı ile doğru açının toplamı kaçtır?



4- Yukarıdaki açı tahmini olarak kaç derece olamaz?

- a) 30 b) 95 c) 120 d) 140



5- Yukarıdaki açının sembolle gösterilmiş hali hangisidir?

@sadeöğretmen

a) $s(\widehat{L}) = 45^\circ$

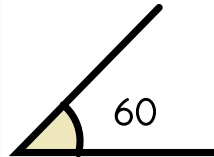
b) $s(\widehat{M}) = 70^\circ$

c) $s(\widehat{L}) = 45^\circ$

d) $s(\widehat{MKL}) = 70^\circ$

6- İkiz kenar üçgenin tepe açısı 42 ise taban açılarından bir tanesi kaç derecedir?

7- En büyük dar açının ölçüsü, en küçük geniş açının ölçüsünden kaç derece azdır?

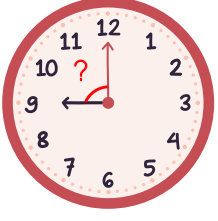


8- Yandaki açının geniş açı olabilmesi için en az ne kadar artırılması gerekmektedir?

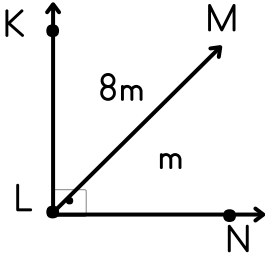


SADE ÖĞRETMEN

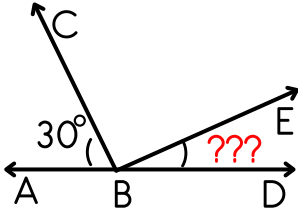
Soruların PDF'sini www.sadeogretmen.com adresinde ücretsiz indirebilirsiniz.



9- Akrep ve yelkovan birbirine dik olarak geliyorsa ? işareti ile gösterilen açı kaç derecedir?



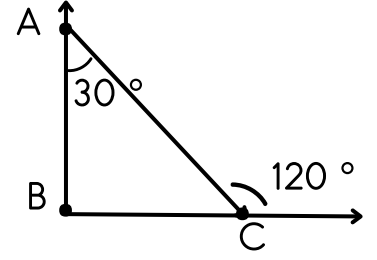
10- Yukarıdaki \widehat{KLM} açısı dik açıdır. Buna göre \widehat{KLN} açısı kaç derecedir?



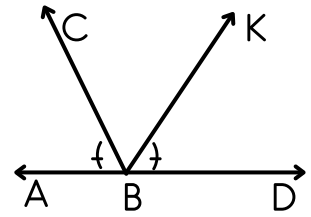
11- Yukarıdaki \widehat{BCE} açısı doksan derece olduğuna göre \widehat{BED} açısı kaç derecedir?

12- Bir eşkenar üçgenin taban açısına dik açılı bir köşegen çizildiğinde yeni oluşan üçgenin tavan açısı kaç derece olur?

@sadeöğretmen



13- Yukarıdaki şekle göre \widehat{BAC} açısı kaç derecedir?



11- Yukarıdaki şekilde \widehat{ABC} açısı 30 derece olduğuna göre \widehat{CBK} açısı kaç derecedir?

