



## أكاديمية كبار الشخصيات للتدريب

### اختبار ذكاء (تجريبي):

هذه نسخة تجريبية مجانية لاختبار الذكاء المعتمد التابع لأكاديمية كبار الشخصيات للتدريب، تعطى هذه النسخة للاطلاع عليها ولمعرفة طبيعة ومرونة الأسئلة المتعلقة باختبار الذكاء قبل التقدم للاختبار بصفة رسمية.

هذه الأسئلة مصممة بشكل علمي وتقني من قبل مستشارين وعابرة عالميين متخصصين في هذا المجال لمعرفة مختلف درجات الذكاء ومستوياتها، لذلك ستجد منها ما يبدو سهلاً وبسيطاً جداً بالنسبة لك، ومنها ما سيبدو صعباً، يوجد في هذا الاختبار 11 سؤالاً متنوعاً مع بعض الأجوبة للاطلاع عليها، والبعض الآخر نطلب منك القيام التفكير والإجابة عليها.

**علماً بأن الأسئلة في هذا الاختبار التجريبي غير مدرجة في الاختبارات الرسمية والتي تتضمن عدة نماذج مختلفة وكل نموذج اختبار يحتوي على 60 سؤال (اختيار من متعدد) و 10 أسئلة اختيارية، والوقت المسموح به لتقديم الاختبار هو ساعة ونصف (90 دقيقة).**

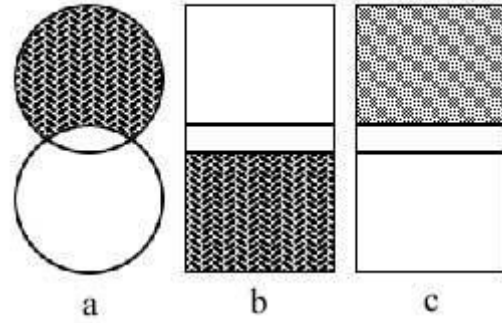
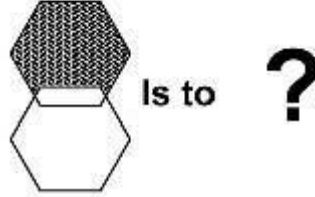
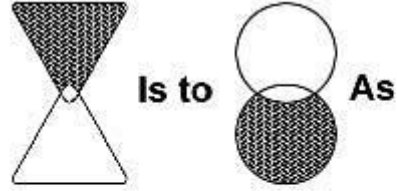


## أكاديمية كبار الشخصيات للتدريب

1- ما هو الرقم الذي يجب أن يلي التسلسل الآتي 5 ، 10 ، 15 ، 10 :  
9                      10                      5                      15                      20

الإجابة الصحيحة: 5

2- أختار الشكل الذي يجب أن يوضع مكان علامة الاستفهام؟



الإجابة الصحيحة: B

3- إذا دمجت اللون الأصفر مع اللون الأحمر، فإن اللون الناتج هو:  
أخضر                      بنفسجي                      برتقالي                      أزرق

الإجابة الصحيحة: برتقالي



## أكاديمية كبار الشخصيات للتدريب

4- إذا كنت تقود قطار وكانت سرعتك 200 كيلومتر في الساعة، فبعد كم من الوقت تجتاز نصف الطريق؟

15 دقيقة      30 دقيقة      60 دقيقة      120 دقيقة

الإجابة الصحيحة: (يرجى التفكير والإجابة على السؤال)

5- ما هو الحرف الناقص لهذه الكلمة المبعثرة للحصول على اسم عاصمة عربية ( ل ي أ ض )

ن      و      ر      س      م

الإجابة الصحيحة: ر (العاصمة هي الرياض)

6- سئل رجل عن عمره وعمر ابنه فقال: قبل ثلاث سنوات كان عمري ثلاثة أمثال عمر ابني، وبعد سبع سنوات أصبح عمري ضعف عمر ابني، فما هو عمر كل من الأب والابن؟

عمر الأب 33 وعمر الابن 13  
عمر الأب 30 وعمر الابن 6  
عمر الأب 27 وعمر الابن 10  
عمر الأب 24 وعمر الابن 8

الإجابة الصحيحة: (يرجى التفكير والإجابة على السؤال)

7- إذا كان هناك ورقة طويلاً 5 مرات وثقبتنا الشكل الناتج مرة واحدة، ثم أعدنا الورقة إلى وضعها الأصلي (فردناها)، كم ثقباً يظهر في الورقة بعد هذا؟

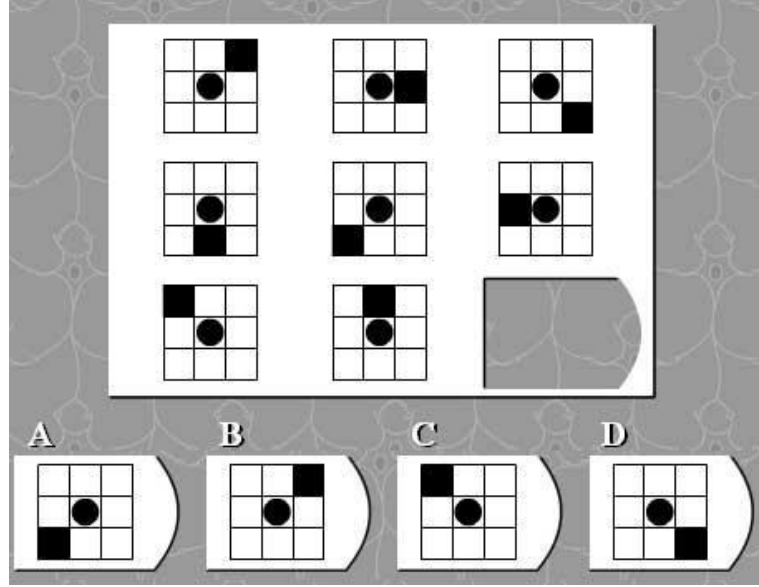
16      32      36      25      18

الإجابة الصحيحة: 32



## أكاديمية كبار الشخصيات للتدريب

8- ما هو الشكل الذي يجب أن يأتي مكان الفراغ؟



الإجابة الصحيحة: (يرجى التفكير والإجابة على السؤال)

9- سارة تحتاج إلى 10 زجاجات ماء من المطبخ، وفي كل مرة تستطيع أن تحمل 3 زجاجات كحد أقصى، فكم مرة ستذهب سارة إلى المطبخ لتحضر الزجاجات؟

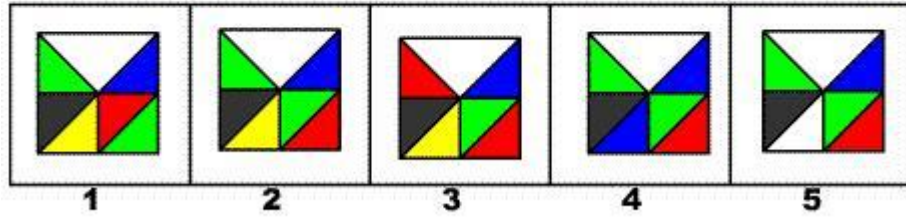

4                      3                      2                      1

الإجابة الصحيحة: 4



## أكاديمية كبار الشخصيات للتدريب

10- أختَر الشكل المناسب ليوضع مكان علامة الاستفهام؟



الإجابة الصحيحة: (يرجى التفكير والإجابة على السؤال)

11- سمير أطول من حسان، ورامي أقصر من سمير، فأى من هذه المقولات تصح أكثر؟  
رامي أطول من حسان  
حسان أطول من رامي  
رامي وحسان بطول واحد  
لا يمكن معرفة أيهما أطول حسان أو رامي  
لا يمكن معرفة أيهما أطول رامي أو سمير

الإجابة الصحيحة: لا يمكن معرفة أيهما أطول حسان أو رامي.

مع تمنياتنا لكم بدوام التوفيق والنجاح

أكاديمية كبار الشخصيات للتدريب  
نصنع النجاح ونبدع ...