

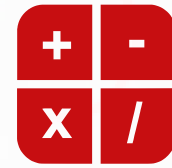
HELP!



MATANDA

Math as a Game ®

Select your language



MATANDA

Math as a Game ©

MATANDA maakt het vak rekenen in het basisonderwijs als een spel, ongeacht in welke groep je zit of hoe oud je bent.

Lastige dingen zoals dimensies, percentages en breuken worden begrijpelijk en leuk, zelfs wanneer je dit wat moeilijker vindt.

MATANDA is er voor jou, je ouder(s) en leraar. Maak nu een gratis account aan en leer rekenen als de beste!

Inloggen


Gast

Code



MATANDA

Math as a Game ©

-  Geheugenspellen
-  Niet alleen rekenen
-  Getallen van 1 tot 10
-  Optellen
-  Open vragen
-  Dubbele getallen
-  Reeksen
-  locatie en eigenschappen van getallen
-  Bereik van 100
-  Aftrekken onder de 100
-  Vermenigvuldigen
-  Delen



< Terug

Getallen van 1 tot en met 10 leren



Wat wil je leren? Maak je keuze!

- 1. Het concept van getallen >
- 2. Het gevoel voor getallen vergroten >
- 3. Getallen en hoeveelheden >
- 4. Priemgetallen en volgnummers >
- 5. Even en oneven getallen >
- 6. Buurgetallen >



Vraag 4

Vraag 4

Hoeveel fruitstukken tel je in totaal op het telraam als je begint met 3 appels en daarna 4 bananen toevoegt?

Druk hieronder op de schijf die je op het Matandraak wil zetten:



Controleer antwoord ▶

The ten-frame consists of 10 rows and 10 columns. The top row contains 3 blue circles with white apple outlines and 4 red circles with white banana outlines. The remaining 9 rows are empty.


Vraag 4

Vraag 5

Stel je voor dat we een emmer hebben waar we water in gieten.

Laten we twee flesjes water hebben: een flesje van 25 cl en een flesje van 5 dl.

Nu gaan we al het water uit deze flesjes in de emmer gieten. Geef op het Matanda-rek aan hoeveel water er in de emmer zit.



Controleer antwoord ▶

Matanda-rek diagram with columns labeled 'l', 'dl', 'cl', and 'ml' at the top. The diagram shows 10 vertical columns. The first six columns are empty. The seventh column (labeled 'l') has 10 small grey circles. The eighth column (labeled 'dl') has 5 blue circles. The ninth column (labeled 'cl') has 5 red circles. The tenth column (labeled 'ml') has 5 red circles. The base of the diagram has 10 red triangles and 10 grey bars.

Vraag 4

< Terug


Vraag 4

Hoeveel fruitstukken tel je in totaal op het telraam als je begint met 3 appels en daarna 4 bananen toevoegt?

Druk hieronder op de schijf die je op het Matarek wil zetten:



Counting frame interface showing a sequence of fruit icons (apples and bananas) and a grid of numbers for calculation.




Controleer antwoord ▶

Terug

Vraag 4

Vraag 4



Hoeveel fruitstukken tel je in totaal op het telraam als je begint met 3 appels en daarna 4 bananen toevoegt?

Druk hieronder op de schijf die je op het Matandraam wil zetten:



Waar ga je mee rekenen?
Klik op het item.

Getallen	Tekens	Massa
Vloeistof	Lengte	Valuta

Selecteer ▶

Controleer antwoord ▶

Vraag 4

Vraag 5

Stel je voor dat we een emmer hebben waar we water in gieten.

Laten we drie flesjes water hebben: een flesje van 25 cl, een flesje van 5 dl en een flesje van 300 ml.

Nu gaan we al het water uit deze flesjes in de emmer gieten. Geef op het Matanda-rek aan hoeveel water er in de emmer zit.

1 2 3

	l	dl	cl	ml
1				
2				
3				
4				
5				
6				
7				
8				
9				
10				
11				
12				
13				
14				
15				
16				
17				
18				
19				
20				
21				
22				
23				
24				
25				
26				
27				
28				
29				
30				
31				
32				
33				
34				
35				
36				
37				
38				
39				
40				
41				
42				
43				
44				
45				
46				
47				
48				
49				
50				
51				
52				
53				
54				
55				
56				
57				
58				
59				
60				
61				
62				
63				
64				
65				
66				
67				
68				
69				
70				
71				
72				
73				
74				
75				
76				
77				
78				
79				
80				
81				
82				
83				
84				
85				
86				
87				
88				
89				
90				
91				
92				
93				
94				
95				
96				
97				
98				
99				
100				

Controleer antwoord ▶

?

△ ♥ ○ □