



I'm not robot  reCAPTCHA


I'm not robot!

Exercices cm1 lire l'heure a imprimer

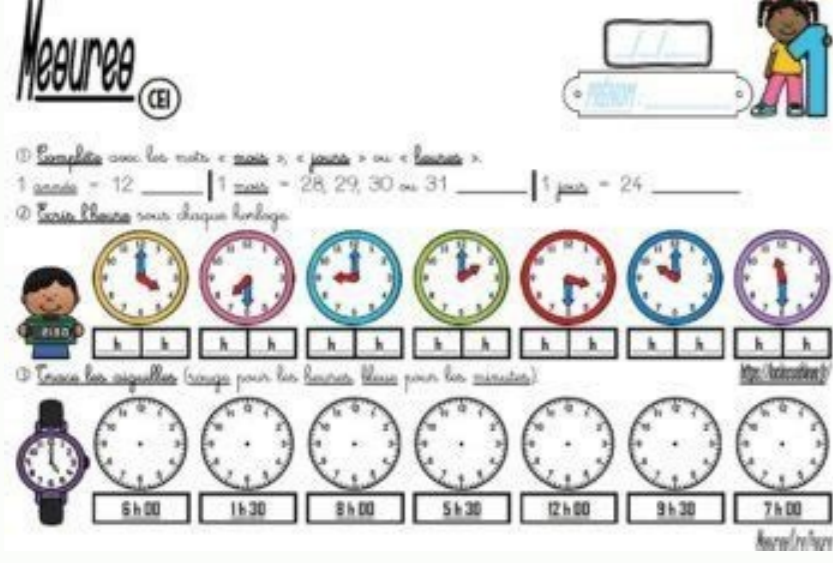
La notion du tempsEntre les minutes et les heures, les jours et les semaines, les mois et les années... les enfants doivent intégrer beaucoup de notions de temporalité.



La recette de l'apprentissage est un entraînement régulier. Il existe plusieurs méthodes pour s'exercer. Vous pouvez faire réciter des comptines à vos bambins, fabriquer avec eux une montre d'apprentissage ou encore l'initier à travers des exercices pratiques comme dans cet article. Application de l'exercice Cette feuille d'exercice à imprimer contient deux activités. La première correspond à un travail d'observation, où l'enfant a pour devoir de lire l'heure indiqué par les pendules. À ce stade, il est aidé par le temps écrit en chiffres et en lettres, au-dessus des horloges. Au second exercice, l'élève doit tracer des lignes pour compléter l'aiguille manquante et ainsi indiquer la bonne heure. Télécharger l'exercice Toutes les fiches 18 Leçons 4 Exercices 6 Évaluations 4 Séquences / Fiche de prep 1 Affiche de classe 2 Soutien scolaire 1 Vous êtes ici : Lire l'heure au Cm1 - Évaluation, bilan à imprimer avec correction Évaluation - Grandeurs et Mesures : Lire l'heure Compétences évaluées Lire l'heure en utilisant une horloge à aiguille Placer les aiguilles en fonction de l'heure. Mémo - leçon pour te préparer à l'évaluation Lire l'heure La petite aiguille (rouge) indique les heures : les heures correspondent aux nombres (de 1 à 12) affichés sur le cadran. La grande aiguille (bleue) indique les minutes : celles-ci sont représentées par les... Leçon de grandeurs et mesures sur lire l'heure - Cm1. Pour lire l'heure : On commence par regarder la plus petite aiguille : elle indique les heures. Elle fait le tour du cadran en 12h, elle fait donc deux fois le tour du cadran en une journée. L'après-midi, on dit 13h, 14h, etc. Puis on lit la grande aiguille qui montre les minutes. Elle met une heure pour faire un tour complet. Quand l'aiguille des heures est presque... Exercices de grandeurs et mesures avec la correction sur lire l'heure - Cm1. Consignes des exercices : Ecris l'heure (jour et nuit) sous chaque horloge comme dans l'exemple. Trace les aiguilles sur chaque horloge pour indiquer l'heure (en noir pour les heures, en rouge pour les minutes). Colorie de la même couleur les heures qui correspondent à une même horloge (la même position des aiguilles). Voir les fiches Télécharger les documents Lire l'heure - Exercices de grandeurs et mesures pour... Évaluation de grandeurs et mesures avec la correction sur lire l'heure - Cm1. Évaluation des compétences Comprendre le fonctionnement d'une horloge à aiguille. Savoir lire les heures, les minutes. Consignes pour cette évaluation : Ecris en toutes lettres et de deux façons différentes l'heure qu'il est, puis dessine les aiguilles sur l'horloge. Trace les aiguilles sur chaque horloge pour indiquer l'heure qu'il est. Ecris l'heure qu'il est en fonction des renseignements donnés. Voir les fiches Télécharger les documents Lire l'heure... Remise à niveau en grandeurs et mesures pour les élèves de CM1 ayant des difficultés sur lire l'heure. Soutien et rattrapage scolaire en grandeurs et mesures : lire l'heure au Cm1 A partir d'une vidéo pédagogique sur lire l'heure, l'enfant pourra tester ses connaissances. Ce que j'ai appris dans la vidéo La grande aiguille indique les Quand elle fait un tour complet, ça donne h et ça fait avancer la petite d'..... cran. 1h = mn La... Révisions, exercices à imprimer sur lire l'heure au Cm1 Consignes pour ces exercices : Ecris l'heure indiquée par ces montres Dessine les aiguilles de ces montres en fonction de l'heure indiquée ● Ecris l'heure indiquée par ces montres Matin : Matin : Après-midi :



Après-midi : Matin : Matin : Après-midi : Après-midi : ● Dessine les aiguilles de ces montres en fonction de l'heure indiquée 9 h 35 min 4 h 20 min 8 h... Bilan, évaluation à imprimer sur lire l'heure au Cm1. Évaluation mesure : Lire l'heure Compétences évaluées Lire l'heure en utilisant une horloge à aiguille Placer les aiguilles en fonction de l'heure. Consignes pour cette évaluation : Trouve l'heure indiquée par ces horloges Dessine les aiguilles de ces horloges en fonction de l'heure indiquée ● Trouve l'heure indiquée par ces horloges Matin : Après-midi : Matin : Après-midi : Matin : Après-midi : ● Dessine les aiguilles de ces horloges en... Fiche de préparation - CM1 : Lire l'heure Connaissances et compétences : • Utiliser les unités, les instruments de mesure spécifiques de grandeurs. Objectifs spécifiques : • Connaître les unités usuelles de mesure de durées et leurs relations. Fiche de préparation de séquence pour mettre en place des séances d'apprentissage: 1/ Phase de découverte Matériel Fiche découverte Attache parisienne 1. Indiquer sur l'horloge les heures suivantes au fur et à mesure : 10h15 5h30 1h45 2h20 7h50 2. Demander aux élèves... Évaluation - Bilan - CM1 : L'heure Compétence : Lire l'heure Consignes pour cette évaluation : Ecris l'heure indiquée par ces montres. Dessine les aiguilles de ces montres en fonction de l'heure indiquée. Ecris l'heure indiquée par ces montres. Matin : Matin : Après-midi : Après-midi : Matin : Matin : Après-midi : Après-midi : Dessine les aiguilles de ces montres en fonction de l'heure indiquée 15 h 40 min 1 h 25 min 7 h moins 10... Trace écrite, leçon à imprimer niveau Cm1 sur lire l'heure Horloge digitale ou à aiguilles Les horloges digitales peuvent afficher l'heure selon des cycles de 12 ou 24h, alors que les horloges à aiguilles fonctionnent avec des cycles de 12h. Ainsi, les heures du matin (de minuit à midi) et de l'après-midi (de midi à minuit) s'écrivent de la même façon : de 0 à 12. Il faut donc ajouter 12h pour afficher les heures de l'après-midi : 1h de... Apprendre à lire l'heure - Horloge à imprimer - Heures et minutes Ce2 - Cm1 - Cm2 - Cycle 3 : Outils pour la classe Voir les fiches Télécharger les documents Horloge - Apprendre à lire l'heure - Ce2 - Cm1 - Cm2 - Cycle 3 pdf... Exercices à imprimer - CM1 - Je lis l'heure sur différents types d'horloges Consignes pour ces exercices : Convertis : Ecris les heures du matin et de l'après-midi sous chaque horloge. Dessine les aiguilles (en bleu pour les heures, en vert pour les minutes). Convertis : 1 heure =



minutes. 1 minute = secondes. Ecris les heures du matin et de l'après-midi sous chaque horloge. Dessine les aiguilles (en bleu pour les heures, en vert pour les minutes). Voir... Leçon - CM1 - Je lis l'heure sur différents types d'horloges Dans notre quotidien, nous avons besoin de connaître l'heure qu'il est. Pour cela, deux types d'horloges peuvent nous aider : les horloges digitales qui affichent l'heure en chiffres, et les horloges à aiguilles. Les horloges digitales peuvent afficher l'heure selon des cycles de 12h ou 24h, alors que les horloges à aiguilles fonctionnent avec des cycles de 12h. Ainsi, les heures du matin (de minuit à midi) et de... Exercices à imprimer - CM1 - Je lis l'heure sur différents types d'horloges Consignes pour ces exercices : Convertis Ecris les heures du matin et de l'après-midi sous chaque horloge. Dessine les aiguilles (en bleu pour les heures, en vert pour les minutes). Convertis : 1 heure = minutes. 1 minute = secondes. Ecris les heures du matin et de l'après-midi sous chaque horloge. Dessine les aiguilles (en bleu pour les heures, en vert pour les minutes). Voir les... Leçon - CM1 - Je lis l'heure sur différents types d'horloges Dans notre quotidien, nous avons besoin de connaître l'heure qu'il est. Pour cela, deux types d'horloges peuvent nous aider : les horloges digitales qui affichent l'heure en chiffres, et les horloges à aiguilles. Les horloges digitales peuvent afficher l'heure selon des cycles de 12h ou 24h, alors que les horloges à aiguilles fonctionnent avec des cycles de 12h. Ainsi, les heures du matin (de minuit à midi) et de l'après-midi (de... Exercices avec correction - CM1 - Je lis l'heure sur une horloge à aiguilles Consignes pour ces exercices : Quelle heure est-il ? Donne les heures du matin et de l'après-midi. Quelle heure sera-t-il ? Ecris le résultat et dessine les aiguilles (en bleu pour les heures, en vert pour les minutes). 16h20 + 1h30 = 3h40 + 2h45 = 7h15 + 85min = 21h + 255min = Voir les fiches Télécharger les documents Je lis l'heure sur une... Lire l'heure, horloge : CM1 - Leçon et exercice