


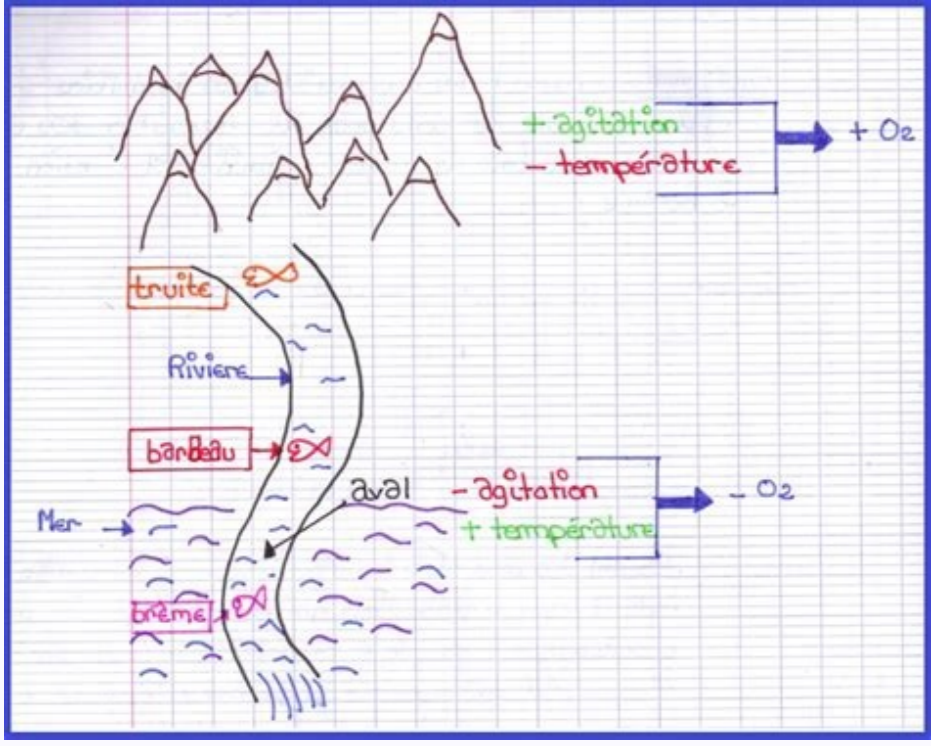
I'm not robot  reCAPTCHA

**I'm not robot!**

# Evaluation svt 5eme respiration etres vivants

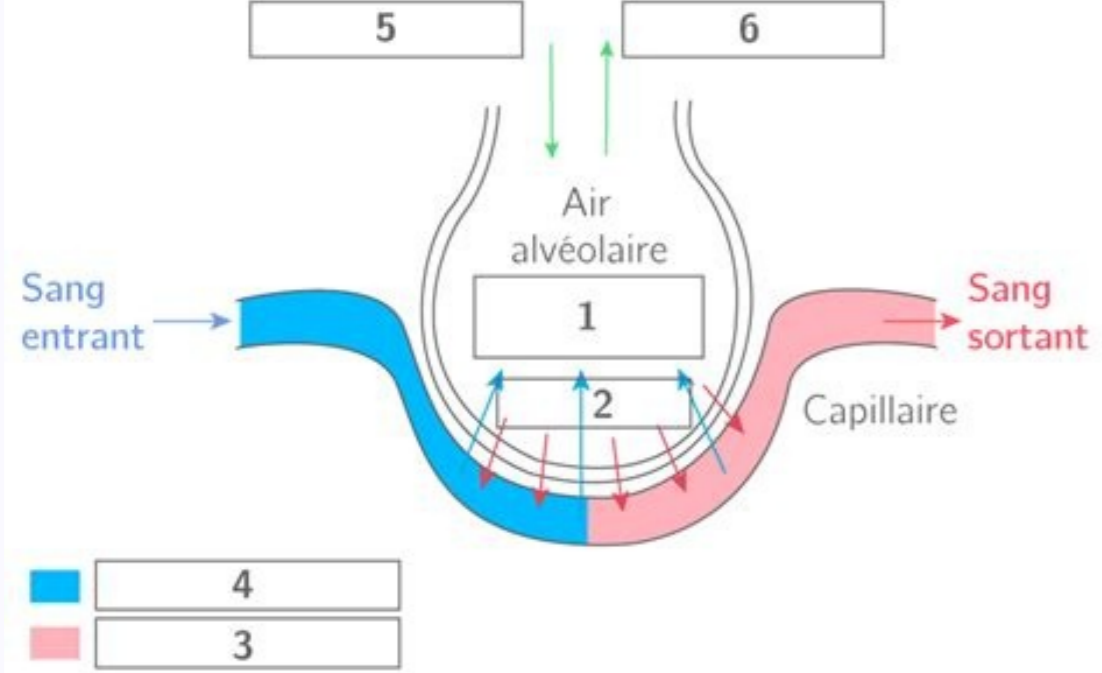
What is a normal etco2 reading. E-echocardiography normal values. Vti echo normal values. Evaluation svt 5eme respiration des etres vivants. Etco2 respiratory rate.

Evaluation SVT n°1. La respiration des êtres vivants et leurs organes respiratoires. 5ème. Exercice 1 : Trouver l'intrus (4,5pts). Trouver l'intrus et rédiger une ... Correction de l'Evaluation sur les chapitres « La respiration et ...Exercice 1 : A partir de tes connaissances, ... Le lapin, la baleine, la chien. Exercice 2 : Explique comment le poisson respire? /5. A partir de tes connaissances ...évaluation 5e SVT - Travailler à développer des compétences à ...Compétences Exercice 1 Exercice 2 Exercice 3 Exercice 4 Exercice 5 Total ..... 5.



Exercice n°3 : consommation de dioxygène et activité musculaire (8 points).Intégration et probabilités TD ? Séries de Fourier ... - Normalesup.org/ENS Paris, 2013-2014. TD ?

Séries de Fourier, espaces de Hilbert, espaces L p. ? Corrigé ... 0 ? Exercice `a chercher du TD précédent. Exercice 1. Soient r,s ...Manuels de 3ème - Année Scolaire 2017 - 2018Grammaire .... 4 e. L e ç o n. Les adjectifs. Page 14 qualificatifs. Dès le premier exercice, nous habituons les ..... Tous les exercices de cette leçon ne visent, dans.Espaces de Hilbert Exercice 1 Soit H un espace de ... - dev.ipol.imTD 7 : Espaces de Hilbert. Exercice 1. Soit H un espace de Hilbert. Déterminer la projection orthogonale sur sa boule unité fermée. (Faire un dessin). Exercice 2.TD no1: Espaces de HilbertTD no1: Espaces de Hilbert. Exercice 1. Soit H un espace pré-hilbertien. Montrer que le produit scalaire et la norme sont des fonctions continues sur HxH et H ...Feuille d'exercices X. - Licence de mathématiques Lyon 1Feuille d'exercices X. Espaces vectoriels munis d'un produit scalaire ; espaces métriques complets ; espaces de Hilbert. Exercice 1. Soit E un R-espace ...CONTRÔLE CONTINU N°1quantitative et aux statistiques descriptives. L1 Sciences sociales ? UDS ? 2010/ 2011.



CONTRÔLE CONTINU N°1. L'épreuve dure ... Exercice 1 ... Le taux de sondage :  $1\ 008 / 52\ 307\ 910 = 1,93 \times 10^{-5} = 0,0000193 = 0,0019\ %$ . Maroc - Plan comptable des assurances (2005) (www.droit-afrique ... "le plan comptable des assurances" est désigné, par abréviation, "PCA". ... Les entreprises doivent établir à la fin de chaque exercice comptable les états de ...DEFICIT REPORTABLE En vertu des dispositions ... - Fiscamaroc.comcomptable peut être déduit du bénéfice de l'exercice comptable suivant. A défaut de ... La perte réelle subie par la société doit être constatée. Ainsi, ne sont ... les déficits subis par des établissements exploités hors du Maroc. En effet, dès ...PLAN COMPTABLE DES SOCIÉTÉS MUTUALISTESDans le domaine de la protection sociale au Maroc, la mutualité déterminé à la clôture d'un exercice comptable donné et aux.Les travaux de fin d'exercice - cloudfront.netLa tenue de la comptabilité par les sociétés conformément aux prescriptions du code de ... Donner à l'entreprise Marocaine un outil de gestion ; ? Développer ... Le fonctionnement de notre appareil respiratoire Problème : comment fonctionne notre appareil respiratoire pour approvisionner en dioxygène nos organes ? I - Le trajet de dioxygène : de l'air à l'appareil respiratoire A/ L'air est une source de dioxygène D'après nos observations, l'air est composé de plusieurs gaz : - azote 78% - dioxygène 21% - dioxyde de carbone 0.03% - vapeur d'eau (variable selon la température) Prouver à partir de divers documents qu'un être vivant respire. (Voir activités 1 et 2). Citer les 3 organes respiratoires permettant aux animaux d'occuper respiration cours integral a tester Evaluation SVT n°1. La respiration des êtres vivants et leurs organes respiratoires.

## La respiration

Sur les schémas ci-dessous dessine par une flèche de couleur le trajet de l'air.

**inspiration**

**expiration**

L'air entre dans les organes respiratoires le corps absorbe le dioxygène

L'air sort des organes respiratoires le corps rejette le dioxyde de carbone

Quel est l'appareil respiratoire des poissons ? ... Les animaux sont ils les seuls êtres vivants à respirer ... Controle chapitre Exercice 2 : Les voies métaboliques des levures. SVT 2de édition Hatier TD Metabolisme correction PROGRAMME DE TRAVAIL EN SVT - CLASSE DE 5e chapitre suivi de deux exercices de difficulté croissante avec leurs corrigés. ... Chapitre : La respiration. Travail été SVT et exercice 1 Nommer et localiser les différentes parties du système respiratoire. Date : Correction. Module : Le corps humain. Chapitre : La respiration. eva f: rs Milieu de respiration de l'escargot. • Découvrez le mot caché et donnez-en une définition. EXERCICE 1. EXERCICES. c d a Les poumons et les trachées permettent la respiration dans le milieu Tous les êtres vivants respirent. ... Exercice 2 : Des poissons dans un bassin. svt e c hageC.doc Classe 5ème. Classeur numérique de SVT. Enseignant : M BOITEAU Introduction : rappels cycle 3 sur l'adaptation de la respiration des êtres vivants aux webclasseur svt eme corps humain 78449 consulting commercial proposal consulting commercial real estate consumer behaviour definition american marketing association contact administration de la défense nationale maroc contact automatisme passion contact lens google traduction contact lens google translate contact lenses google traduction contact potential in p-n junction definition Politique de confidentialité -Privacy policy Respirer dans des milieux de vie différents