

KENDRIYA VIDYALAYALA SANGATHAN JAMMU REGION
PRE-BOARD I EXAMINATION 2025-26
SET-2

Class X (087)
Subject: Social Science

Time: 3 Hour
Max Marks:80



General Instructions:

1. There are 38 questions in the Question paper. All questions are compulsory.
2. The question paper has Four Sections – A-History, B-Geography C- Political Science, and D-Economics.
3. Each Section is of 20 Marks and has MCQs, VSA, SA, LAs and CBQ.
4. Very Short Answer Type Questions (VSA), carry 2 marks each. Answers to each question should not exceed 40 words.
5. Short Answer Type Questions (SA), carry 3 marks each. Answers to each question should not exceed 60 words.
6. Long answer type questions (LA), carry 5 marks each. Answers to each question should not exceed 120 words.
7. There are case based questions (CBQ) with three sub questions and are of 4 marks each. Answers to each question should not exceed 100 words.
8. The map-based questions, carry 5 marks with two parts- Q9. In Section A-History (2 marks) and Q19. In Section B - Geography (3 marks)
9. There is no overall choice in the question paper. However, an internal choice has been provided in few questions. Only one of the choices in such questions must be attempted.

सामान्य निर्देश

1. प्रश्न पत्र में कुल 38 प्रश्न हैं। सभी प्रश्न अनिवार्य हैं।
2. प्रश्न पत्र चार खंडों में विभाजित है –खंड क: इतिहास, खंड ख: भूगोल, खंड ग: राजनीतिक विज्ञान, खंड घ: अर्थशास्त्र।
3. प्रत्येक खंड 20 अंकों का है और इसमें बहुविकल्पीय प्रश्न (MCQs), अति लघु उत्तरीय प्रश्न (VSA), लघु उत्तरीय प्रश्न (SA), दीर्घ उत्तरीय प्रश्न (LA) और केस आधारित प्रश्न (CBQ) शामिल हैं।
4. अति लघु उत्तरीय प्रश्न (VSA) प्रत्येक 2 अंक के हैं। प्रत्येक प्रश्न का उत्तर 40 शब्दों से अधिक नहीं होना चाहिए।
5. लघु उत्तरीय प्रश्न (SA) प्रत्येक 3 अंक के हैं। प्रत्येक प्रश्न का उत्तर 60 शब्दों से अधिक नहीं होना चाहिए।
6. दीर्घ उत्तरीय प्रश्न (LA) प्रत्येक 5 अंक के हैं। प्रत्येक प्रश्न का उत्तर 120 शब्दों से अधिक नहीं होना चाहिए।
7. केस आधारित प्रश्न (CBQ) में तीन उप-प्रश्न हैं और ये प्रत्येक 4 अंक के हैं। प्रत्येक प्रश्न का उत्तर 100 शब्दों से अधिक नहीं होना चाहिए।
8. मानचित्र आधारित प्रश्न 5 अंक के हैं, जिनमें दो भाग होंगे – खंड क (इतिहास) में प्रश्न 9 (2 अंक), खंड ख (भूगोल) में प्रश्न 19 (3 अंक)।
9. प्रश्न पत्र में समग्र विकल्प नहीं दिया गया है। हालांकि, कुछ प्रश्नों में आंतरिक विकल्प प्रदान किए गए हैं। ऐसे प्रश्नों में केवल एक विकल्प का ही उत्तर देना अनिवार्य है।


Sr. No	SECTION -A HISTORY (20 marks)				Marks
1.		Column A	Column B		1
		1. Treaty of Vienna (1815)	A.Unified Italy under Victor Emmanuel II		
		2. Unification of Italy (1870)	B. End of French monarchy under Louis XVI		
		3. French Revolution (1789)	C. Restoration of monarchies in Europe		
		4. Unification of Germay (1871)	D. Kaiser William I crowned in Versailles		
Match the following and Choose the correct option: A. 1–C, 2–A, 3–B, 4–D B. 1–B, 2–C, 3–A, 4–D C. 1–D, 2–B, 3–C, 4–A D.1–A, 2–D, 3–C, 4–B					
		कॉलम A	कॉलम B		
		1. वियना की संधि (1815)	A. विक्टर इमैनुएल द्वितीय के अधीन इटली का एकीकरण		
		2. इटली का एकीकरण (1870)	B. लुई सोलहवें के अधीन फ्रांसीसी राजशाही का अंत		
		3. फ्रांसीसी क्रांति (1789)	C. यूरोप में राजतंत्रों की पुनर्स्थापना		
		4. जर्मनी का एकीकरण (1871)	D. कैसर विलियम प्रथम का वर्साय में राज्याभिषेक		

	<p>मिलान कीजिए और सही विकल्प चुनिए :</p> <p>A. 1-C, 2-A, 3-B, 4-D</p> <p>B. 1-B, 2-C, 3-A, 4-D</p> <p>C. 1-D, 2-B, 3-C, 4-A</p> <p>D. 1-A, 2-D, 3-C, 4-B</p>	
2.	<p>The Dandi March was started by Gandhiji to protest against:</p> <p>A. Partition of Bengal</p> <p>B. Salt Tax</p> <p>C. Rowlatt Act</p> <p>D. Simon Commission</p> <p>डांडी मार्च गांधीजी ने किसके विरोध में शुरू किया था?</p> <p>A. बंगाल विभाजन</p> <p>B. नमक कर</p> <p>C. रॉलेट एक्ट</p> <p>D. साइमन कमीशन</p>	1
3.	<p>Which crop was called the 'poor man's food' in Europe and helped reduce famines?</p> <p>A. Potato</p> <p>B. Sugarcane</p> <p>C. Rice</p> <p>D. Cotton</p> <p>यूरोप में किस फसल को 'गरीब आदमी का भोजन' कहा जाता था और जिसने अकाल कम करने में मदद की?</p> <p>A. आलू</p> <p>B. गन्ना</p> <p>C. चावल</p> <p>D. कपास</p>	1
4.	 <p>(SOURCE:- India and The Contemporary World II, NCERT)</p> <p>Which of the following best signifies about this image?</p> <p>A. Cultural impact of the west</p> <p>B. Traditional family roles</p> <p>C. Destruction of proper family relations</p> <p>D. Status of women in society</p>  <p>(स्रोत :- भारत और समकालीन विश्व-II, एनसीईआरटी)</p> <p>निम्नलिखित में से कौन-सा विकल्प इस चित्र का सर्वोत्तम संकेत देता है?</p>	1

	A. पश्चिम का सांस्कृतिक प्रभाव B. पारंपरिक पारिवारिक भूमिकाएँ C. उचित पारिवारिक संबंधों का विनाश D. समाज में महिलाओं की स्थिति	
5A.	State three reasons why Europeans fled to America in the 19th century. उन्नीसवीं शताब्दी में यूरोपीय लोग अमेरिका क्यों भागे? कोई दो कारण बताइए।	2
	OR अथवा	
5B.	The pre-modern world shrank greatly in the 16th century". Why? "सोलहवीं शताब्दी में पूर्व-आधुनिक विश्व बहुत सिमट गया।" क्यों?	2
6A.	"The First World War created a new political situation in India." Justify the statement. "प्रथम विश्व युद्ध ने भारत में एक नई राजनीतिक स्थिति उत्पन्न की।" इस कथन को उचित ठहराइए।	3
	OR अथवा	
6B.	Why did Mahatma Gandhi called the British Act of 1919 a 'black law'? महात्मा गांधी ने ब्रिटिश 1919 के अधिनियम को 'काला कानून' क्यों कहा?	3
7A.	"The unification of Italy was a result of collective struggle and leadership." Justify this statement with suitable arguments. "इटली का एकीकरण सामूहिक संघर्ष और नेतृत्व का परिणाम था।" इस कथन को उपयुक्त तर्कों सहित उचित ठहराइए।	5
	OR अथवा	
7B.	Analyse the role of language, art, poetry, and folklore in strengthening nationalism in Europe. यूरोप में राष्ट्रवाद को मज़बूत करने में भाषा, कला, कविता और लोककथाओं की भूमिका का विश्लेषण कीजिए।	5
8.	Read the given text and answer the following questions (4) In 1517, the religious reformer Martin Luther wrote Ninety Five Theses criticising many of the practices and rituals of the Roman Catholic Church. A printed copy of this was posted on a church door in Wittenberg. It challenged the Church to debate his ideas. Luther's writings were immediately reproduced in vast numbers and read widely. This led to a division within the Church and to the beginning of the Protestant Reformation. Luther's translation of the New Testament sold 5,000 copies within a few weeks and a second edition appeared within three months. Deeply grateful to print, Luther said, 'Printing is the ultimate gift of God and the greatest one.' Several scholars, in fact, think that print brought about a new intellectual atmosphere and helped spread the new ideas that led to the Reformation. (SOURCE:- India and The Contemporary World II, NCERT) 8.1 What were Martin Luther's Ninety-Five Theses about? 8.2 How did the printing press help in spreading Luther's ideas? 8.3 What was the result of Luther's writings on the Church?	
	दिए गए पाठ को पढ़कर निम्नलिखित प्रश्नों के उत्तर दीजिए (4 अंक) 1517 में धार्मिक सुधारक मार्टिन लूथर ने नाइनटी फाइव थीसिस लिखीं, जिसमें रोमन कैथोलिक चर्च की कई प्रथाओं और अनुष्ठानों की आलोचना की गई थी। इसकी एक मुद्रित प्रति विटेनबर्ग के एक चर्च के द्वार पर लगाई गई। इसने चर्च को उनके विचारों पर बहस करने की चुनौती दी। लूथर की रचनाएँ तुरंत बड़ी संख्या में प्रकाशित हुईं और व्यापक रूप से पढ़ी गईं। इससे चर्च के भीतर विभाजन हुआ और प्रोटेस्टेंट सुधार की शुरुआत हुई। लूथर के नए नियम (New Testament) के अनुवाद की 5,000 प्रतियाँ कुछ ही हफ्तों में बिक गईं और तीन महीने के भीतर दूसरा संस्करण आ गया। मुद्रण के प्रति आभार व्यक्त करते हुए लूथर ने कहा - 'मुद्रण भगवान का सबसे बड़ा और सर्वोत्तम उपहार है।' कई विद्वानों का मानना है कि वास्तव में मुद्रण ने एक नया बौद्धिक वातावरण बनाया और नए विचारों को फैलाने में मदद की, जिसने सुधार आंदोलन को जन्म दिया। (स्रोत :- भारत और समकालीन विश्व-II, एनसीईआरटी) 8.1 मार्टिन लूथर की <i>नाइनटी फाइव थीसिस</i> किस बारे में थीं? 8.2 मुद्रण यंत्र ने लूथर के विचारों को फैलाने में कैसे मदद की? 8.3 लूथर की रचनाओं का चर्च पर क्या परिणाम हुआ?	1 1 2
	MAP SKILL-BASED QUESTION (2 marks)	
9.	Two places A and B have been marked on the given outline map of India. Identify them and write their correct names on the lines marked on the map. A) The place where the Jallianwala Bagh Massacre took place. B) The place where Indian National Congress session was held in 1927 भारत के रेखांकित मानचित्र पर A और B दो स्थान अंकित किए गए हैं। उनकी पहचान कीजिए और मानचित्र पर दिए गए स्थानों पर उनके सही नाम लिखिए। A) वह स्थान जहाँ जलियांवाला बाग हत्याकांड हुआ था।	1 1 1

	B) वह स्थान जहाँ भारतीय राष्ट्रीय कांग्रेस का अधिवेशन 1927 में हुआ था।	1																		
	SECTION B GEOGRAPHY (20 marks)																			
10.	<p>Resource planning in India involves three major steps: identification, planning, and matching availability with needs. What deeper principle does this reflect?</p> <p>A. Planning should focus only on industries. B. Only government should use resources. C. All regions have equal resource distribution. D. Development should be region-specific and people-centric</p> <p>भारत में संसाधन नियोजन में तीन प्रमुख चरण शामिल हैं: पहचान, योजना, और उपलब्धता को आवश्यकताओं से मिलाना। यह किस गहरे सिद्धांत को दर्शाता है?</p> <p>A. योजना को केवल उद्योगों पर केंद्रित होना चाहिए। B. केवल सरकार को ही संसाधनों का उपयोग करना चाहिए। C. सभी क्षेत्रों में संसाधनों का समान वितरण है। D. विकास क्षेत्र-विशेष और जन-केंद्रित होना चाहिए।</p>	1																		
11.	<table border="1"> <thead> <tr> <th>Soil Type</th><th>Crop Grown</th><th>Region/State</th></tr> </thead> <tbody> <tr> <td>Alluvial Soil</td><td>Rice, Wheat, Sugarcane</td><td>?</td></tr> <tr> <td>Black Soil (Regur)</td><td>?</td><td>Maharashtra, Gujarat, MP</td></tr> </tbody> </table> <p>Identify the appropriate option to fill in the empty boxes:</p> <p>A. Indo-Gangetic Plains, Cotton B. Western Ghats, Rice C. Deccan Plateau, Maize D. Thar Desert, Tea</p> <table border="1"> <thead> <tr> <th>मृदा का प्रकार</th><th>उगाई जाने वाली फसल</th><th>क्षेत्र/राज्य</th></tr> </thead> <tbody> <tr> <td>जलोढ़ मिट्टी</td><td>धान, गेहूँ, गन्ना</td><td>?</td></tr> <tr> <td>काली मिट्टी</td><td>?</td><td>महाराष्ट्र, गुजरात, मध्य प्रदेश</td></tr> </tbody> </table> <p>रिक्त स्थानों को भरने के लिए उपयुक्त विकल्प की पहचान कीजिए:</p> <p>A. इंडो-गंगा का मैदान, कपास B. पश्चिमी घाट, धान C. दक्षिण का पठार, मक्का D. थार मरुस्थल, चाय</p>	Soil Type	Crop Grown	Region/State	Alluvial Soil	Rice, Wheat, Sugarcane	?	Black Soil (Regur)	?	Maharashtra, Gujarat, MP	मृदा का प्रकार	उगाई जाने वाली फसल	क्षेत्र/राज्य	जलोढ़ मिट्टी	धान, गेहूँ, गन्ना	?	काली मिट्टी	?	महाराष्ट्र, गुजरात, मध्य प्रदेश	1
Soil Type	Crop Grown	Region/State																		
Alluvial Soil	Rice, Wheat, Sugarcane	?																		
Black Soil (Regur)	?	Maharashtra, Gujarat, MP																		
मृदा का प्रकार	उगाई जाने वाली फसल	क्षेत्र/राज्य																		
जलोढ़ मिट्टी	धान, गेहूँ, गन्ना	?																		
काली मिट्टी	?	महाराष्ट्र, गुजरात, मध्य प्रदेश																		
12	<p>Which of the following best reflects the idea of joint forest management (JFM)?</p> <p>A. Forests are managed only by the forest department. B. Local communities and the government share responsibility for forest protection. C. Forests are leased out to private companies. D. Villagers are allowed to use any forest resources.</p> <p>निम्नलिखित में से कौन-सा संयुक्त वन प्रबंधन (JFM) की अवधारणा को सर्वाधिक सही रूप में दर्शाता है?</p> <p>A. वन केवल वन विभाग द्वारा प्रबंधित किए जाते हैं। B. स्थानीय समुदाय और सरकार, वनों की सुरक्षा की ज़िम्मेदारी साझा करते हैं। C. वनों को निजी कंपनियों को पट्टे पर दिया जाता है। D. ग्रामीणों को किसी भी वन संसाधन का उपयोग करने की अनुमति होती है।</p>	1																		
13.	<p>Assertion (A): Reserved forests are regarded as the most valuable for the conservation of forest and wildlife resources.</p> <p>Reason (R): Reserved forests are strictly protected, and often have restricted human access, which helps to preserve them from exploitation.</p> <p>Choose the correct option:</p> <p>A. Both A and R are true, and R is the correct explanation of A. B. Both A and R are true, but R is not the correct explanation of A. C. A is true, but R is false. D. A is false, but R is true.</p> <p>अभिकथन (A): आरक्षित वन, वनों और वन्यजीव संसाधनों के संरक्षण के लिए सबसे मूल्यवान माने जाते हैं। कारण (R): आरक्षित वनों की कड़ी सुरक्षा की जाती है और अक्सर मानव पहुँच प्रतिबंधित होती है, जिससे उन्हें शोषण से बचाया जा सकता है।</p> <p>सही विकल्प चुनिए:</p> <p>A. A और R दोनों सही हैं, तथा R, A की सही व्याख्या है। B. A और R दोनों सही हैं, लेकिन R, A की सही व्याख्या नहीं है।</p>	1																		


	C. A सही है, लेकिन R गलत है। D. A गलत है, लेकिन R सही है।	
14.	<p>A city faces severe water scarcity despite heavy rainfall. Which of the following is the most logical reason?</p> <p>A. Lack of proper water harvesting and storage system. B. Over-dependence on traditional rainwater tanks. C. Excess water stored in underground aquifers. D. Decrease in industrial water demand.</p> <p>एक शहर में भारी वर्षा होने के बावजूद भीषण जल संकट है। इसका सबसे तर्कसंगत कारण कौन-सा है?</p> <p>A. उचित जल संचयन और भंडारण प्रणाली का अभाव। B. पारंपरिक वर्षा जल टैंकों पर अत्यधिक निर्भरता। C. भूमिगत जलभृतों (Aquifers) में अतिरिक्त जल का संग्रह। D. औद्योगिक जल की मांग में कमी।</p>	1
15.	<p>Why are multi-purpose river valley projects often called the "Temples of Modern India"?</p> <p>A. They are built with great architectural design B. They serve multiple developmental purposes such as irrigation, power, and flood control C. They are used only for religious rituals D. They are constructed only on sacred rivers</p> <p>बहुउद्देशीय नदी घाटी परियोजनाओं को अक्सर "आधुनिक भारत के मंदिर" क्यों कहा जाता है?</p> <p>A. इन्हें शानदार वास्तुकला डिजाइन से बनाया गया है। B. ये सिंचाई, बिजली उत्पादन और बाढ़ नियंत्रण जैसे अनेक विकासात्मक उद्देश्यों की पूर्ति करती हैं। C. इनका उपयोग केवल धार्मिक अनुष्ठानों के लिए किया जाता है। D. इन्हें केवल पवित्र नदियों पर बनाया जाता है।</p>	1
16.	<p>What is India's position in the world regarding sugarcane production? Write the geographical conditions required for its growth.</p> <p>विश्व में गन्ना उत्पादन के संबंध में भारत की स्थिति क्या है? गन्ने की खेती के लिए आवश्यक भौगोलिक परिस्थितियाँ लिखिए।</p>	2
17A.	<p>India is rich in natural resources, yet it faces challenges in the field of minerals and energy. Imagine you are a policy-maker in the Ministry of Mines and Energy. As a policy-maker, suggest three sustainable measures for the conservation of mineral resources and give two alternative energy sources that can reduce India's dependence on fossil fuels.</p> <p>भारत प्राकृतिक संसाधनों से समृद्ध है, फिर भी इसे खनिज और ऊर्जा के क्षेत्र में चुनौतियों का सामना करना पड़ता है। कल्पना कीजिए कि आप खनन और ऊर्जा मंत्रालय में एक नीति-निर्माता हैं। एक नीति-निर्माता के रूप में खनिज संसाधनों के संरक्षण के लिए तीन सतत उपाय सुझाइए और ऐसे दो वैकल्पिक ऊर्जा स्रोत बताइए जो भारत की जीवाश्म ईंधनों पर निर्भरता को कम कर सकते हैं।</p>	5
OR अथवा		
17B.	<p>Mines in Jharkhand have huge reserves of high-grade iron ore. However, mining in this region has led to deforestation, soil erosion, and pollution of nearby rivers. Why is iron ore considered an important mineral for India's development and Suggest three ways by which mining in such regions can be made more sustainable.</p> <p>झारखंड की खानों में उच्च गुणवत्ता वाले लौह अयस्क का विशाल भंडार है। किन्तु, इस क्षेत्र में खनन के कारण वनों की कटाई, मृदा अपरदन और समीपवर्ती नदियों का प्रदूषण बढ़ गया है। भारत के विकास के लिए लौह अयस्क को एक महत्वपूर्ण खनिज क्यों माना जाता है? तथा तीन उपाय सुझाइए जिनसे ऐसे क्षेत्रों में खनन को अधिक टिकाऊ (सतत) बनाया जा सके।</p>	5
18.	<p>Read the passage carefully and answer the following questions:</p> <p>Production of goods in large quantities after processing from raw materials to more valuable products is called manufacturing. Paper is manufactured from wood, sugar from sugarcane, iron and steel from iron ore and aluminium from bauxite. Some types of clothes are manufactured from yarn which itself is an industrial product. People employed in the secondary activities manufacture the primary materials into finished goods. The workers employed in steel factories, car, breweries, textile industries, bakeries etc. fall into this category. The economic strength of a country is measured by the development of manufacturing industries.</p> <p>(Source: Contemporary India -II NCERT)</p> <p>18.1 Which activity adds value to raw materials by processing them? 18.2 From which raw material is aluminium manufactured? 18.3 Why is the development of manufacturing industries considered a measure of a country's economic strength?</p> <p>गद्यांश को ध्यानपूर्वक पढ़िए और निम्नलिखित प्रश्नों के उत्तर दीजिए:</p> <p>कच्चे माल को संसाधित कर अधिक मूल्यवान उत्पादों में बड़े पैमाने पर वस्तुओं का उत्पादन ही विनिर्माण (Manufacturing) कहलाता है। कागज लकड़ी से, चीनी गन्ने से, लोहा और इस्पात लौह अयस्क से तथा एल्युमिनियम</p>	<p>1 1 2</p>

	<p>बॉक्साइट से बनाया जाता है। कुछ प्रकार के कपड़े सूत से बनाए जाते हैं जो स्वयं एक औद्योगिक उत्पाद है। द्वितीयक क्रियाकलापों में लगे लोग प्राथमिक सामग्रियों को तैयार वस्तुओं में बदलते हैं। इस श्रेणी में इस्पात कारखानों, कार, शराब, वस्त्र उद्योग, बेकरी आदि में कार्यरत लोग आते हैं। किसी देश की आर्थिक शक्ति का आकलन उसके विनिर्माण उद्योगों के विकास से किया जाता है।</p> <p>(स्रोत :- समकालीन भारत-II, एनसीईआरटी)</p> <p>18.1 कौन-सी गतिविधि कच्चे माल को संसाधित करके उसमें मूल्य वृद्धि करती है?</p> <p>18.2 एल्युमिनियम किस कच्चे माल से बनाया जाता है?</p> <p>18.3 किसी देश की आर्थिक शक्ति का मापन विनिर्माण उद्योगों के विकास से क्यों किया जाता है?</p>	<p>1</p> <p>1</p> <p>2</p>
	MAP SKILL-BASED QUESTION (3 marks)	
19.	<p>On the same outline map of India locate and label the following with suitable symbols:</p> <p>I.(p) Locate the multipurpose dam in Gujarat known for irrigation, hydroelectricity, and drinking water supply, built on the Narmada River.</p> <p style="text-align: center;">OR</p> <p>(q) On the map, mark the dam that provides hydroelectric power and water supply in Uttarakhand, constructed on a tributary of the Ganga."</p> <p>II. Any two of the following:</p> <p>(i) A Software Technology Park in Tamilnadu</p> <p>(ii) Tarapur Nuclear PowerPlant</p> <p>(iii) An international airport in Punjab</p> <p>भारत के रेखा मानचित्र पर निम्नलिखित को उपयुक्त प्रतीकों के साथ चिह्नित और नामांकित कीजिए:</p> <p>I.(p) गुजरात में बहुउद्देशीय बांध का स्थान चिह्नित कीजिए, जो सिंचाई, जलविद्युत और पेयजल आपूर्ति के लिए जाना जाता है और नर्मदा नदी पर बना है।</p> <p style="text-align: center;">अथवा</p> <p>(q) मानचित्र पर उस बांध को चिह्नित कीजिए जो उत्तराखंड में गंगा नदी की एक उपनदी पर बना है और जलविद्युत शक्ति व जल आपूर्ति प्रदान करता है।</p> <p>II. निम्नलिखित में से किसी भी दो को चिह्नित कीजिए:</p> <p>(i) तमिलनाडु में एक सॉफ्टवेयर प्रौद्योगिकी पार्क</p> <p>(ii) तारापुर न्यूक्लियर पावर प्लांट</p> <p>(iii) पंजाब में एक अंतर्राष्ट्रीय हवाई अड्डा</p>	<p>1 +2</p> <p>1 +2</p>
	SECTION C	
	POLITICAL SCIENCE (20 marks)	
20.	<p>What do the names of the places on the Direction Sign Board represent?</p>  <p>(Source: Democratic Politics -II NCERT)</p> <p>A. Religious accommodation of Belgium</p> <p>B. Gender accommodation of Belgium</p> <p>C. Linguistic accommodation of Belgium</p> <p>D. Cultural accommodation of Belgium</p> <p>दिशा संकेत-पट्ट पर लिखे स्थानों के नाम क्या दर्शाते हैं?</p>	1



(स्रोत :- लोकतांत्रिक राजनीति-II, एनसीईआरटी)

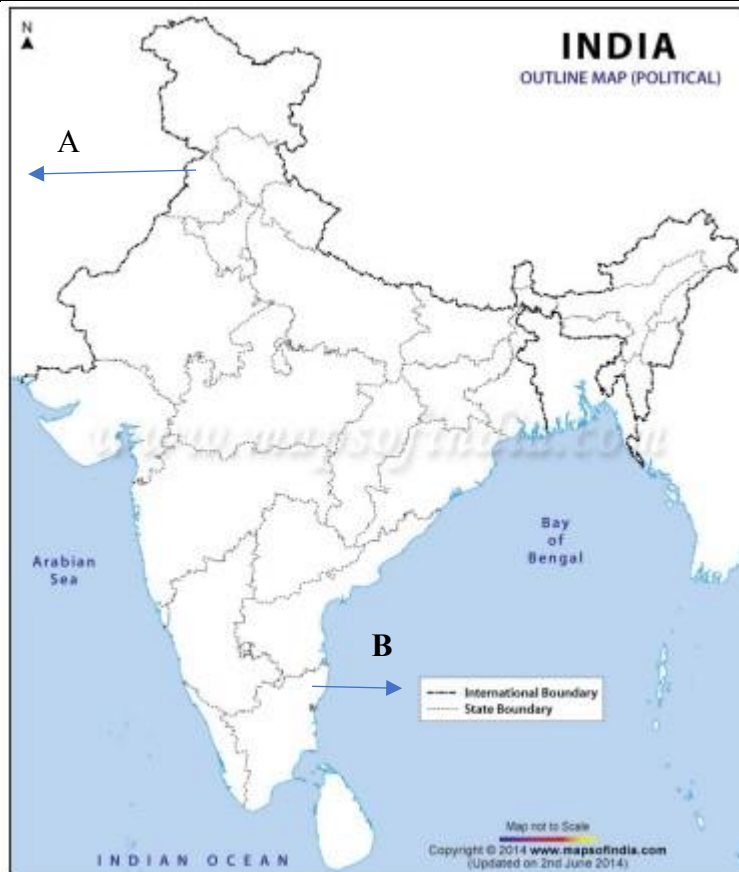
- A. बेल्जियम का धार्मिक समायोजन
- B. बेल्जियम का लिंग समायोजन
- C. बेल्जियम का भाषाई समायोजन
- D. बेल्जियम का सांस्कृतिक समायोजन

	 <p>(स्रोत :- लोकतांत्रिक राजनीति-II, एनसीईआरटी)</p> <ul style="list-style-type: none"> A. बेल्जियम का धार्मिक समायोजन B. बेल्जियम का लिंग समायोजन C. बेल्जियम का भाषाई समायोजन D. बेल्जियम का सांस्कृतिक समायोजन 	
21.	<p>Which of the following is a goal of decentralisation?</p> <ul style="list-style-type: none"> A. Reduce state power B. Create more jobs C. Promote local self-governance D. Increase taxes <p>निम्नलिखित में से विकेंद्रीकरण का मुख्य उद्देश्य कौन सा है?</p> <ul style="list-style-type: none"> A. राज्य की शक्ति को कम करना B. अधिक रोजगार सृजित करना C. स्थानीय स्वशासन को बढ़ावा देना D. करों में वृद्धि करना 	1
22.	<p>Assertion (A): Power is shared equally between the central and state governments in India, ensuring complete autonomy at each level.</p> <p>Reason (R): The Constitution of India allows both the Union and State Governments to exercise their powers independently.</p> <ul style="list-style-type: none"> A. Both A and R are true, and R is the correct explanation of A. B. Both A and R are true, but R is not the correct explanation of A. C. A is true, but R is false. D. A is false, but R is true. <p>अभिकथन (A): भारत में शक्ति केंद्र और राज्य सरकारों के बीच समान रूप से साझा की जाती है, जिससे प्रत्येक स्तर को पूर्ण स्वायत्तता प्राप्त होती है।</p> <p>कारण (R): भारत का संविधान संघ और राज्य सरकारों को अपनी शक्तियों का स्वतंत्र रूप से प्रयोग करने की अनुमति देता है।</p> <p>सही विकल्प चुनिए:</p> <ul style="list-style-type: none"> A. A और R दोनों सही हैं, तथा R, A की सही व्याख्या है। B. A और R दोनों सही हैं, लेकिन R, A की सही व्याख्या नहीं है। C. A सही है, लेकिन R गलत है। D. A गलत है, लेकिन R सही है। 	1
23.	<p>In India, despite legal equality, women still face inequality in education, employment, and decision-making. Which of the following is the main reason?</p> <ul style="list-style-type: none"> A. Social norms, patriarchal mindset, and traditional roles B. Women's lack of interest in development C. Biological differences D. Absence of schools in India <p>भारत में कानूनी समानता के बावजूद महिलाएं शिक्षा, रोजगार और निर्णय-निर्माण में असमानता का सामना क्यों करती हैं? निम्नलिखित में से मुख्य कारण कौन सा है?</p> <ul style="list-style-type: none"> A. सामाजिक मानदंड, पितृसत्तात्मक मानसिकता और पारंपरिक भूमिकाएँ B. विकास में महिलाओं की रुचि की कमी C. केवल जैविक अंतर D. भारत में स्कूलों की अनुपस्थिति 	1
24.	<p>What is the main purpose of having a federal system in a large and diverse country like India?</p> <p>भारत जैसे बड़े और विविध देश में संघीय प्रणाली रखने का मुख्य उद्देश्य क्या है?</p>	2

25.	Women's participation in local governance has increased due to reserved seats. Analyze one long-term effect of this policy. स्थानीय शासन में महिलाओं की भागीदारी आरक्षित सीटों के कारण बढ़ी है। इस नीति का एक दीर्घकालिक प्रभाव विश्लेषित कीजिए।	2
26.	Name any two National Political Parties of India as per 2023 notification of Election Commission of India? State the conditions required to be a national political party. 2023 की चुनाव आयोग की अधिसूचना के अनुसार, भारत की कोई दो राष्ट्रीय राजनीतिक पार्टियों के नाम बताइए। राष्ट्रीय राजनीतिक पार्टी बनने की शर्तें क्या हैं, स्पष्ट कीजिए।	3
27A.	What is the main outcome of democracy with reference to reduction of inequality and poverty? Give any two arguments to support your answer. असमानता और गरीबी को कम करने के संदर्भ में लोकतंत्र का मुख्य परिणाम क्या है? अपने उत्तर का समर्थन करने के लिए कोई भी दो तर्क दीजिए।	5
OR		
27B.	"The facts that people are complaining is itself a testimony to the success of democracy." Justify the statement by giving points. "लोगों का शिकायत करना ही लोकतंत्र की सफलता का परिणाम है।" इस कथन को कुछ बिंदुओं के माध्यम से स्पष्ट कीजिए।	5
28.	Read the passage carefully and answer the following questions: The idea of power-sharing has emerged in opposition to the notions of undivided political power. For a long time, it was believed that all power of a government must reside in one person or group of persons located at one place. It was felt that if the power to decide is dispersed, it would not be possible to take quick decisions and enforce them. But these notions have changed with the emergence of democracy. One basic principle of democracy is that people are the source of all political power. In a democracy, people rule themselves through institutions of self-government. In a good democratic government, due respect is given to diverse groups and views that exist in a society. Everyone has a voice in the shaping of public policies. Therefore, it follows that in a democracy, political power should be distributed among as many citizens as possible. In modern democracies, power-sharing arrangements can take many forms. (Source: Democratic Politics -II NCERT) 28.1 What is the main reason for the emergence of the idea of power-sharing? 28.2 Give one example of a modern power-sharing arrangement mentioned in democracies. 28.3 Explain how power-sharing respects diverse groups in a democracy? गद्यांश पढ़ें और निम्नलिखित प्रश्नों के उत्तर दीजिए: शक्ति-साझाकरण (Power-sharing) का विचार एक केंद्रीकृत राजनीतिक सत्ता के विचार के विरोध में उभरा है। लंबे समय तक यह माना जाता रहा कि किसी भी सरकार की सारी शक्ति एक व्यक्ति या कुछ व्यक्तियों के पास केंद्रित होनी चाहिए। ऐसा महसूस किया जाता था कि अगर निर्णय लेने की शक्ति बंट जाए, तो त्वरित निर्णय लेना और उसे लागू करना संभव नहीं होगा। लेकिन लोकतंत्र के उदय के साथ ये विचार बदल गए। लोकतंत्र का एक मूल सिद्धांत यह है कि सभी राजनीतिक शक्ति लोगों से उत्पन्न होती है। लोकतंत्र में लोग स्वयं शासन करते हैं, स्वशासन संस्थाओं के माध्यम से। एक अच्छे लोकतांत्रिक शासन में समाज में मौजूद विविध समूहों और विचारों का सम्मान किया जाता है। सभी लोगों की सार्वजनिक नीतियों के निर्माण में आवाज़ होती है। इसलिए, यह निष्कर्ष निकलता है कि लोकतंत्र में राजनीतिक शक्ति को अधिक से अधिक नागरिकों के बीच वितरित किया जाना चाहिए। आधुनिक लोकतंत्रों में शक्ति-साझाकरण के कई प्रकार हो सकते हैं। (स्रोत :- लोकतांत्रिक राजनीति-II, एनसीईआरटी) 28.1 शक्ति-साझाकरण के विचार के उद्भव का मुख्य कारण क्या है? 28.2 लोकतंत्र में आधुनिक शक्ति-साझाकरण का एक उदाहरण दीजिए। 28.3 लोकतंत्र में शक्ति-साझाकरण कैसे विविध समूहों का सम्मान करता है?	1 1 2 1 1 2
SECTION- D ECONOMICS (20 marks)		
29.	Which of the following statements best explains why HDI is considered better than per capita income as a measure of development? A. HDI includes only economic growth indicators B. HDI shows how income is distributed among people C. HDI combines both economic and social factors of development D. HDI ignores the role of income in development निम्नलिखित में से कौन-सा कथन सबसे अच्छी तरह यह समझाता है कि मानव विकास सूचकांक (HDI) को विकास के माप के रूप में प्रति व्यक्ति आय से बेहतर क्यों माना जाता है? A. एच.डी.आई. केवल आर्थिक वृद्धि के सूचक शामिल करता है। B. एच.डी.आई. यह दर्शाता है कि आय लोगों के बीच कैसे वितरित होती है। C. एच.डी.आई. विकास के आर्थिक और सामाजिक दोनों पहलुओं को सम्मिलित करता है।	1

	D. एच.डी.आई. विकास में आय की भूमिका को नज़रअंदाज़ करता है।		
30.	<p>The Kerala model of development focuses more on health and education than on per capita income. What lesson can other states learn from this model?</p> <p>A. Only income matters for development B. Social investments improve quality of life even at low income levels C. HDI indicators cannot be improved without high income D. Economic growth is more important than human welfare</p> <p>केरल का विकास मॉडल प्रति व्यक्ति आय की तुलना में स्वास्थ्य और शिक्षा पर अधिक ध्यान देता है। अन्य राज्य इस मॉडल से क्या सबक ले सकते हैं?</p> <p>A. केवल आय ही विकास के लिए महत्वपूर्ण है B. सामाजिक निवेश जीवन की गुणवत्ता को कम आय स्तर पर भी सुधारते हैं C. उच्च आय के बिना एच.डी.आई. सूचकांक को सुधारा नहीं जा सकता D. आर्थिक विकास मानव कल्याण से अधिक महत्वपूर्ण है</p>		1
31.	<p>Why is the growth of the secondary sector considered important for a developing country like India?</p> <p>A. It reduces dependence on imports and provides jobs in manufacturing. B. It replaces the need for agriculture. C. It makes the service sector unnecessary. D. It focuses only on producing raw materials.</p> <p>भारत जैसे एक विकासशील देश के लिए द्वितीयक क्षेत्र (Secondary Sector) की वृद्धि को क्यों महत्वपूर्ण माना जाता है?</p> <p>A. यह आयात पर निर्भरता को कम करता है और विनिर्माण (manufacturing) में रोजगार प्रदान करता है। B. यह कृषि की आवश्यकता को समाप्त कर देता है। C. यह सेवा क्षेत्र को अनावश्यक बना देता है। D. यह केवल कच्चे माल के उत्पादन पर केंद्रित होता है।</p>		1
32.	<p>What is the main source of income of a bank?</p> <p>A. Bank charges that the depositors pay for ; keeping their money safe is the main source of the bank's income. B. The difference between what is charged from the borrowers and paid to the depositors is the main source of bank's income. C. Banks earn huge amounts of money by investing the money of the depositors in various company shares. D. The Government of India gives huge amounts of money to the banks to help their smooth functioning.</p> <p>किसी बैंक की आय का मुख्य स्रोत क्या है?</p> <p>A. जमाकर्ताओं से उनकी राशि सुरक्षित रखने के लिए लिए गए बैंक शुल्क, बैंक की आय का मुख्य स्रोत हैं। B. उधारकर्ताओं से वसूले गए ब्याज और जमाकर्ताओं को दिए गए ब्याज के बीच का अंतर, बैंक की आय का मुख्य स्रोत है। C. बैंक, जमाकर्ताओं के पैसों को विभिन्न कंपनियों के शेयरों में निवेश करके भारी लाभ कमाते हैं। D. भारत सरकार, बैंकों को उनके सुचारू संचालन के लिए भारी धनराशि देती है।</p>		1
33.	<p>Which of the following is NOT true about Self Help Groups (SHGs)?</p> <p>A. SHGs depend completely on moneylenders for lending. B. SHGs are usually formed by 15–20 members, especially women. C. SHGs provide loans to members at reasonable interest rates. D. SHGs help promote savings and self-reliance among members.</p> <p>निम्नलिखित में से कौन-सा कथन स्व-सहायता समूहों (SHGs) के बारे में सत्य नहीं है?</p> <p>A. स्व-सहायता समूह पूरी तरह से साहूकारों पर ऋण के लिए निर्भर होते हैं। B. स्व-सहायता समूह सामान्यतः 15–20 सदस्यों, विशेषकर महिलाओं द्वारा बनाए जाते हैं। C. स्व-सहायता समूह अपने सदस्यों को उचित ब्याज दरों पर ऋण प्रदान करते हैं। D. स्व-सहायता समूह बचत और आत्मनिर्भरता को बढ़ावा देने में मदद करते हैं।</p>		1
34.	Column A (Effect)	Column B (Description)	1
	A. Rapid spread of technology	1. India becomes a preferred destination for outsourcing services	
	B. Increased foreign trade	2. High-speed internet and communication networks expand	
	C. Outsourcing	3. Exports and imports of goods and services increase	
	D. Global reach of MNCs	4. Coca-Cola, Hyundai, Nike set up production worldwide	

	<p>Match the following effects of globalisation with their correct description: Options:</p> <p>A. A-2, B-3, C-1, D-4 B. A-3, B-1, C-4, D-2 C. A-1, B-4, C-3, D-2 D. A-4, B-2, C-1, D-3</p> <table><tr><th>स्तंभ A (प्रभाव)</th><th>स्तंभ B (विवरण)</th></tr><tr><td>A. प्रौद्योगिकी का तीव्र प्रसार</td><td>1. भारत, आउटसोर्सिंग सेवाओं का पसंदीदा गंतव्य बनता है</td></tr><tr><td>B. विदेशी व्यापार में वृद्धि</td><td>2. उच्च गति वाला इंटरनेट और संचार नेटवर्क का विस्तार</td></tr><tr><td>C. आउटसोर्सिंग</td><td>3. वस्तुओं और सेवाओं का निर्यात और आयात बढ़ता है</td></tr><tr><td>D. बहुराष्ट्रीय कंपनियों (MNCs) की वैश्विक पहुँच</td><td>4. कोका-कोला, हुंडई, नाइकी जैसी कंपनियाँ विश्वभर में उत्पादन इकाइयाँ स्थापित करती हैं</td></tr></table> <p>वैश्वीकरण के प्रभावों का उनके सही विवरण से मिलान कीजिए: विकल्प: A. A-2, B-3, C-1, D-4 B. A-3, B-1, C-4, D-2 C. A-1, B-4, C-3, D-2 D. A-4, B-2, C-1, D-3</p>	स्तंभ A (प्रभाव)	स्तंभ B (विवरण)	A. प्रौद्योगिकी का तीव्र प्रसार	1. भारत, आउटसोर्सिंग सेवाओं का पसंदीदा गंतव्य बनता है	B. विदेशी व्यापार में वृद्धि	2. उच्च गति वाला इंटरनेट और संचार नेटवर्क का विस्तार	C. आउटसोर्सिंग	3. वस्तुओं और सेवाओं का निर्यात और आयात बढ़ता है	D. बहुराष्ट्रीय कंपनियों (MNCs) की वैश्विक पहुँच	4. कोका-कोला, हुंडई, नाइकी जैसी कंपनियाँ विश्वभर में उत्पादन इकाइयाँ स्थापित करती हैं	
स्तंभ A (प्रभाव)	स्तंभ B (विवरण)											
A. प्रौद्योगिकी का तीव्र प्रसार	1. भारत, आउटसोर्सिंग सेवाओं का पसंदीदा गंतव्य बनता है											
B. विदेशी व्यापार में वृद्धि	2. उच्च गति वाला इंटरनेट और संचार नेटवर्क का विस्तार											
C. आउटसोर्सिंग	3. वस्तुओं और सेवाओं का निर्यात और आयात बढ़ता है											
D. बहुराष्ट्रीय कंपनियों (MNCs) की वैश्विक पहुँच	4. कोका-कोला, हुंडई, नाइकी जैसी कंपनियाँ विश्वभर में उत्पादन इकाइयाँ स्थापित करती हैं											
35.	Why are public facilities, such as education and healthcare, essential for a nation's development? एक देश के विकास के लिए शिक्षा और स्वास्थ्य जैसी सार्वजनिक सुविधाएँ क्यों आवश्यक हैं?	3										
36.	Formal sector credit is preferred over informal sector credit. Do you agree? Give three reasons. औपचारिक क्षेत्र का ऋण, अनौपचारिक क्षेत्र के ऋण की तुलना में अधिक पसंद किया जाता है। क्या आप सहमत हैं? तीन कारण बताइए।	3										
37.	Why is technology considered the most crucial factor of globalisation in the present world? Support with examples. वर्तमान विश्व में वैश्वीकरण का सबसे महत्वपूर्ण कारक प्रौद्योगिकी को क्यों माना जाता है? उदाहरणों सहित स्पष्ट कीजिए।	3										
38A.	An NGO reports that workers in small factories and workshops are paid very low wages, often less than the minimum wage. Many work without job security, health benefits, or safe conditions. Which type of employment is described here? Why is it necessary for the government to regulate working conditions in this sector? एक गैर-सरकारी संगठन (NGO) रिपोर्ट करता है कि छोटे कारखानों और कार्यशालाओं में काम करने वाले मज़दूरों को बहुत कम वेतन दिया जाता है, जो अक्सर न्यूनतम वेतन से भी कम होता है। कई लोग बिना नौकरी की सुरक्षा, स्वास्थ्य सुविधाओं या सुरक्षित परिस्थितियों के काम करते हैं। यहाँ किस प्रकार के रोजगार का वर्णन किया गया है? सरकार के लिए इस क्षेत्र में काम करने की परिस्थितियों को नियंत्रित करना क्यों आवश्यक है?	5										
	OR अथवा											
38B.	Economic activities, though grouped into three different categories, are highly interdependent.' Discuss with the help of suitable examples. “आर्थिक गतिविधियाँ, यद्यपि तीन अलग-अलग श्रेणियों में विभाजित की गई हैं, परंतु वे एक-दूसरे पर अत्यधिक निर्भर होती हैं।” उदाहरणों की सहायता से स्पष्ट कीजिए।	5										
	Map for Q no. 9 (Section A) & Q no. 19 (Section B) प्रश्न संख्या 9 (खंड क) एवं प्रश्न संख्या 19 (खंड ग) के लिए मानचित्र											



END OF THE PAPER