

TG GURUKUL CET- 2017**(Common Entrance Test for Admission into Class V
in TREIS, SC, ST & BC Welfare Residential Institutions)****Time : 2 hours****Max Mark : 100****Instructions to Candidates :-****అభ్యర్థులకు సూచనలు :-**

1. Each Question carries 1 mark.
ప్రతి ప్రశ్నకు ఒక మార్కు.
2. The Question Paper consists of **Four** parts.
ప్రశ్నాపత్రంలో నాలుగు భాగాలున్నాయి.
Part A - 25 Marks (Q. No. 1 - 25) - తెలుగు / ఉర్దూ
Part B - 25 Marks (Q. No. 26 - 50) - English
Part C - 25 Marks (Q. No. 51 - 75) - Mathematics
Part D - 25 Marks (Q. No. 76 - 100) - Environmental Science
3. Before you begin to answer, fill in the necessary particulars and sign in the OMR sheet failing which the script will not be valued.
జవాబులను రాయడానికి ముందు OMR లో వివరాలను నింపి, అభ్యర్థులు సంతకం చేయాలి, లేనిచో జవాబు పత్రం దిద్దబడదు.
4. You are prohibited from writing your name and register number on any part of the OMR sheet.
OMR లో మీ పేరు గానీ లేదా మీ రిజిస్టర్ సంఖ్య కానీ రాయకూడదు.
5. In case, your Hall Ticket Number is not printed in the OMR sheet, write it in the box provided in the OMR sheet itself.
హాల్ టికెట్ సంఖ్య OMR లో ముద్రించబడనప్పుడు అక్కడే ఉన్న గడిలో మీ హాల్ టికెట్ సంఖ్యను రాయాలి.
6. You are prohibited from bringing loose sheets of paper or books, written or unwritten, printed, typed or cyclostyled into the examination hall.
రాసిన, ముద్రించిన, టైపు లేదా సైక్లోస్టైల్ చేయబడిన విడి పేపర్లను/పుస్తకాలను పరీక్షా హాల్లోకి తీసుకురాకూడదు.
7. Choose the correct answer and darken the relevant circle in the OMR sheet with a Blue / Black ball point pen.
సరైన జవాబులను నిర్ణయించుకొని OMR లోని సంబంధిత వృత్తాకారాన్ని (circle) OMR నీలి/నల్లని బాల్ పాయింట్ పెన్ ద్వారా దిద్దాలి/నల్లగా చేయాలి.
8. Candidates are **NOT** permitted to leave the Exam Hall till the last 10 minutes.
నిర్ధారిత పరీక్ష సమయానికి చివరి 10 నిమిషాల వరకు అభ్యర్థులు పరీక్షా హాల్ వదిలి వెళ్ళడానికి అనుమతించబడరు.

తెలుగు
Telugu

1. 'అష్టదిక్కులు' లో ఉన్న సంఖ్య ఎంత?
(A) తొమ్మిది
(B) పది
(C) ఎనిమిది
(D) రెండు
2. క్రింది వానిలో సరళాలు ఏవి?
(A) కచటతప
(B) తచటకప
(C) గజడదబ
(D) గసడదప.
3. పూర్ణ ఆనంద్‌లు 'ఎవరెస్ట్' ను ఎక్కారు.
గీత గీసిన పదం ఏ కాలం?
(A) భవిష్యత్కాలం
(B) భూతకాలం
(C) శీతాకాలం
(D) వర్తమానకాలం
4. ఇద్దరు కలిసి మాట్లాడుకోవడాన్ని ఏమంటారు?
(A) ఏకపాత్రాభినయం
(B) సంభాషణ
(C) స్వభాష
(D) విభాష
5. సీత అందమైన అమ్మాయి.
గీత గీసిన పదం ఏ భాషాభాగం?
(A) నామనాచకం
(B) అవ్యయం
(C) క్రియ
(D) విశేషణం

6. తరువు లేని చోట వచ్చి తీరుతుంది.

- (A) పరువు
- (B) బరువు
- (C) కరువు
- (D) దరువు

7. గుర్రపు స్వాతీ చేసేవాడు.

- (A) రాతు
- (B) రైతు
- (C) బైతు
- (D) సేతు

8. పన్నెండు సంవత్సరాలకొకసారి వచ్చేది.

- (A) పుష్యరం
- (B) పర్వం
- (C) గ్రీష్మం
- (D) చైత్రం

9. దీని వాడకం పర్యావరణానికి హానికరం.

- (A) నీరు
- (B) మట్టి
- (C) ప్లాస్టిక్
- (D) కాగితం

10. జాతీయ సమ్మెకృత అంటే

- (A) మూడు దేశాలు కలిసినది.
- (B) జాతి అంతా ఒకటే అన్న భావన.
- (C) అది ఒక కార్యాలయం.
- (D) అది ఒక వస్తువు.

11. అపకారికి ఉపకారము నెపమెన్నక చేయువాడు

- (A) కూర్పరి
- (B) మార్పరి
- (C) నేర్పరి
- (D) చెరుపరి

12. గోదావరి నది ఎక్కడ పుట్టింది?

- (A) మహారాష్ట్ర
- (B) ఆంధ్ర ప్రదేశ్
- (C) తెలంగాణ
- (D) ఉత్తర ప్రదేశ్

13. కంప్యూటర్ పరిజ్ఞానం పెరగడం వల్ల 'సెల్ ఫోన్' ఆధారంగా సమాచారాన్ని రెప్పపాటు కాలంలో చేరవేయు సౌకర్యం.

- (A) వి.ఎమ్.ఎస్.
- (B) ఎస్.ఎమ్.ఎస్.
- (C) పిన్
- (D) ఎమ్.వి.ఎస్.

14. క్రింది గళ్ళలో ఉన్న ద్విత్వాక్షర పదాన్ని గుర్తించండి.

ట	మ	ర	ఠ
ళ	గ్గ	ల	వ
య	ము	శ	బ
ప	ఇ	ఛ	జ

- (A) పగ్గము
- (B) తగ్గము
- (C) నెగ్గము
- (D) మగ్గము

15. తెలంగాణ అధికారిక చిహ్నం ఏ రంగులో ఉంటుంది?

- (A) ఎరుపు
- (B) పసుపు
- (C) ఆకుపచ్చ
- (D) నీలం

క్రింది పేరాను చదివి ప్రశ్నలకు సరియగు సమాధానాలను గుర్తించండి. (16 - 20)

మానవులకు ఎంత మాత్రం దయాదాక్షిణ్యాలు లేవు. మనం వీళ్ళకు నీడని, పూలనీ, ఆకులనీ ఇస్తున్నాం. ఎప్పుడైనా బుద్ధి పుడితే నాటుతారు. రోజూ ఇన్ని నీళ్ళైన పోయారు. మనను కాపాడే ప్రయత్నం ఇంతైనా చేయరు. మనతోనే గదా ! భూమి వచ్చంగ కళకళలాడుకుంటు ఉంటుంది. మనం లేకుంటే వాళ్ళు భవిష్యత్తులో ఎన్ని కష్టాలు. పడుతరో వాళ్ళకు తెలియటం లేదు. వీళ్ళు మనను నాటకున్నా, పెంచకున్నా, అడవులల్ల మన పాటికి మనం పెరుగుతుంటే కూడ మనను నరకేస్తారు. తమ ముప్పును తామే తెచ్చుకుంటున్నారు.

16. "అడవులలో మన పాటికి మనం పెరుగుతున్న మనను నరకేస్తారు." ఈ వాక్యం ఎవరితో అంటున్నట్లున్నది?

- (A) జంతువులతో
- (B) మానవులతో
- (C) పక్షులతో
- (D) పచ్చిపులతో

17. పై పేరా ఎవరి గురించి ఉంది?

- (A) చెట్టు
- (B) గుట్ట
- (C) గట్టు
- (D) పుట్ట

18. 'కష్టాలు' అనే పదానికి ఏకవచనం ఏది?

- (A) కష్ట
- (B) కష్టం
- (C) కష్టా
- (D) కష్టా

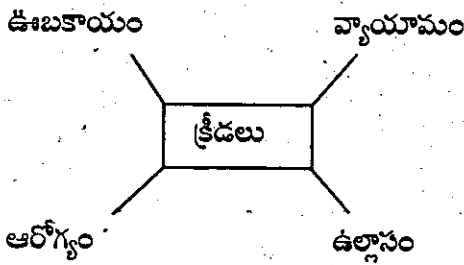
19. మానవులకు ఎంత మాత్రం లేవు.

- (A) దయాదాక్షిణ్యాలు
- (B) బుద్ధిజ్ఞానం
- (C) అందచందాలు
- (D) వీటిలో ఏదీ కాదు.

20. 'అడవి' అనే పదానికి అదే అర్థాన్నిచ్చే మరో పదం ఏది?

- (A) అంబరం
- (B) అంగడి
- (C) ఎడారి
- (D) అరణ్యం

21. క్రింది వానిలో క్రీడలకు సంబంధించని పదాన్ని గుర్తించండి.



- (A) వ్యాయామం
- (B) ఉల్లాసం
- (C) ఊబకాయం
- (D) ఆరోగ్యం

22. తెలంగాణ తల్లి నేలలో తరగని గనులు.

- (A) రంగరేణి
- (B) సింగరేణి
- (C) మధురవాణి
- (D) సిరివేణి

23. ఋతువులు ఎన్ని?

- (A) 4
- (B) 5
- (C) 6
- (D) 3

24. వినాయక చవితిని సాంఘిక సంబరంగా ఏ సంవత్సరంలో నిర్వహించారు?

- (A) 1852
- (B) 1856
- (C) 1837
- (D) 1892

25. అనూయక శిష్యుల కథ.

- (A) పరమానందయ్య శిష్యుల కథ
- (B) సదానందయ్య శిష్యుల కథ
- (C) పేదరాసి పెద్దమ్మ కథ
- (D) బేతాళ కథ

English

26. He was shocked that he punished.
(A) has been
(B) had been
(C) have been
(D) was
27. The young one of a goat is a
(A) lamb
(B) cub
(C) calf
(D) kid
28. A large deep spoon with a long handle is called a
(A) Tea spoon
(B) Ladle
(C) Spatula
(D) Fork
29. Identify the wrong sentence.
(A) He spoke to her kindly.
(B) My friends rarely come to visit me.
(C) She writes neatly.
(D) Raju runs fastly.
30. A person who robs others at sea, is called a
(A) thief
(B) pirate
(C) robber
(D) caravan
31. Choose the most appropriate sentence.
(A) Prasanna took out her water bottle and did not drink water from it.
(B) Prasanna took out her water bottle so did not drink water from it.
(C) Prasanna took out her water bottle but did not drink water from it.
(D) Prasanna took out her water bottle but Prasanna did not drink water from it.

32. Which of the following words does not convey a pleasant feeling ?
- (A) nice
 - (B) lovable
 - (C) tough
 - (D) soft
33. The ball is the table.
- (A) on
 - (B) in
 - (C) of
 - (D) to
34. Which of the following can you do with your nose ?
- (A) yawning
 - (B) sneezing
 - (C) snapping
 - (D) winking
35. Choose the correct punctuation mark to be used in the underlined part.
What a beautiful flower
- (A) ?
 - (B) !
 - (C) .
 - (D) ,

36. Write the opposite of the underlined word.
I tasted a sweet orange.
- (A) sour
 - (B) tasty
 - (C) sweat
 - (D) delicious
37. Identify the wrong interrogative sentence in the following.
- (A) What is happening in the picture ?
 - (B) What would have happening before ?
 - (C) What would happen next ?
 - (D) What could be the dialogue between the two boys ?
38. Identify the wrongly spelt word.
- (A) Skilfull
 - (B) arrogant
 - (C) disheartened
 - (D) obedient
39. A of wolves.
- (A) group
 - (B) flock
 - (C) herd
 - (D) pack
40. How would you ask your friend 'a book' in a polite way ?
- (A) Give me a book.
 - (B) Give a book.
 - (C) Could you please give me a book ?
 - (D) Oh ! a book.

41. Our house is smaller than a coconut tree.
What does the underlined word describe ?
(A) quality
(B) quantity
(C) size
(D) age
42. Find the opposite of 'Shriek'.
(A) whisper
(B) brave
(C) cry
(D) dare
43. My house is the river.
(A) on
(B) beside
(C) besides
(D) in
44. Identify the parts of speech of the underlined word.
"Give me your right thumb ."
(A) noun
(B) pronoun
(C) verb
(D) adverb
45. Which word in the following is pronounced as the underlined word ?
I like good food.
(A) foot
(B) blood
(C) wool
(D) cool

Read the following passage.

A group of monkeys decided to go on a fast one day.

"Before we begin, I think we should keep the food ready with which we'll break the fast", said the monkey chief. The monkeys agreed. The youngsters were sent in search of food. They returned with huge bunches of delicious, looking bananas. "I think each of us should keep our share of bananas with us before we begin our fast, so that we don't spend time distributing them after we break our fast. You can imagine how hungry we will all be by then!" said the chief's wife.

Now answer the following questions.

46. Choose the opposite of agreed.
- (A) accepted
 - (B) refused
 - (C) shouted
 - (D) liked
47. "Before we begin". What are they going to begin ?
- (A) to sleep
 - (B) to play
 - (C) to eat bananas.
 - (D) to go on a fast.
48. By the time they break their fast, they will be
- (A) happy
 - (B) healthy
 - (C) active
 - (D) hungry
49. Who brought food ?
- (A) The old monkeys.
 - (B) The female monkeys.
 - (C) The youngsters.
 - (D) The male monkeys.
50. What is the meaning of delicious ?
- (A) tasteless
 - (B) hot
 - (C) tasty
 - (D) ugly

MATHEMATICS

గణితము

51. How many days are there in a Leap year ?

లీప్ సంవత్సరములో ఎన్ని రోజులు ఉంటాయి?

- (A) 365
- (B) 364
- (C) 366
- (D) 367

52. 3 parts taken from 5 equal parts is

5 సమాన భాగాల నుండి 3 సమాన భాగాలను తీసిన భిన్నరూపము

- (A) $\frac{2}{5}$
- (B) $\frac{3}{5}$
- (C) $\frac{5}{3}$
- (D) $\frac{5}{2}$

53. In 9 liters, ml are there.

9 లీటర్లలో ఎన్ని మిల్లీలీటర్లు కలవు?

- (A) 90
- (B) 900
- (C) 9900
- (D) 9000

Space for Rough Work

54. What number will be next in the pattern 5, 8, 11, 14, 17, ?

5, 8, 11, 14, 17, తరువాత వచ్చు సంఖ్య ఏది?

(A) 20

(B) 19

(C) 18

(D) 17

55. Match box has corners.

అగ్గిపెట్టెకి మూలలు ఉండును.

(A) 5

(B) 6

(C) 7

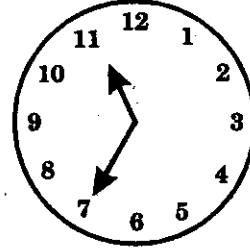
(D) 8

Space for Rough Work

56. What is the time shown by the clock ?

గడియారం తెలిపే సమయం ఎంత?

- (A) 11:00
(B) 10:35
(C) 11:30
(D) 11:35



57. I am a three digit number. I have 2 in hundreds place, 1 in tens place. If you reverse my number, then no change in my number. Who am I ?

నేను 3 అంకెల సంఖ్యను. వందల సంఖ్య స్థానంలో 2, పదుల స్థానంలో 1 ఉన్నాయి. ఒకవేళ నా సంఖ్యను తారుమారు చేసినా నా సంఖ్యలో మార్పు లేదు. ఐన నేనేవరిని?

- (A) 222
(B) 212
(C) 221
(D) 122

58. Arrange the following numbers in an ascending order.

దిగువ సంఖ్యలను ఆరోహణక్రమంలో వ్రాయండి.

19, 43, 26, 12, 156

- (A) 156, 43, 26, 19, 12
(B) 12, 19, 43, 156, 26
(C) 19, 12, 43, 26, 156
(D) 12, 19, 26, 43, 156

Space for Rough Work

59. Expanded form of the number 783.

783 సంఖ్యను విస్తరించి వ్రాయగా

- (A) $700+8+30$
- (B) $700+80+3$
- (C) $70+800+3$
- (D) $700+80+30$

60. If 8 mangoes cost ₹ 56, then how much does one mango cost ?

8 మామిడి పండ్ల వెల ₹ 56 అయితే, ఒక్క మామిడి పండు వెల ఎంత?

- (A) 6
- (B) 7
- (C) 8
- (D) 5

61. Which is the largest 3 digit number ?

మూడంకెల పెద్ద సంఖ్య ఏది?

- (A) 919
- (B) 900
- (C) 989
- (D) 999

Space for Rough Work

62. If two meters divided into four equal parts, each part is equal to in cm.

రెండు మీటర్లని 4 సమాన భాగాలుగా విడదీసిన, ప్రతి భాగము సెం.మీ. లకు సమానము.

(A) 25

(B) 100

(C) 50

(D) 125

63. What is the remainder, when 63 divided by 7 ?

63 ని 7 చే భాగించగా వచ్చు శేషము

(A) 0

(B) 1

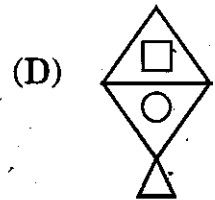
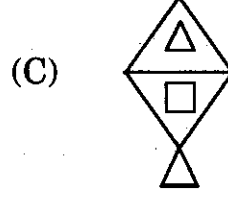
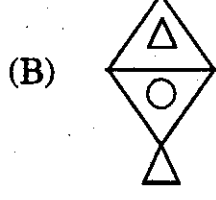
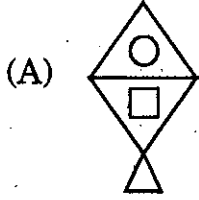
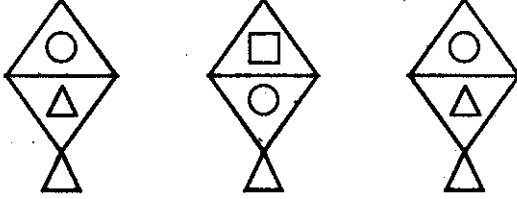
(C) 2

(D) 3

Space for Rough Work

64. Carry forward these pattern.

క్రీంది వాటి అమరికను పొడిగించండి.



65. The product of two numbers is 42, if one of the numbers is 7. What is the second number ?

రెండు సంఖ్యల లబ్ధము 42. అందులో ఒక సంఖ్య 7 ఐన రెండవ సంఖ్య ఎంత?

- (A) 4
- (B) 5
- (C) 6
- (D) 7

Space for Rough Work

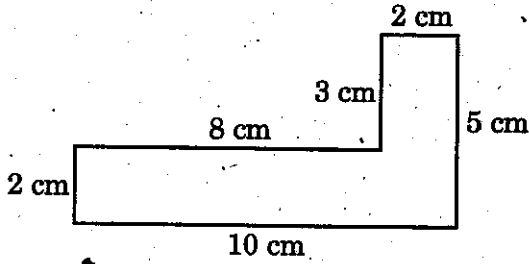
66. Which digit is exactly divisible into two equal halves ?

ఇచ్చిన అంకెలలో ఏ అంకెను రెండు సమాన భాగాలుగా విభజించవచ్చు?

- (A) 1 (B) 2
(C) 5 (D) 6

67. Find the perimeter of the given figure.

ఇచ్చిన పటానికి చుట్టుకోలత కనుక్కోండి.

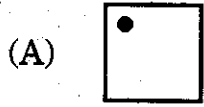


- (A) 23
(B) 30
(C) 27
(D) 25

Space for Rough Work

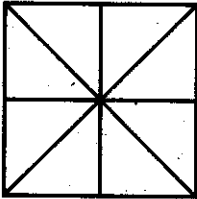
68. What is the next figure ?

తరువాత పచ్చు పటం.



69. How many squares are there in the given figure ?

ఇచ్చిన పటంలో ఎన్ని చతురస్రాలు కలవు?



(A) 2

(B) 3

(C) 5

(D) 4

Space for Rough Work

70. Which among the following shows a horizontal line ?

క్రింద ఇవ్వబడిన దానిలో అడ్డుగీత ఏది?

- (A) |
(B) —
(C) /
(D) None of these. / (ఏటిలో ఏదీకాదు.)

71. How many tens are there in a thousand ?

ఒక వేయిలో ఎన్ని పదులు ఉన్నాయి?

- (A) 1
(B) 10
(C) 100
(D) 1000

72. How many minutes are there in 60 hours ?

60 గంటలలో ఎన్ని నిమిషాలు ఉండును?

- (A) 36
(B) 360
(C) 3600
(D) 60

Space for Rough Work

73. What number will be the next in the pattern ?

9, 6, 18, 12,

9, 6, 18, 12, తరువాత వచ్చు సంఖ్య ఏది?

(A) 18

(B) 27

(C) 24

(D) none of these. / (ఏటిలో ఏదీ కాదు)

74. What is the place value of the underlined digit in the number 5321 ?

5321 సంఖ్యలో గీత గీయబడిన అంకె యొక్క సరైన స్థానవిలువ ఎంత?

(A) 3

(B) 300

(C) 30

(D) 3000

75. Tendulkar scored 184 runs in a match and Yuvaraj Singh scored 48 runs less than him. How many runs did Yuvaraj Singh score in the match ?

క్రికెట్ ఆటలో ఒక మ్యాచులో సచిన్ 184 పరుగులు చేశాడు. యువరాజ్ సింగ్ అతడికన్నా 48 పరుగులు తక్కువ చేసిన, యువరాజ్ చేసిన పరుగులెన్ని?

(A) 133

(B) 136

(C) 163

(D) 126

Space for Rough Work

Environmental Science

పరిసరాల విజ్ఞానము

76. The below court is related to which game ?

ఈ క్రింది కోర్టు ఏ ఆటకు సంబంధించినది?

Sitting Box కూర్చునే స్థలం	End Line చివరి గీత	Bark Line తొక్కుడు గీత	Middle Line మధ్య గీత	Bark Line తొక్కుడు గీత	End Line చివరి గీత	Sitting Box కూర్చునే స్థలం

(A) Cricket

క్రికెట్

(B) Tennis

టెన్నిస్

(C) Kabaddi

కబడ్డీ

(D) Chess

చెస్

77. Our Telangana State Government declared as the State animal.

(A) Deer

(B) Elephant

(C) Tiger

(D) Lion

మన రాష్ట్ర ప్రభుత్వం ఈ క్రింది జంతువును రాష్ట్ర జంతువుగా ప్రకటించారు.

(A) జింక

(B) ఏనుగు

(C) పులి

(D) సింహం

78. Now a days, bus tickets are issued by machines. This is called

- (A) Caller machine.
- (B) Ticket issuing machine.
- (C) Weighing machine.
- (D) Typing machine.

బస్సులలో ఇప్పుడు మెషిన్ ద్వారా టికెట్స్ ఇస్తున్నారు. వీనిని అంటారు.

- (A) కాలర్ మెషిన్
- (B) టికెట్ ఇష్యూయింగ్ మెషిన్
- (C) బరువు చూపే మెషిన్
- (D) టైపింగ్ మెషిన్

79. Do not use while driving.

- (A) Helmet
- (B) Seat belt
- (C) Cellphone
- (D) Signals

వాహనములు నడుపునపుడు వీటిని ఉపయోగించరాదు.

- (A) హెల్మెట్
- (B) సీట్ బెల్ట్
- (C) సెల్ ఫోన్
- (D) సిగ్నల్స్

80. Udayapur, which is in the State of Rajasthan, is called the

- (A) City of lakes.
- (B) City of lamps.
- (C) City of temples.
- (D) City of schools.

రాజస్థాన్ రాష్ట్రంలోని ఉదయిపూర్ నగరాన్ని అంటారు.

- (A) సరస్సుల నగరం
- (B) దీపాల నగరం
- (C) ఆలయాల నగరం
- (D) పాఠశాలల నగరం

81. I have four legs

I give milk

I eat grass and leaves

Who am I ? Who am I ?

(A) Frog

(B) Fish

(C) Lion

(D) Cow

నాకు నాలుగు కాళ్ళున్నాయి

నేను పాలిచ్చు జీవిని

నేను గడ్డిని, ఆకులను, ఆహారంగా తీసుకుంటాను

నేనెవరిని ? నేనెవరిని ?

(A) కప్ప

(B) చేప

(C) సింహం

(D) ఆవు

82. Which group belongs to Insects ?

(A) Mosquito, Housefly, Butterfly

(B) Dog, Cat, Rat

(C) Elephant, Lion, Tiger

(D) Crow, Sparrow, Crane

ఈ క్రింది వానిలో ఏ గ్రూపు కీటకాలకు సంబంధించినది?

(A) దోమ, ఈగ, సీతాకోకచిలుక

(B) కుక్క, పిల్లి, ఎలుక

(C) ఏనుగు, సింహం, పులి

(D) కాకి, పిచ్చుక, కొంగ

83. was built by king Ashoka.
(A) Saranath Stupa.
(B) Buddha Stupa.
(C) Telangana Amaraveera Stupa.
(D) Qutub Minar.

..... అశోకుడు నిర్మించాడు.

- (A) సారనాథ్ స్థూపం
(B) బుద్ధ స్థూపం
(C) తెలంగాణా అమరవీరుల స్థూపం
(D) కుతుబ్ మినార్

84. is the father of Rudrama Devi.
(A) Mahatma Gandhi
(B) Ganapathi Deva
(C) Gouthamiputhra Sathakarni
(D) Gomateshwar

రుద్రమదేవి తండ్రి పేరు

- (A) మహాత్మా గాంధీ
(B) గణపతిదేవుడు
(C) గౌతమీపుత్ర శాతకర్ణి
(D) గోమతేశ్వరుడు

85. The trains that run through our state are maintained by
- (A) Eastern Railway.
(B) Konkan Railway.
(C) South Central Railway.
(D) Northern Railway.

మన రాష్ట్రంలో రైళ్ళను సంస్థ నిర్వహిస్తుంది.

- (A) ఈస్టర్న్ రైల్వే
(B) కొంకణ్ రైల్వే
(C) దక్షిణ మధ్య రైల్వే
(D) నార్తరన్ రైల్వే

86. is located in Hyderabad.

- (A) Krishna
- (B) Godavari
- (C) Hussain Sagar
- (D) Yamuna

..... హైదరాబాద్‌లో ఉన్నది.

- (A) క్రిష్ణా
- (B) గోదావరి
- (C) హుస్సేన్‌సాగర్
- (D) యమున

87. Anaemia is caused due to in the stomach.

- (A) Earthworm
- (B) Ringworm
- (C) Tapeworm
- (D) Mosquito

కడుపులో ఉంటే రక్తహీనత ఏర్పడుతుంది.

- (A) వానపాము
- (B) నట్టలు
- (C) బద్దెపురుగులు
- (D) దోమలు

88. Panagal tank in Nalgonda district is also called as

- (A) Erra Samudram.
- (B) Nalla Samudram.
- (C) Udaya Samudram.
- (D) Vijaya Samudram.

నల్లగొండ జిల్లాలో పానగల్లు చెరువును మరో పేరుతో పిలుస్తారు

- (A) ఎర్ర సముద్రం
- (B) నల్ల సముద్రం
- (C) ఉదయ సముద్రం
- (D) విజయ సముద్రం

89. game is example for indoor game.

- (A) Cricket
- (B) Hockey
- (C) Chess
- (D) Football

క్రింది వానిలో ఏ ఆట ఇంటిలో ఆడగలిగినది?

- (A) క్రికెట్
- (B) హాకీ
- (C) చెస్/చదరంగము
- (D) ఫుట్ బాల్

90. animal is used to play the 'POLO' game.

- (A) Camel
- (B) Horse
- (C) Elephant
- (D) Deer

ఈ క్రింది వానిలో జంతువును 'పోలో' ఆటలో ఉపయోగించెదరు.

- (A) ఒంటె
- (B) గుర్రం
- (C) ఏనుగు
- (D) జింక

91. The people use Braille script to read.

- (A) blind
- (B) dumb
- (C) deaf
- (D) none of these

బ్రెయిలీ లిపి నుపయోగించి చదవగలిగేవారు

- (A) అంధులు
- (B) మూగ
- (C) చెవిటి
- (D) వీటిలో ఏదీకాదు

92. Honeybees, butterflies and beetles rest on the flower and suck their

- (A) nectar
- (B) water
- (C) minerals
- (D) none of these

తేనెటీగలు, సీతాకోకచిలుకలు మరియు తుమ్మెదలు పూలపై వారి పీల్చుతాయి.

- (A) మకరందము
- (B) నీరు
- (C) లవణాలు
- (D) వీటిలో ఏదీకాదు

93. help the plant to stand erect.

- (A) Stem
- (B) Leaf
- (C) Fruit
- (D) Root

మొక్క నిటారుగా ఉండటానికి భాగము సహాయపడును.

- (A) కాండము
- (B) ఆకు
- (C) పండు/కాయ
- (D) వేరు

94. Act is the right to get the required information from Public Institutions (Govt. Offices).

- (A) Right to education.
- (B) Right to information.
- (C) Right to talk.
- (D) Right to express.

ప్రభుత్వ కార్యాలయాల నుండి కోరుకున్న సమాచారాన్ని మనం పొందడానికి ఉద్దేశించిన చట్టము

- (A) విద్యా హక్కు
- (B) సమాచార హక్కు
- (C) మాట్లాడే హక్కు
- (D) భావ స్వేచ్ఛ

95. is the 'farmers friend'.

- (A) Plastic
- (B) Weeds
- (C) Earthworm
- (D) Lizard

..... ను 'రైతు మిత్రుడు' అంటారు.

- (A) ప్లాస్టిక్
- (B) కలుపు మొక్కలు
- (C) వానపాము
- (D) బల్లి

96. can't be eaten without cooking.

- (A) Carrot
- (B) Tomato
- (C) Cucumber
- (D) Brinjal

కూర చేయకుండా నన్ను ఆహారంగా తీసుకోలేరు.

- (A) కారట్
- (B) టమాటో
- (C) దోసకాయ
- (D) వంకాయ

97. The home is built with wood. We can find it in

- (A) deserts
- (B) cyclonic zones
- (C) cold regions
- (D) earthquake zones

చెక్కలతో ఇండ్లను ఎలాంటి ప్రాంతాలలో నిర్మిస్తారు?

- (A) ఎడారిలో
- (B) తరచుగా తుఫానులు వచ్చు ప్రాంతాలలో
- (C) అతిశీతల ప్రాంతాలలో
- (D) భూకంపాలు వచ్చు ప్రాంతాలలో

98. Snake recognises the sounds by its

- (A) ears
- (B) skin
- (C) eyes
- (D) nose

పాము అలికిడి, ధ్వనులను ఈ క్రింది అవయవాలతో గుర్తిస్తుంది.

- (A) చెవులు
- (B) చర్మం
- (C) కళ్ళు
- (D) ముక్కు

99. In Srinagar, tourists live in boat houses called on the river Jhelum.

- (A) Donga
- (B) Bonda
- (C) Remo
- (D) Gussadi

శ్రీనగర్ లోని జీలం నదిపై అనే పడవ గృహాలలో యాత్రికులు విహరిస్తారు.

- (A) డోంగా
- (B) బోండా
- (C) రెమో
- (D) గుస్సాడి

100. Full form of MRO

- (A) Mandal Resource officer.
- (B) Mandal Route officer.
- (C) Mandal Revenue officer.
- (D) Mandal Reasoning officer.

యమ్.ఆర్.ఓ. పూర్తి పేరు

- (A) మండల రిసోర్స్ ఆఫీసర్
- (B) మండల రూట్ ఆఫీసర్
- (C) మండల రెవిన్యూ ఆఫీసర్
- (D) మండల రీజనింగ్ ఆఫీసర్