

Nom : _____

Cours 10.a : L'aire du carré

L'aire correspond à la mesure de la _____ délimitée par une figure plane.

On exprime l'aire à l'aide de mesure à deux dimensions (cm^2 , m^2 , etc.).

On peut calculer l'aire d'une surface à partir de formules précises.



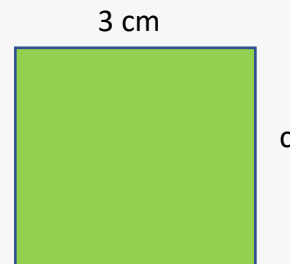
L'aire du carré

$$A = \text{côté} \times \text{côté}$$

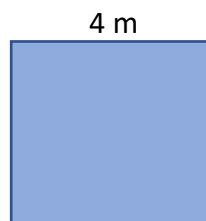
$$= c \times c$$

$$= \underline{\hspace{2cm}}$$

$$3^2 \text{ ou } 3 \times 3 = \underline{\hspace{2cm}}$$




Trouve l'aire des carrés suivants.



Formule :

Réponse : _____



Formule :

Réponse : _____

On exprime l'aire à l'aide de mesure à deux dimensions (cm^2 , m^2 , etc.).