

Nom : _____

L'aire du rectangle

L'aire correspond à la mesure de la surface délimitée par une figure plane.

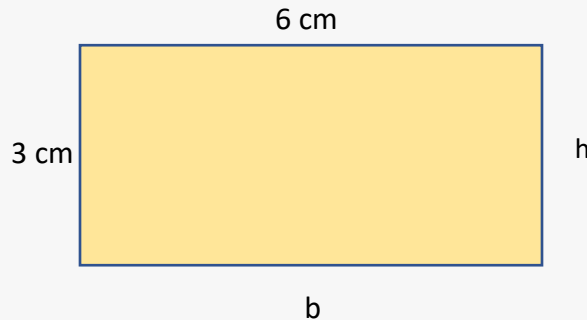
On exprime l'aire à l'aide de mesure à _____ (cm², m², etc.).

L'aire du rectangle

$$A = \text{base} \times \text{hauteur}$$


$$= \underline{\hspace{2cm}}$$

$$6 \times 3 = \underline{\hspace{2cm}}$$



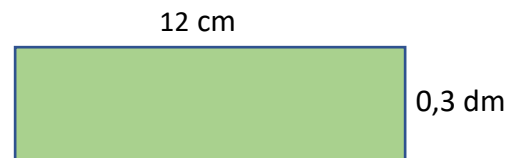
On peut aussi utiliser comme formule longueur x largeur (L x l).

Trouve l'aire des figures suivantes.



Formule :

Réponse : _____



Formule :

Réponse : _____

On exprime l'aire à l'aide de mesure à deux dimensions (cm², m², etc.).