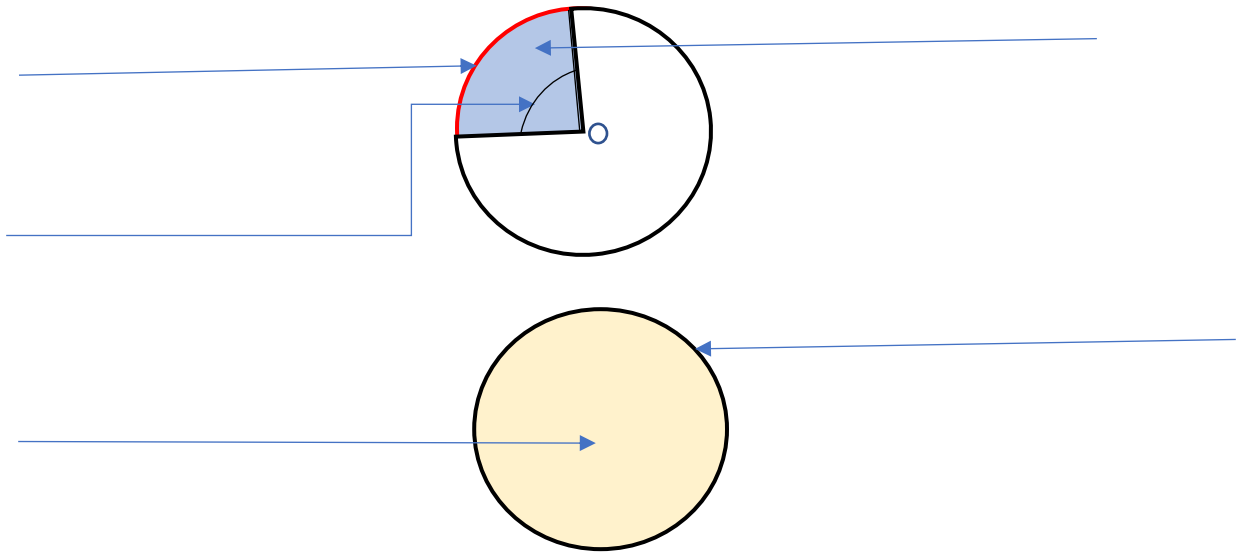


Nom : \_\_\_\_\_

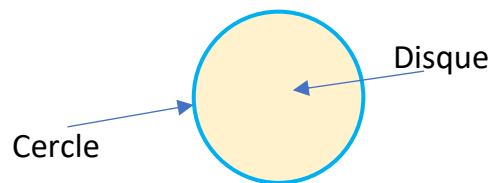
### COURS 15 : LE DISQUE, L'ANGLE AU CENTRE, LE SECTEUR ET L'ARC DE CERCLE

Place les mots aux bons endroits

Angle au centre	Le secteur d'un disque	L'arc de cercle
	Cercle	Disque

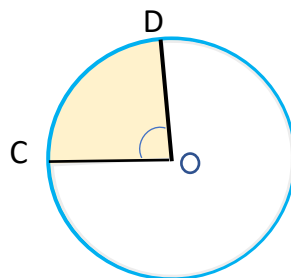


Un **disque** est une \_\_\_\_\_ délimitée par un cercle.

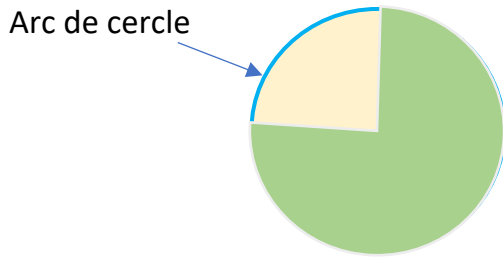


Un **angle au centre** est formé par deux \_\_\_\_\_ d'un cercle. Le sommet de cet angle se situe au centre du cercle.

Voici, l'angle de centre COD

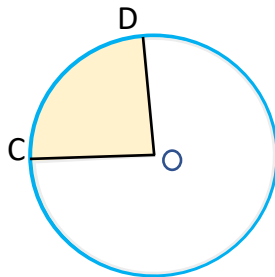


**Un arc de cercle** représente une \_\_\_\_\_ de la circonférence du cercle.  
Il est formé par la rencontre de deux rayons sur la circonférence.



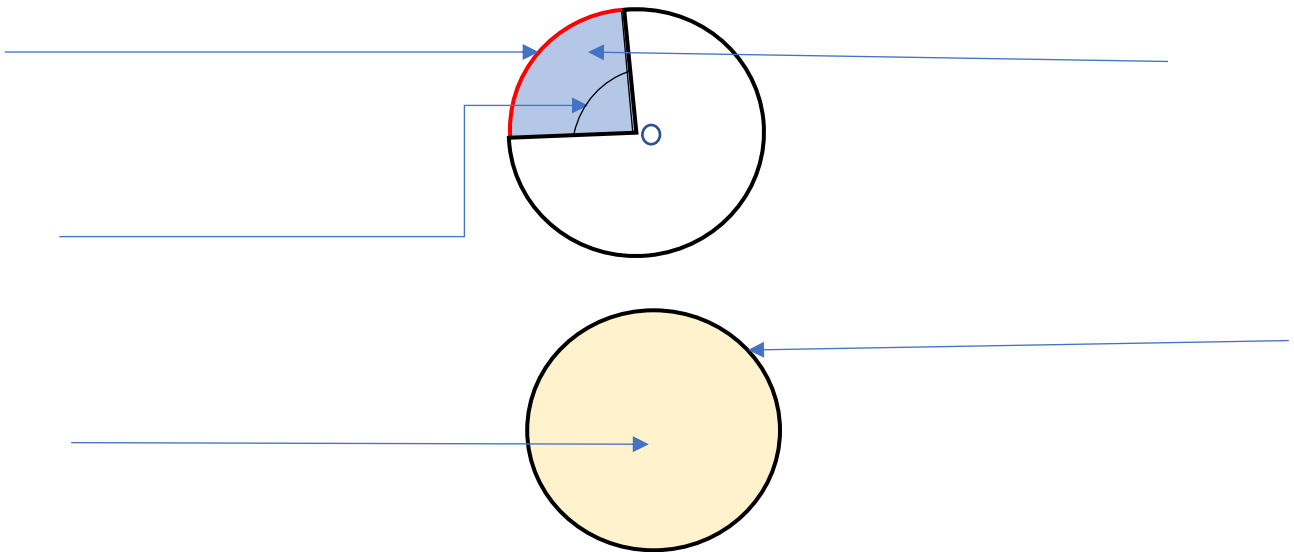
**Le secteur d'un disque** est une \_\_\_\_\_ du disque ou une section de l'aire totale du disque.

Voici, l'aire de secteur COD



Place les mots aux bons endroits

Angle au centre	Le secteur d'un disque	L'arc de cercle
	Cercle	Disque



SUPER!