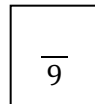


Nom : _____

Les 4 opérations sur les nombres entiers

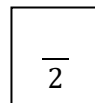
ÉVALUATION



1- Complète.

- a) $4 - (+4) + (-3) =$ _____ b) $5 + (-2) - (-6) - (+3) =$ _____ c) $7 - 9 - 2 =$ _____
- d) $-5 + (-2) - (-5) - 3 =$ _____ e) $9 - 4 + 9 - (-6) + 1 =$ _____ f) $6 - (+4) - (-10) =$ _____
- g) L'opposé de $-5 =$ _____ h) L'opposé de $34 =$ _____ i) L'opposé de $-10 =$ _____

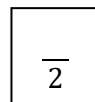
2- Mets en ordre croissant ces nombres.



765 -987 453 976 -543 -67 12

_____ < _____ < _____ < _____ < _____ < _____ < _____

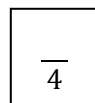
3- Mets en ordre décroissant ces nombres.



1234 -86 -5432 876 -8752 -4 -231

_____ > _____ > _____ > _____ > _____ > _____ > _____

4- Compare les nombres suivants à l'aide des symboles < ou >.



- a) -764 _____ -986 b) -987 _____ 763 c) 7865 _____ 5432 d) -87 _____ -98

5- Effectue les calculs.

a) $7 \times (-3) =$ _____

e) $-14 \div (-7) =$ _____

b) $-4 \times (-6) =$ _____

f) $27 \div (-3) =$ _____

c) $40 \div 5 =$ _____

g) $-5 \times 7 =$ _____

d) $-24 \div 12 =$ _____

h) $-18 \div (-2) =$ _____

